

Examenul de bacalaureat 2011
Proba E.d)
Proba scrisă la GEOGRAFIE

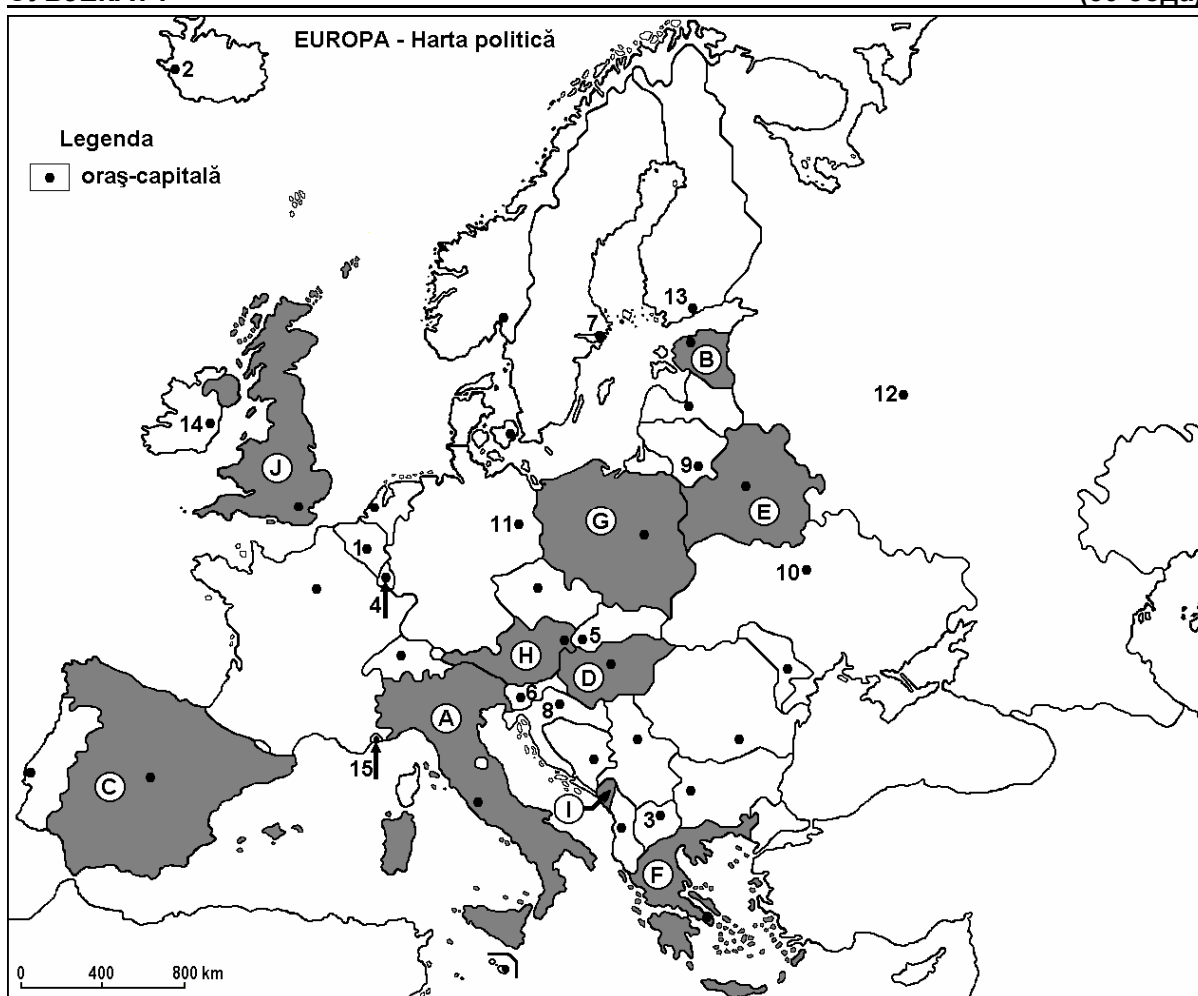
Varianta 9

Filiera teoretică, profilul umanist, specializările: filologie, științe sociale; filiera tehnologică, profilul servicii, toate specializările; Filiera vocațională: profil artistic, specializările: muzică, coregrafie, arta actorului, arhitectură, arte ambientale și design, arte plastice, arte decorative; profil sportiv, toate specializările; profil pedagogic, specializările: învățător/educatoare, bibliotecar-documentarist, instructor-animator, instructor pentru activitățile extrașcolare, pedagog școlar; profil ordine și securitate publică (Licee ale Ministerului Administrației și Internelor) specializarea științe sociale; profil teologic, toate specializările.

- Toate subiectele sunt obligatorii. Se acordă 10 puncte din oficiu.
- Timpul efectiv de lucru este de 3 ore.

СУБЈЕКАТ I

(30 бода)



Горе наведена карта односи се на субјекат I A – D. На карти јесу обележене државе словима и градови-престонице бројевима.

A. Одредите:

1. име државе обележене на карти словом **E**;
2. име града-престонице обележен на карти бројем **12**.

4 бода

B. Напишите тачне одговоре који попуњавају следеће исказе:

1. Држава обележена на карти словом **G** зове се ...

2. Престоница државе обележена на карти словом **F** зове се ...

3. Град-престоница обележен на карти бројем **14** зове се ...

6 бода

C. Напишите слово које одговара тачном одговору за доње исказе :

1. Држава обележена на карти словом **I** зове се се нумеђе:

a. Албанија b. Црна Гора c. Србија d. Словенија **2 бода**

2. Острва Сицилија и Сардинија припадају држави обележен на карти словом:

a. A b. C c. F d. I **2 бода**

3. Један део Планине Пиринеји налазе се на територији државе обележена на карти словом:

a. A b. C c. G d. J **2 бода**

4. Јесте уставна монархија држава обележена на карти словом:

a. A b. D c. G d. J **2 бода**

5. Град-престоница обележен на карти бројем **8** зове се:

a. Љубљана b. Сарајево c. Скопље d. Загреб **2 бода**

D. Одредите три разлике између климе државе означене на карти словом **A** и климе државе означене на карти са словом **J**.

Напомена 1 Разлике се могу односити на било који елемент климе : врсте климе, климатски спрат, генетски фактори, средње годишње температуре/лето/зима, термичка амплитуда, средње годишње падавине /лето/зима, ветрови који имају високу учесталост.

Напомена 2: Потпуно бодовање додељује се само ако се разлике представљају компаративно а не одвојено.

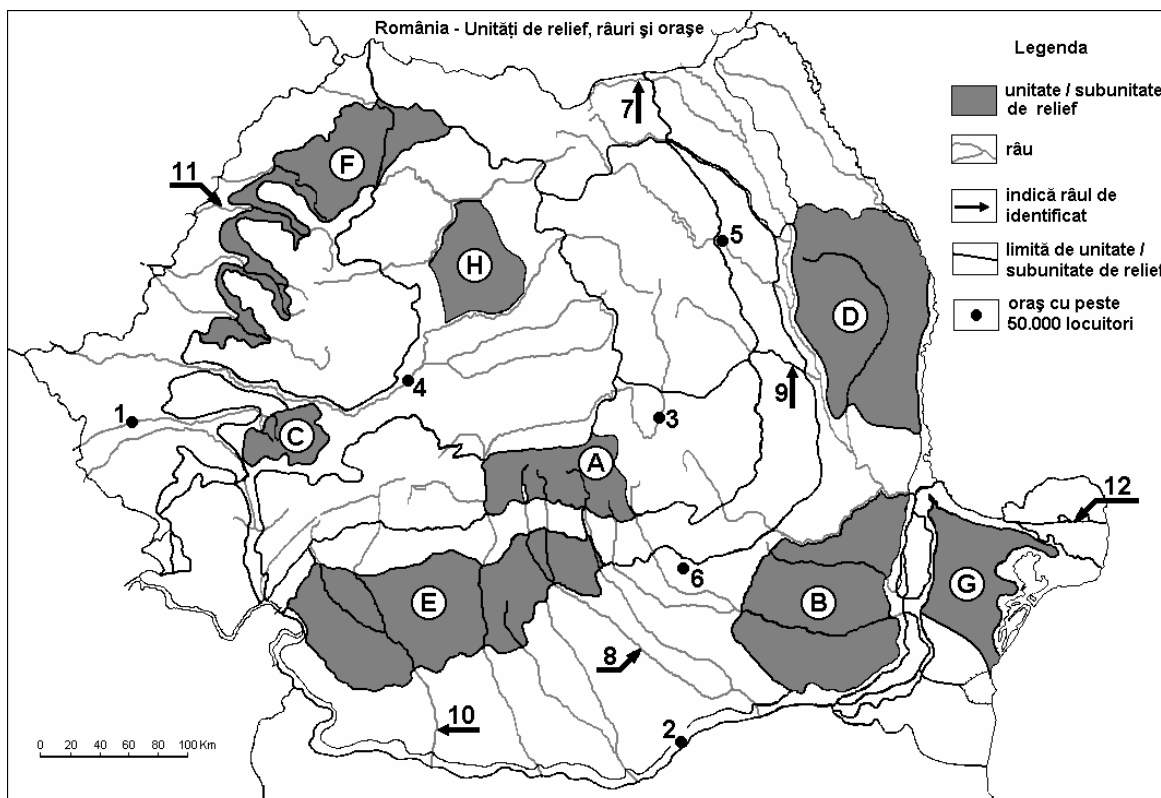
6 бода

E. Представите два узрока који су допринели појављивању, нестајању или територијалној промени неких европских држава

4 бода

SUBIECTUL al II-lea

(30 de puncte)



Harta de mai sus se referă la subiectul II A – D. Pe hartă sunt marcate unități de relief cu litere, orașe cu numere de la 1 la 6 și râuri cu numere de la 7 la 12.

A. Precizați:

1. numele orașului marcat, pe hartă, cu numărul 2;

2. numele râului marcat, pe hartă, cu numărul 8.

4 puncte

B. Scrieți, pe foaia de examen, răspunsurile corecte care completează afirmațiile de mai jos:

1. Râul marcat, pe hartă, cu numărul 9 se numește ...
2. Cel mai mare bazin de exploatare a lignitului se găsește în unitatea de relief marcată, pe hartă, cu litera ...
3. Orașul marcat, pe hartă, cu numărul 3 se numește ...

6 puncte

C. Scrieți, pe foaia de examen, litera corespunzătoare răspunsului corect pentru fiecare dintre afirmațiile de mai jos:

1. Râul marcat, pe hartă, cu numărul 11 se numește:
a. Barcău b. Crișul Alb c. Crișul Negru d. Crișul Repede 2 puncte
2. Orașul marcat, pe hartă, cu numărul 5 este străbătut de râul:
a. Bistrița b. Jijia c. Moldova d. Siret 2 puncte
3. Relief glaciar există în unitatea de relief marcată, pe hartă, cu litera:
a. A b. C c. F d. H 2 puncte
4. Petrol, cărbuni și gaze naturale există în unitatea de relief marcată, pe hartă, cu litera:
a. A b. D c. E d. G 2 puncte
5. Orașul marcat, pe hartă, cu numărul 6 se numește:
a. Pitești b. Ploiești c. Slobozia d. Târgoviște 2 puncte

D. Precizați trei deosebiri între **relieful** unității marcate, pe hartă, cu litera **D** și **relieful** unității marcate, pe hartă, cu litera **G**.

Nota 1: Deosebirile se pot referi la oricare dintre următoarele aspecte ale **reliefului**: mod de formare, tipuri de roci pe care s-a format relieful, altitudini, fragmentare, tipuri de relief, înclinare, dispunerea depresiunilor, alte aspecte specifice ale reliefului.

Nota 2: Punctajul complet va fi acordat numai dacă cele trei deosebiri vor fi prezentate comparativ și nu separat.

6 puncte

E. Prezentați:

1. o cauză care a determinat amplasarea unor rafinării la exteriorul Subcarpaților Curburii. 2 puncte
2. o cauză care explică diferența de temperatură medie anuală dintre sudul și nordul țării. 2 puncte

СУБЈЕКАТ III

2 puncte
(30 бода)

Доње графичко представљање односи се на субјекат III А - В и представља средњо месечне температуре у метеоролошкој станици Букурешт-Филарет 2006 године.

A. Одредите:

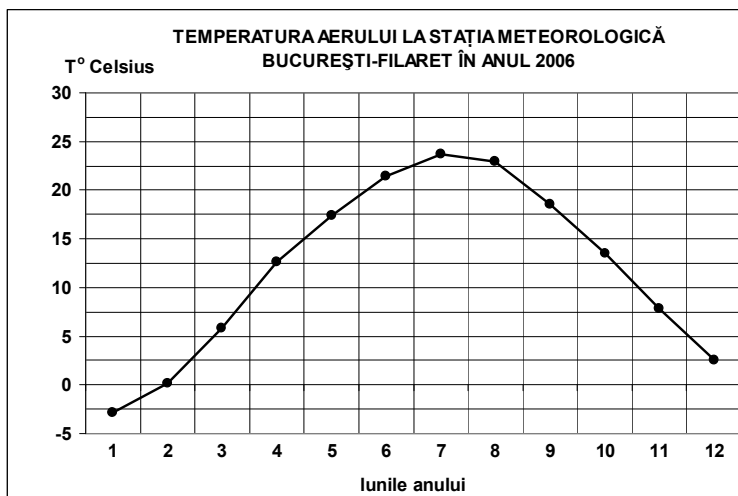
1. максималну вредност средњо месечне температуре као и месец у којој је записана;
2. минималну вредност средњо-месечне температуре као и месец у којој је записана.

4 бода

B. Напишите слово које одговара тачном одговору, за сваки исказ:

1. Термичка амплитуда је приближно :

- a. 14-16°C
- b. 17-19°C
- c. 20-22°C
- d. 25-27°C



2. Највећа разлика температуре између два узастопна месеца јесте:

- a. јануар и фебруар b. март и април
c. јуни и јули d. новембар и децембар

3. Температуре имају велику вредност у летњим месецима захваљујући продирању ваздушних маса:

- a. екваторијалне b. средоземне c. поларно-континенталне
d. поларно-морске

6 бода

C. За **Украјину**, одредите:

1. Две суседне државе , чланице Европске Уније;
2. Једно полуострво које припада дотичној држави;
3. Име двеју рељефних јединица;
4. Име двеју река;
5. Имена трију града.

10 бода

D. Доле наведена таблица представља допринос главних активности у остваривању Домаће Производње (ПИБ) 2007 године, у неколико европских држава.

Држава	Пољопривреда (%)	Индустрија(укључујући грађевинску) (%)	Услуге (%)
Швајцарска	1	28	71
Грчка	4	23	73
Румунија	7	41	52

Извор: Национални Институт за Статистику, извештај на нивоу 2007 године

Објасните:

1. велики допринос услуга и низак допринос пољопривреде у Домаћинској Производњи (ПИБ) Грчке;
2. већи допринос пољопривреде у Домаћинској Производњи Румуније него Домаћинска Производња Швајцарске;
3. мањи допринос услуга у Домаћинској Производњи Румуније него у Домаћинској Производњи Швајцарске.

6 бода

E. 1. Површина државе Малте јесте 316 km^2 , а 1 јула 2008 , становништво Малте било је 400.000 становника. Израчунајте средњу густину становништва *Calculați densitatea medie a populației*.

2. Објасните вредност средње густине становништва Малте, у поређењу са средњом густином становника Европе, која је 1 јула 2008 била приближно $71 \text{ становник/km}^2$.

4 бода