

Examenul de bacalaureat 2011
Proba E.d)
Proba scrisă la GEOGRAFIE

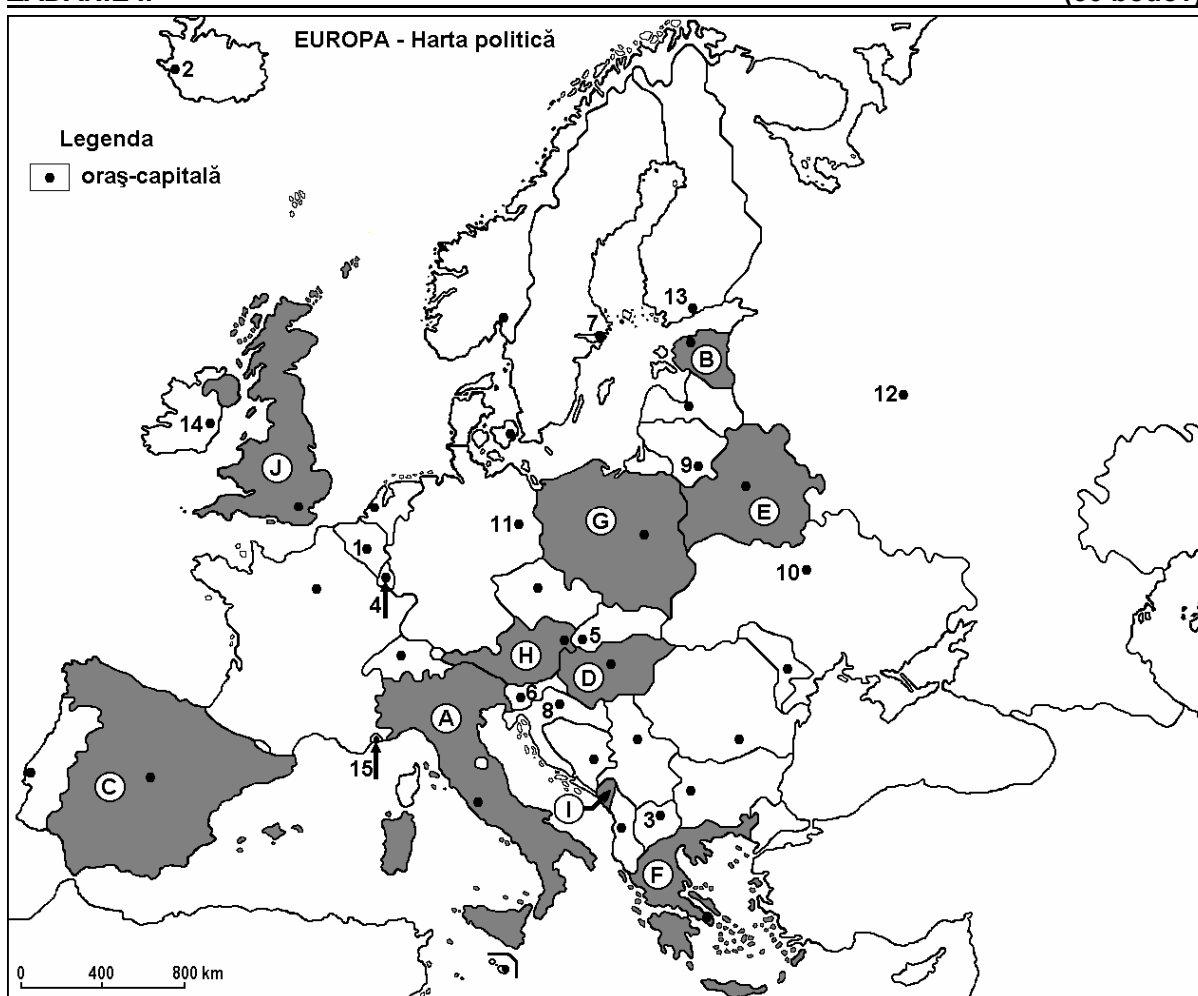
Varianta 9

Filiera teoretică, profilul umanist, specializările: filologie, științe sociale; filiera tehnologică, profilul servicii, toate specializările; Filiera vocațională: profil artistic, specializările: muzică, coregrafie, arta actorului, arhitectură, arte ambientale și design, arte plastice, arte decorative; profil sportiv, toate specializările; profil pedagogic, specializările: învățător/educatoare, bibliotecar-documentarist, instructor-animator, instructor pentru activitățile extrașcolare, pedagog școlar; profil ordine și securitate publică (Licee ale Ministerului Administrației și Internelor) specializarea științe sociale; profil teologic, toate specializările.

- Toate subiectele sunt obligatorii. Se acordă 10 puncte din oficiu.
- Timpul efectiv de lucru este de 3 ore.

ZADANIE I.

(30 bodov)



Dană mapa sa vzt'ahuje na zadanie I. A – D. Na mape sú označené písmenami štáty a čísliami hlavné mestá.

A. Spresnite:

1. názov štátu označeného na mape písmenom **E**;
2. názov hlavného mesta označeného na mape číslom **12**.

4 body

B. Na skúškový hárok napíšte správne odpovede, ktoré dopĺňajú nasledovné tvrdenia:

1. Štát označený na mape písmenom **G** je ...

2. Hlavné mesto štátu označeného na mape písmenom F je ...

3. Hlavné mesto označené na mape číslom 14 je ...

6 bodov

C. Na skúškový hárok napíšte písmeno zodpovedajúce správnej odpovedi pre každé z nasledujúcich tvrdení:

1. Štát označený na mape písmenom I je:

a. Albánsko b. Čierna Hora c. Srbsko d. Slovinsko 2 body

2. Ostrovy Sicília a Sardínia patria štátu označenému na mape písmenom:

a. A b. C c. F d. I 2 body

3. Časť Pyrenejských vrchov sa nachádza na území štátu označeného na mape písmenom:

a. A b. C c. G d. J 2 body

4. Ústavná monarchia je štát označený na mape písmenom:

a. A b. D c. G d. J 2 body

5. Hlavné mesto označené na mape číslom 8 je:

a. Ljubljana b. Sarajevo c. Skopje d. Záhreb 2 body

D. Spresnite tri rozdiely medzi **podnebním** štátu označeného na mape písmenom A a **podnebním** štátu označeného na mape písmenom J.

Poznámka 1: Rozdiely sa môžu vzťahovať na hociktoré z nasledovných **klimatických** prvkov: podnebný typ, podnebný stupeň, genetické činitele, ročné/zimné/letné priemerné teploty, tepelné amplitúdy, ročné/zimné/letné priemerné zrážky, časté vetry.

Poznámka 2: Úplné bodovanie sa udelí len ak rozdiely budú uvedené s porovnaním, nie zvlášť.

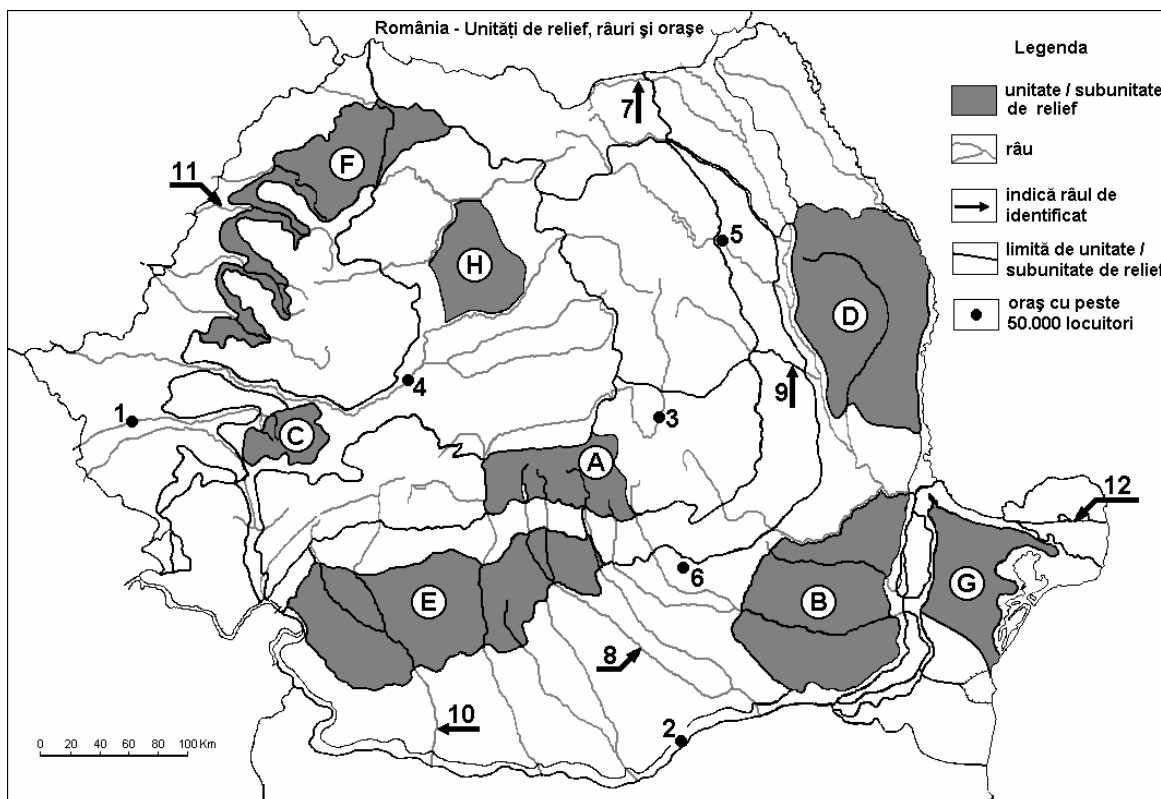
6 bodov

E. Spresnite dve príčiny, ktoré viedli k vzniku, zániku alebo zmene územia niektorých európskych štátov.

4 body

SUBIECTUL al II-lea

(30 de puncte)



Harta de mai sus se referă la subiectul II A – D. Pe hartă sunt marcate unități de relief cu litere, orașe cu numere de la 1 la 6 și râuri cu numere de la 7 la 12.

A. Precizați:

1. numele orașului marcat, pe hartă, cu numărul **2**;
2. numele râului marcat, pe hartă, cu numărul **8**.

4 puncte

B. Scrieți, pe foaia de examen, răspunsurile corecte care completează afirmațiile de mai jos:

1. Râul marcat, pe hartă, cu numărul **9** se numește ...
2. Cel mai mare bazin de exploatare a lignitului se găsește în unitatea de relief marcată, pe hartă, cu litera ...
3. Orașul marcat, pe hartă, cu numărul **3** se numește ...

6 puncte

C. Scrieți, pe foaia de examen, litera corespunzătoare răspunsului corect pentru fiecare dintre afirmațiile de mai jos:

1. Râul marcat, pe hartă, cu numărul **11** se numește:
a. Barcău b. Crișul Alb c. Crișul Negru d. Crișul Repede **2 puncte**
2. Orașul marcat, pe hartă, cu numărul **5** este străbătut de râul:
a. Bistrița b. Jijia c. Moldova d. Siret **2 puncte**
3. Relief glaciar există în unitatea de relief marcată, pe hartă, cu litera:
a. A b. C c. F d. H **2 puncte**
4. Petrol, cărbuni și gaze naturale există în unitatea de relief marcată, pe hartă, cu litera:
a. A b. D c. E d. G **2 puncte**
5. Orașul marcat, pe hartă, cu numărul **6** se numește:
a. Pitești b. Ploiești c. Slobozia d. Târgoviște **2 puncte**

D. Precizați trei deosebiri între relieful unității marcate, pe hartă, cu litera **D și relieful unității marcate, pe hartă, cu litera **G**.**

Nota 1: Deosebirile se pot referi la oricare dintre următoarele aspecte ale reliefului: mod de formare, tipuri de roci pe care s-a format relieful, altitudini, fragmentare, tipuri de relief, înclinare, dispunerea depresiunilor, alte aspecte specifice ale reliefului.

Nota 2: Punctajul complet va fi acordat numai dacă cele trei deosebiri vor fi prezentate comparativ și nu separat.

6 puncte

E. Prezentați:

1. o cauză care a determinat amplasarea unor rafinării la exteriorul Subcarpaților Curburii. **2 puncte**
2. o cauză care explică diferența de temperatură medie anuală dintre sudul și nordul țării. **2 puncte**

ZADANIE III.

(30 bodov)

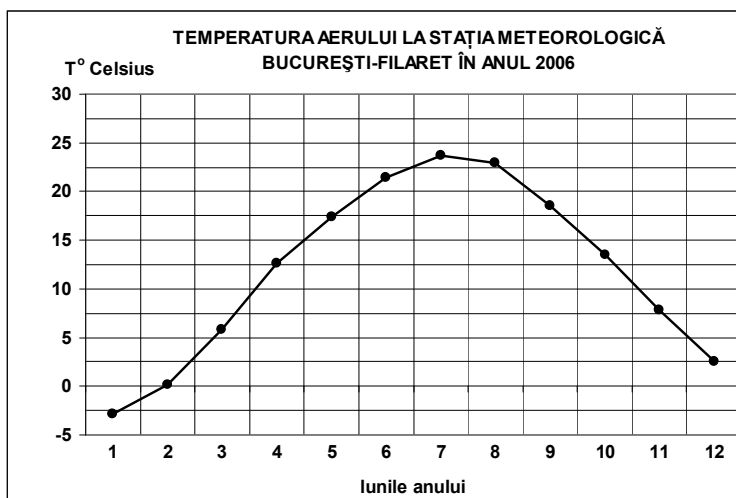
Nasledovný graf sa vzťahuje na zadanie III A – B a znázorňuje vývin priemerných mesačných teplôt na meteorologickej stanici București-Filaret v roku 2006.

A. Spresnite:

1. maximálnu hodnotu priemernej mesačnej teploty, ako aj mesiac, v ktorom sa dosahuje;
2. minimálnu hodnotu priemernej mesačnej teploty, ako aj mesiac, v ktorom sa dosahuje.

4 body

B. Na skúškový hárok napíšte písmeno zodpovedajúce správnej odpovedi pre každé z nasledujúcich tvrdení:



1. Tepelná amplitúda je približne:
a. 14-16°C b. 17-19°C c. 20-22°C d. 25-27°C
2. Najväčší rozdiel teplôt medzi dvoma za sebou idúcimi mesiacmi je medzi :
a. januárom a februárom b. marcom a aprílom
c. júnom a júlom d. novembrom a decembrom
3. Teploty majú vysoké hodnoty v letných mesiacoch následkom prísunu vzdušných mäs:
a. rovníkových b. stredomorských c. polárnych kontinentálnych d. polárnych morských
- 6 bodov**

C. Pre Ukrajinu spresnite:

1. dva susedné štáty, ktoré sú členské štáty Európskej únie;
2. jeden polostrov patriaci tomuto štátu;
3. názvy dvoch povrchových jednotiek;
4. názvy dvoch veľriek;
5. názvy troch miest.

10 bodov

D. Nasledujúca tabuľka uvádza podiel základných činností na tvorbe hrubého domáceho produktu v roku 2007, v niekoľkých európskych štátoch.

Krajina	Poľnohospodárstvo (%)	Priemysel (včítane stavebníctvo) (%)	Služby (%)
Švajčiarsko	1	28	71
Grécko	4	23	73
Rumunsko	7	41	52

Zdroj: Národný štatistický úrad, odhady na úrovni roka 2007

Vysvetlite:

1. vysoký podiel služieb a nízky podiel poľnohospodárstva na HDP Grécka;
2. väčší podiel poľnohospodárstva na HDP Rumunska než na HDP Švajčiarska;
3. nižší podiel služieb na HDP Rumunska než na HDP Švajčiarska.

6 bodov

- E. 1.** Rozloha štátu Malta je 316 km² a jej obyvateľstvo k 1. júlu 2008, počítalo 400.000 obyvateľov. Vypočítajte priemernú hustotu obyvateľstva.
- 2.** Vysvetlite hodnotu priemernej hustoty obyvateľstva Malty v porovnaní s priemernou hustotou obyvateľstva Európy, ktorá bola k 1. júlu 2008 približne 71 obyv./km².

4 body