

Examenul de bacalaureat 2011
Proba E.d)
Proba scrisă la GEOGRAFIE

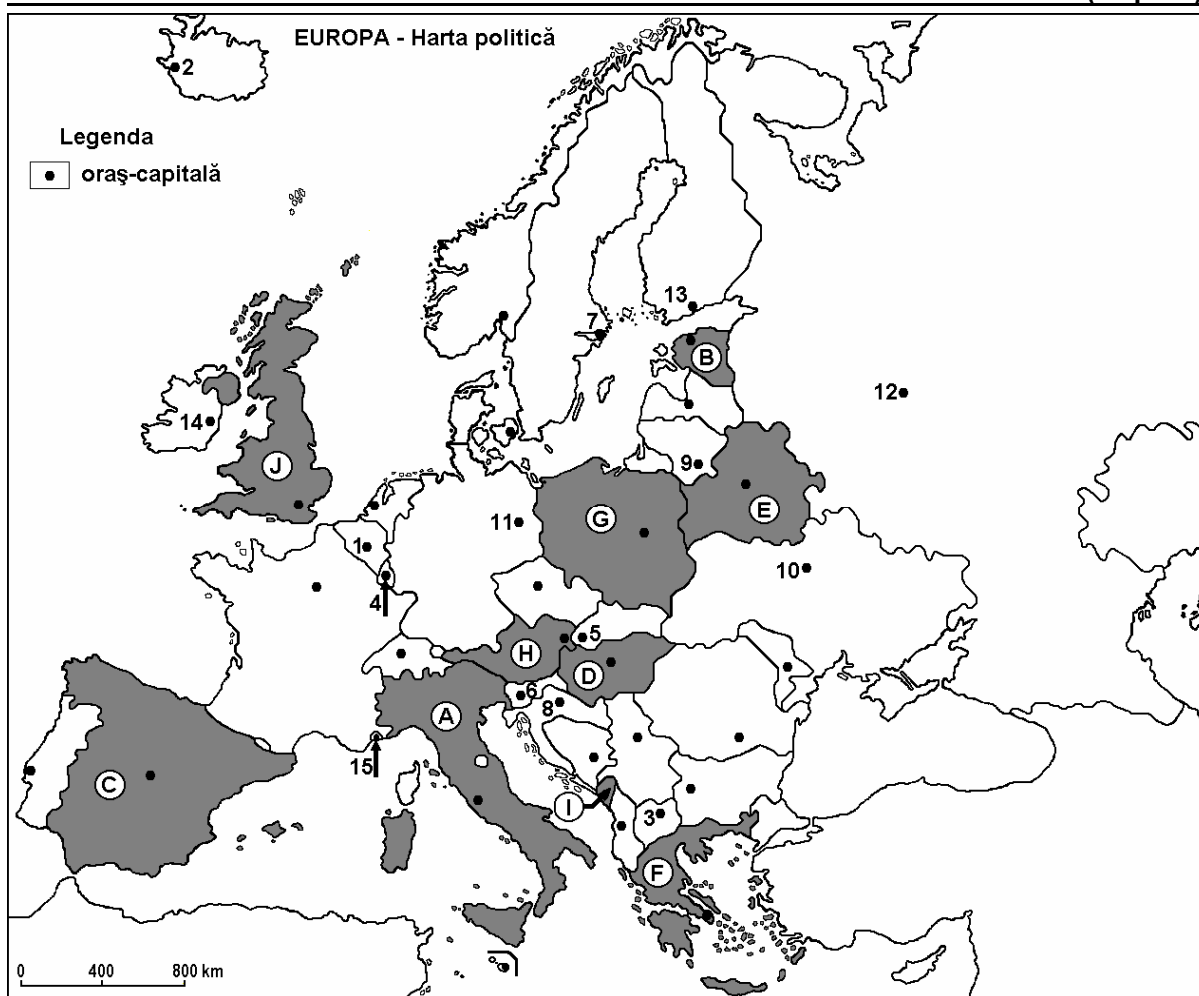
Varianta 9

Filiera teoretică, profilul umanist, specializările: filologie, științe sociale; filiera tehnologică, profilul servicii, toate specializările; Filiera vocațională: profil artistic, specializările: muzică, coregrafie, arta actorului, arhitectură, arte ambientale și design, arte plastice, arte decorative; profil sportiv, toate specializările; profil pedagogic, specializările: învățător/educatoare, bibliotecar-documentarist, instructor-animator, instructor pentru activitățile extrașcolare, pedagog școlar; profil ordine și securitate publică (Licee ale Ministerului Administrației și Internelor) specializarea științe sociale; profil teologic, toate specializările.

- Toate subiectele sunt obligatorii. Se acordă 10 puncte din oficiu.
- Timpul efectiv de lucru este de 3 ore.

I. Tétel

(30 pont)



A fenti térkép az I. Tétel A-D pontjaira vonatkozik. A térképen az országok betűkkel, a fővárosok számokkal vannak megjelölve.

A. Nevezzétek meg:

1. az E betűvel jelölt országot;
2. a térképen 12 számmal jelölt fővárost.

4 pont

B. Írjátok a vizsgalpra az alábbi mondatokat kiegészítő helyes válaszokat:

1. A térképen G betűvel jelölt ország neve ...

2. Az **F** betűvel jelölt ország fővárosa ...

3. A térképen **14** számmal jelölt főváros neve ...

6 pont

C. Írjátok a vizsgalagra a helyes válaszok betűjelét:

1. A térképen **I** betűvel jelölt ország neve:

a. Albánia b. Montenegró c. Szerbia d. Szlovénia **2 pont**

2. Szicília és Szardínia szigetek a térképen a következő betűvel jelölt országhoz tartoznak:

a. A b. C c. F d. I **2 pont**

3. A Pireneusok egy része a térképen a következő betűvel jelölt ország területén húzódik:

a. A b. C c. G d. J **2 pont**

4. Alkotmányos monarchia a térképen a következő betűvel jelölt ország:

a. A b. D c. G d. J **2 pont**

5. A térképen **8** számmal jelölt főváros neve:

a. Ljubljana b. Szarajevó c. Skopje d. Záhgráb **2 pont**

D. Írjátok három különbséget, a térképen **A** és **J** betűkkel jelölt országok éghajlata között.

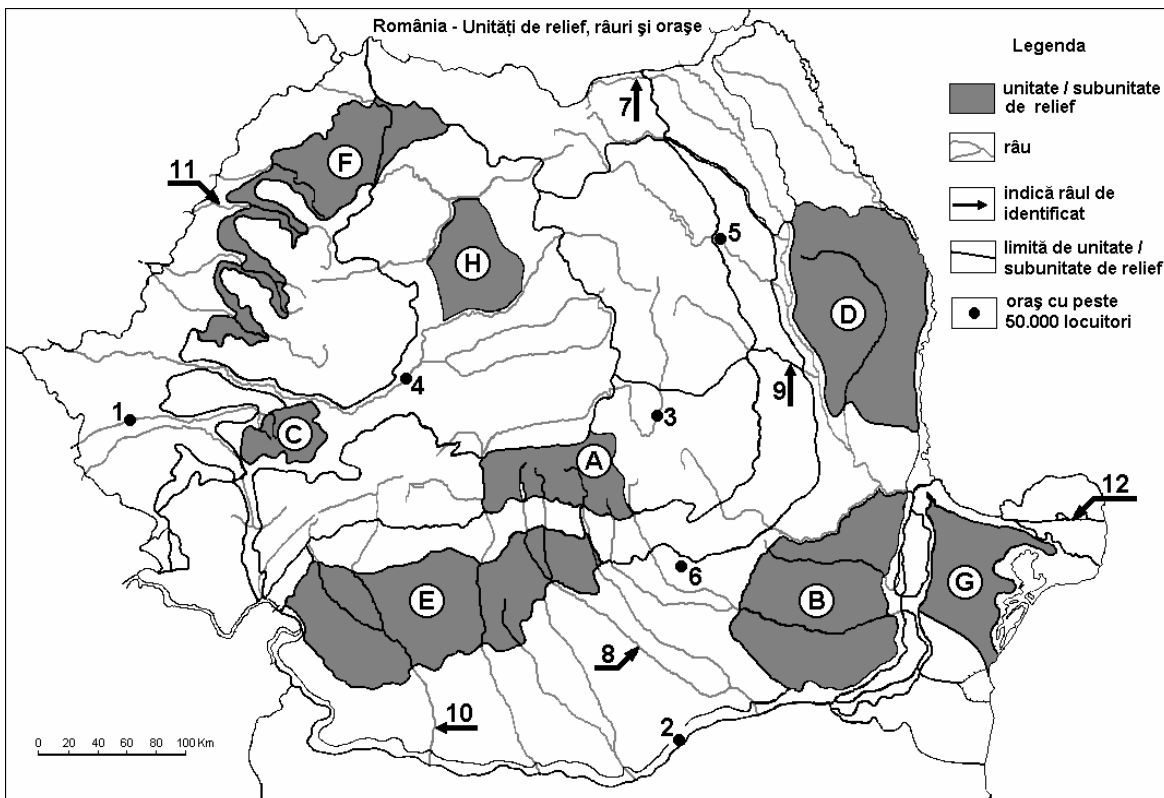
1 Megjegyzés: A különbségek a következő éghajlati elemek bármelyikére vonatkozhatnak: éghajlati típus, éghajlati emelet, éghajlati tényezők, évi/nyári/téli középhőmérsékletek, hőmérsékleti amplitúdó, évi/nyári/téli átlagos csapadék, gyakori szelek.

2 Megjegyzés: A teljes pontszám csak abban az esetben adható meg, ha a különbségek összehasonlításképpen és nem külön-külön vannak leírva. **6 pont**

E. Írjátok két okot, amelyek egyes európai országok megjelenéséhez, eltűnéséhez vagy területük megváltozásához vezettek. **4 pont**

SUBIECTUL al II-lea

(30 de puncte)



Harta de mai sus se referă la subiectul II A – D. Pe hartă sunt marcate unități de relief cu litere, orașe cu numere de la 1 la 6 și râuri cu numere de la 7 la 12.

A. Precizați:

1. numele orașului marcat, pe hartă, cu numărul **2**;
2. numele râului marcat, pe hartă, cu numărul **8**.

4 puncte

B. Scrieți, pe foaia de examen, răspunsurile corecte care completează afirmațiile de mai jos:

1. Râul marcat, pe hartă, cu numărul **9** se numește ...
2. Cel mai mare bazin de exploatare a lignitului se găsește în unitatea de relief marcată, pe hartă, cu litera ...
3. Orașul marcat, pe hartă, cu numărul **3** se numește ...

6 puncte

C. Scrieți, pe foaia de examen, litera corespunzătoare răspunsului corect pentru fiecare dintre afirmațiile de mai jos:

1. Râul marcat, pe hartă, cu numărul **11** se numește:
a. Barcău b. Crișul Alb c. Crișul Negru d. Crișul Repede **2 puncte**
2. Orașul marcat, pe hartă, cu numărul **5** este străbătut de râul:
a. Bistrița b. Jijia c. Moldova d. Siret **2 puncte**
3. Relief glaciar există în unitatea de relief marcată, pe hartă, cu litera:
a. A b. C c. F d. H **2 puncte**
4. Petrol, cărbuni și gaze naturale există în unitatea de relief marcată, pe hartă, cu litera:
a. A b. D c. E d. G **2 puncte**
5. Orașul marcat, pe hartă, cu numărul **6** se numește:
a. Pitești b. Ploiești c. Slobozia d. Târgoviște **2 puncte**

D. Precizați trei deosebiri între relieful unității marcate, pe hartă, cu litera D și relieful unității marcate, pe hartă, cu litera G.

Nota 1: Deosebirile se pot referi la oricare dintre următoarele aspecte ale reliefului: mod de formare, tipuri de roci pe care s-a format relieful, altitudini, fragmentare, tipuri de relief, înclinare, dispunerea depresiunilor, alte aspecte specifice ale reliefului.

Nota 2: Punctajul complet va fi acordat numai dacă cele trei deosebiri vor fi prezentate comparativ și nu separat.

6 puncte

E. Prezentați:

1. o cauză care a determinat amplasarea unor rafinării la exteriorul Subcarpaților Curburii. **2 puncte**
2. o cauză care explică diferența de temperatură medie anuală dintre sudul și nordul țării. **2 puncte**

III. Tétel

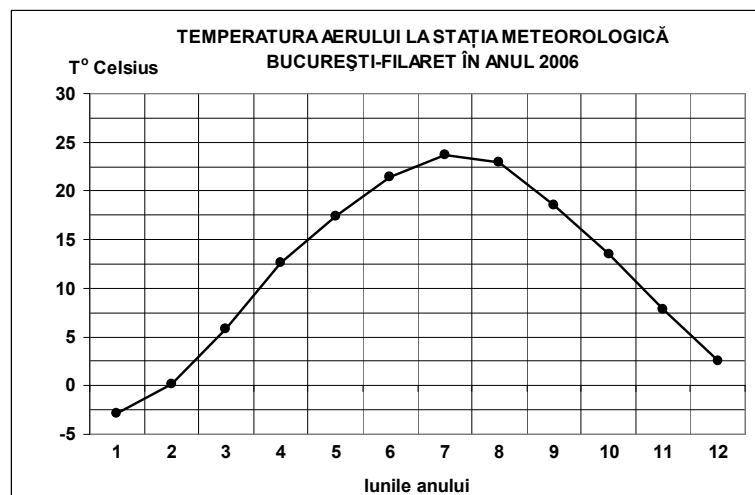
(30 pont)

A mellékelt grafikon a III. tétel A-B pontjaira vonatkozik és Bukarest-Filaret meteorológiai állomás havi középhőmérsékletének a változását mutatja, 2006-ban.

A. Határozzátok meg:

1. a havi középhőmérséklet maximum értékét és a hónapot, amikor azt mérték,
2. a havi középhőmérséklet minimum értékét és a hónapot, amikor azt mérték.

4 pont



B. Írjátok a vizsgalpra a helyes válaszok betűjelét:

1. A hőmérsékleti amplitúdó (eltérés) megközelítőleg:

- a. 14-16°C b. 17-19°C c. 20-22°C d. 25-27°C

2. A legnagyobb hőmérsékletkülönbség a következő két egymás utáni hónap között volt:

- a. január és február b. március és április
c. június és július d. november és december

3. A nyári évszak magas hőmérsékleteit a következő légtömegek hatása okozza:

- a. egyenlítői b. mediterrán
c. poláris-szárazföldi d. poláris-tengeri

6 pont

C. Jellemezzétek Ukrajnát és írjátok:

1. két szomszédos államot, amelyek az Európai Unió tagjai;
2. egy félszigetet, amelyik hozzátartozik;
3. két tájegységet;
4. két folyót;
5. három várost.

10 pont

D. Az alábbi táblázat a fontosabb ágazatok hozzájárulását mutatja a GDP (Bruttó Hazai Termék) megvalósításához, 2007-ben, néhány európai országban.

Ország	Mezőgazdaság (%)	Ipar (építőiparral együtt) (%)	Szolgáltatások (%)
Svájc	1	28	71
Görögország	4	23	73
Románia	7	41	52

Forrás: Országos Statisztikai Hivatal, 2007-es évre vonatkozó becslések

Magyarázzátok meg:

1. a szolgáltatások nagyobb és a mezőgazdaság kisebb részarányát Görögország GDP-jében;
2. a mezőgazdaság nagyobb részarányát Románia GDP-jében, mint Svájc GDP-jében;
3. a szolgáltatások kisebb részarányát Románia GDP-jében, mint Svájc GDP-jében.

6 pont

E. 1. Málta területe 316 km², lakosságának száma pedig 2008 július 1-én 400.000 fő volt. Számítsátok ki az ország népsűrűségét.

2. Magyarázzátok meg Málta népsűrűségét, összehasonlítva Európa népsűrűségével, amely 2008 július 1-én megközelítőleg 71 lakos/km² volt.

4 pont