

Examenul de bacalaureat 2011
Proba E.d)
Proba scrisă la GEOGRAFIE

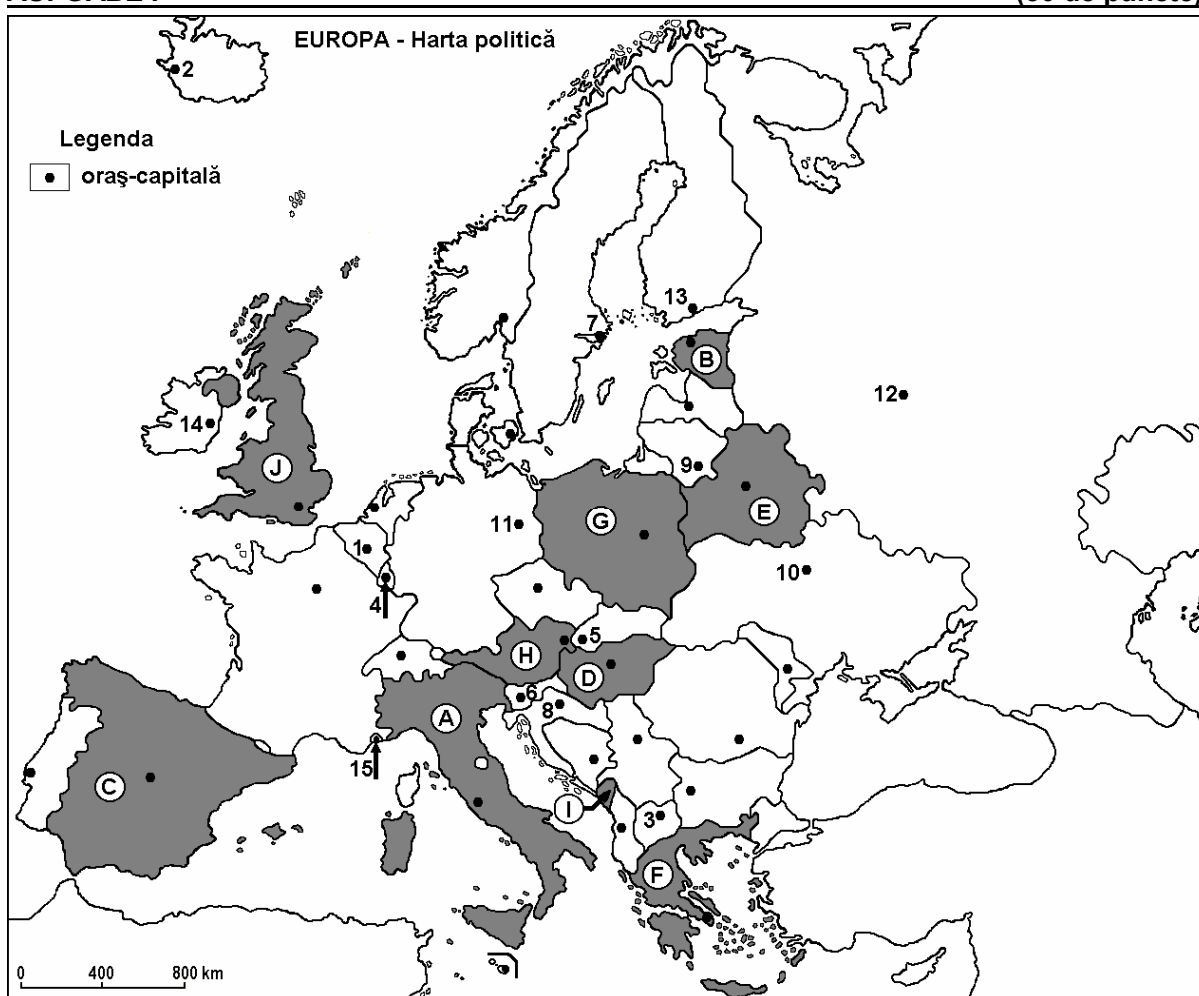
Varianta 9

Filiera teoretică, profilul umanist, specializările: filologie, științe sociale; filiera tehnologică, profilul servicii, toate specializările; Filiera vocațională: profil artistic, specializările: muzică, coregrafie, arta actorului, arhitectură, arte ambientale și design, arte plastice, arte decorative; profil sportiv, toate specializările; profil pedagogic, specializările: învățător/educatoare, bibliotecar-documentarist, instructor-animator, instructor pentru activitățile extrașcolare, pedagog școlar; profil ordine și securitate publică (Licee ale Ministerului Administrației și Internelor) specializarea științe sociale; profil teologic, toate specializările.

- Toate subiectele sunt obligatorii. Se acordă 10 puncte din oficiu.
- Timpul efectiv de lucru este de 3 ore.

AUFGABE I

(30 de puncte)



Die oben angezeigte Karte bezieht sich auf die Aufgabe I A – D. Auf der Karte sind Staaten mit Buchstaben und Hauptstädte mit Zahlen angedeutet.

A. Bestimmt:

1. den Namen des Staates, der auf der Karte mit dem Buchstaben **E** bezeichnet ist;
2. den Namen der Hauptstadt, die auf der Karte mit der Nummer **12** bezeichnet ist. **4 puncte**

B. Schreibt auf das Prüfungsblatt, die richtigen Antworten, welche folgende unten angegebenen Aussagen ergänzen:

1. Der Staat, der auf der Karte mit dem Buchstaben **G** bezeichnet ist, heißt ...
2. Die Hauptstadt des Staates, bezeichnet auf der Karte mit dem Buchstaben **F** heißt...
3. Die Hauptstadt, die auf der Karte mit der Zahl **14** bezeichnet ist, heißt ... **6 puncte**

C. Schreibt auf das Prüfungsblatt, den der richtigen Antwort entsprechenden Buchstaben für jede der unten angegebenen Behauptungen:

1. Der Staat, der auf der Karte mit dem Buchstaben **I** bezeichnet ist, heißt:
a. Albanien b. Montenegro c. Serbien d. Slowenien **2 puncte**
2. Die Inseln Sizilien und Sardinien gehören zu dem Staat, bezeichnet auf der Karte mit dem Buchstaben:
a. A b. C c. F d. I **2 puncte**
3. Ein Teil des Pyrenäengebirges befindet sich auf dem Gebiet des Staates, bezeichnet auf der Karte mit dem Buchstaben:
a. A b. C c. G d. J **2 puncte**
4. Eine konstitutionelle Monarchie ist der Staat, bezeichnet auf der Karte mit dem Buchstaben:
a. A b. D c. G d. J **2 puncte**
5. Die Hauptstadt, die auf der Karte mit der Zahl **8** bezeichnet ist, heißt:
a. Ljubljana b. Sarajevo c. Skopje d. Zagreb **2 puncte**

D. Bestimmt drei Unterschiede zwischen dem **Klima** des Staates, bezeichnet auf der Karte mit dem Buchstaben **A** und dem **Klima** des Staates, bezeichnet auf der Karte mit dem Buchstaben **J**.

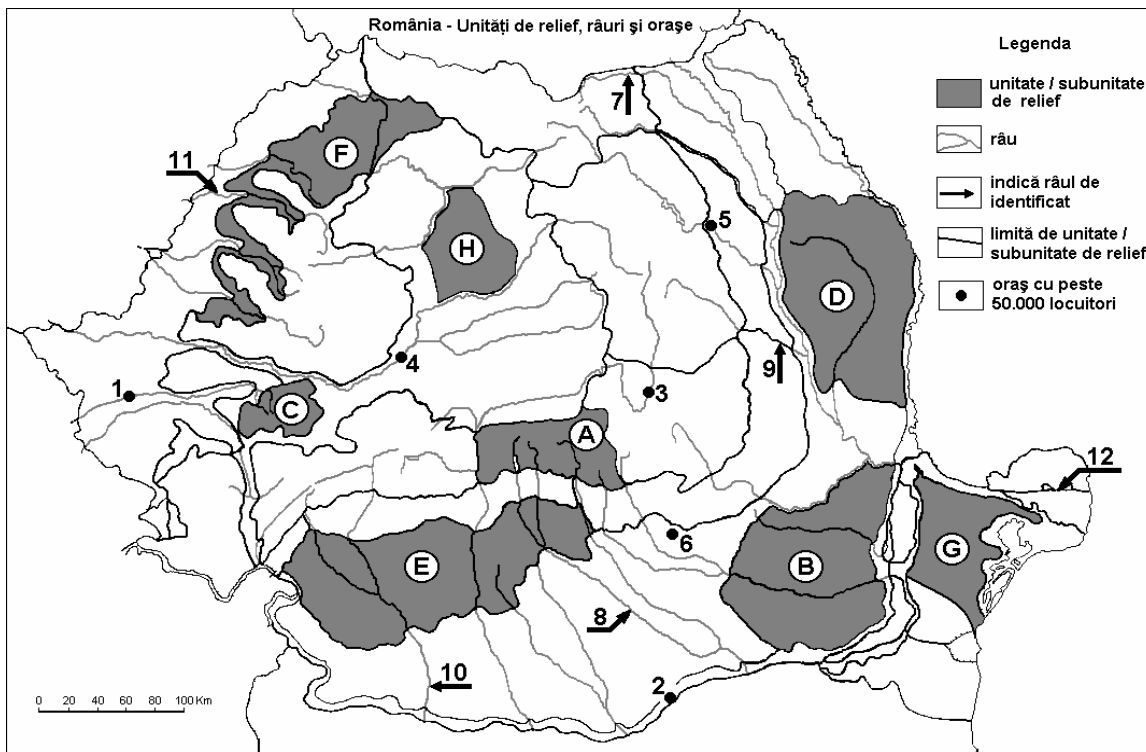
Bemerkung 1: Die Unterschiede können sich auf jedwelche der folgenden **Klimaelemente** beziehen: Klimatyp, Klimahöhenstufe, klimabestimmende Faktoren, Jahres-, Sommer-, Winterdurchschnittstemperaturen, thermische Amplitude, Jahres-, Sommer-, Winterdurchschnittsniederschlagsmengen, vorwiegende Winde.

Bemerkung 2: Die vollständige Punktezahl wird nur dann verliehen, wenn die drei Unterschiede vergleichend und nicht einzeln vorgestellt werden. **6 puncte**

E. Stellt zwei Ursachen dar, die zu dem Erscheinen und Verschwinden einiger Staaten, sowie zu der Veränderung des Territoriums einiger europäischen Staaten geführt haben. **4 puncte**

SUBIECTUL al II-lea

(30 de puncte)



Harta de mai sus se referă la subiectul II A – D. Pe hartă sunt marcate unități de relief cu litere, orașe cu numere de la 1 la 6 și râuri cu numere de la 7 la 12.

A. Precizați:

1. numele orașului marcat, pe hartă, cu numărul **2**;
2. numele râului marcat, pe hartă, cu numărul **8**. **4 puncte**

B. Scrieți, pe foaia de examen, răspunsurile corecte care completează afirmațiile de mai jos:

1. Râul marcat, pe hartă, cu numărul **9** se numește ...
2. Cel mai mare bazin de exploatare a lignitului se găsește în unitatea de relief marcată, pe hartă, cu litera ...
3. Orașul marcat, pe hartă, cu numărul **3** se numește ... **6 puncte**

C. Scrieți, pe foaia de examen, litera corespunzătoare răspunsului corect pentru fiecare dintre afirmațiile de mai jos:

1. Râul marcat, pe hartă, cu numărul **11** se numește:
a. Barcău b. Crișul Alb c. Crișul Negru d. Crișul Repede **2 puncte**
2. Orașul marcat, pe hartă, cu numărul **5** este străbătut de râul:
a. Bistrița b. Jijia c. Moldova d. Siret **2 puncte**
3. Relief glaciar există în unitatea de relief marcată, pe hartă, cu litera:
a. A b. C c. F d. H **2 puncte**
4. Petrol, cărbuni și gaze naturale există în unitatea de relief marcată, pe hartă, cu litera:
a. A b. D c. E d. G **2 puncte**
5. Orașul marcat, pe hartă, cu numărul **6** se numește:
a. Pitești b. Ploiești c. Slobozia d. Târgoviște **2 puncte**

D. Precizați trei deosebiri între relieful unității marcate, pe hartă, cu litera D și relieful unității marcate, pe hartă, cu litera G.

Nota 1: Deosebirile se pot referi la oricare dintre următoarele aspecte ale reliefului: mod de formare, tipuri de roci pe care s-a format relieful, altitudini, fragmentare, tipuri de relief, înclinare, dispunerea depresiunilor, alte aspecte specifice ale reliefului.

Nota 2: Punctajul complet va fi acordat numai dacă cele trei deosebiri vor fi prezentate comparativ și nu separat. **6 puncte**

E. Prezentați:

1. o cauză care a determinat amplasarea unor rafinării la exteriorul Subcarpaților Curburii. **2 puncte**
2. o cauză care explică diferența de temperatură medie anuală dintre sudul și nordul țării. **2 puncte**

AUFGABE III

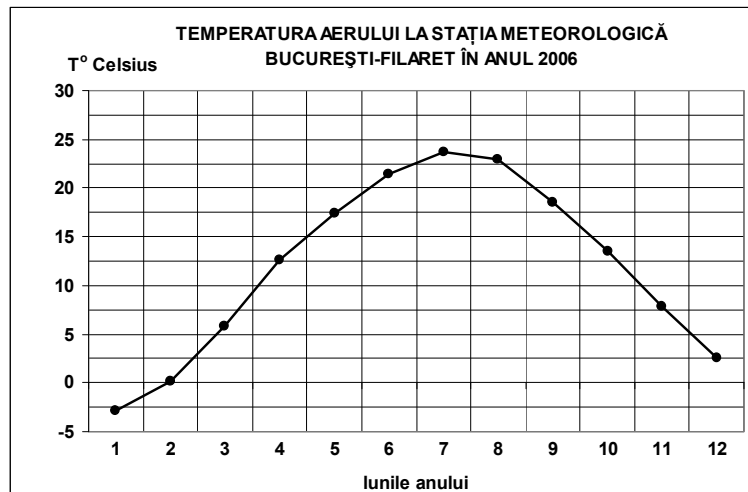
(30 de puncte)

Die unten angezeigte graphische Darstellung bezieht sich auf die Aufgabe III A - B und stellt den Verlauf der mittleren Monatstemperaturen, bei der Wetterstation București-Filaret im Jahre 2006 dar.

A. Bestimmt:

1. den höchsten Wert der Monatsdurchschnittstemperatur und den Monat, in dem dieser Wert gemessen wird;
2. den niedrigsten Wert der Monatsdurchschnittstemperatur und den Monat, in dem dieser Wert gemessen wird. **4 puncte**

B. Schreibt auf das Arbeitsblatt den entsprechenden Buchstaben der richtigen Antwort für jede der folgenden unten gemachten Behauptungen:



1. Die thermische Amplitude hat einen Wert von ungefähr:
a. 14-16°C b. 17-19°C c. 20-22°C d. 25-27°C
2. Der größte Temperaturunterschied zwischen zwei aufeinanderfolgenden Monaten ist zwischen:
a. Januar und Februar b. März und April
c. Juni und Juli d. November und Dezember
3. Die Temperaturen haben große Werte in den Sommermonaten wegen des Eindringens der
Luftmassen.
a. äquatorialen b. mediteraneenen c. polar-kontinentalen d. polar-maritimen
6 puncte

C. Bestimmt für die Ukraine:

1. zwei Nachbarstaaten, Mitglieder der Europäischen Union;
2. eine Halbinsel, die zu diesem Staat gehört;
3. den Namen von zwei Oberflächeneinheiten;
4. den Namen von zwei Strömen;
5. den Namen von drei Städten.

10 puncte

D. Die unten angeführte Tabelle stellt den Beitrag der wichtigsten wirtschaftlichen Tätigkeiten für die Bildung des BIP (Bruttointernproduktes), im Jahre 2007, für einige europäische Staaten dar.

Land	Landwirtschaft (%)	Industrie (einschließlich Bauwesen) (%)	Dienstleistungen (%)
Schweiz	1	28	71
Griechenland	4	23	73
Rumänien	7	41	52

Quelle: Institutul Național de Statistică, Schätzungen des Jahres 2007

Erklärt:

1. den großen Anteil der Dienstleistungen und den geringen Anteil der Landwirtschaft in dem BIP Griechenlands;
2. den größeren Anteil der Landwirtschaft in dem BIP Rumäniens im Vergleich mit dem BIP der Schweiz;
3. den kleineren Anteil der Dienstleistungen in dem BIP Rumäniens im Vergleich mit dem BIP der Schweiz.

6 puncte

- E. 1.** Der Staat Malta hat eine Fläche von 316 km², und am 1. Juli 2008, betrug die Bevölkerung 400.000 Einwohner. Berechnet die mittlere Bevölkerungsdichte.
- 2.** Erklärt den Wert der mittleren Bevölkerungsdichte Maltas, im Vergleich mit der mittleren Bevölkerungsdichte Europas, die am 1. Juli 2008 ungefähr 71 Einw./km² betrug.

4 puncte