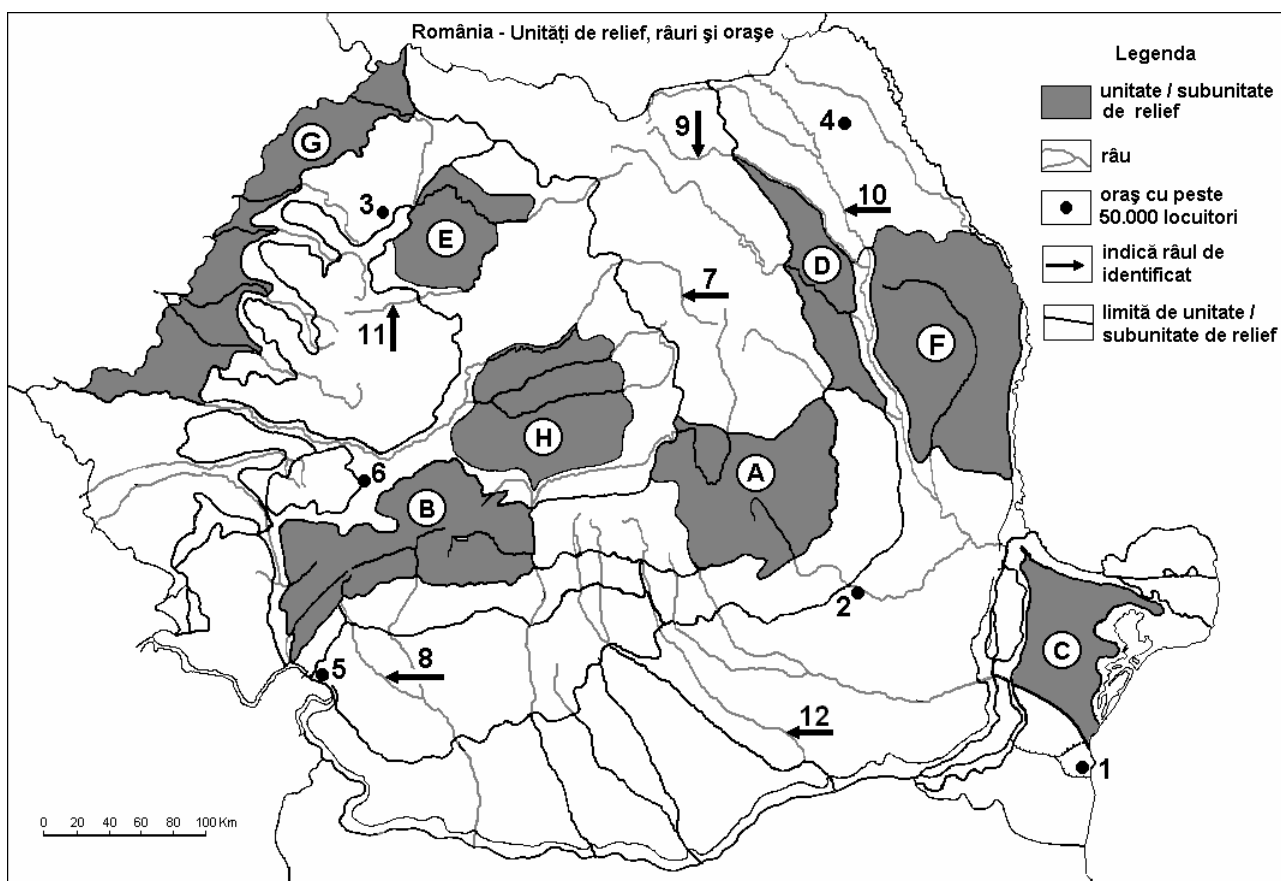


Examenul de bacalaureat 2008
Proba D, E, F
Proba scrisă la Geografie
Europa – România – Uniunea Europeană

- Toate subiectele sunt obligatorii. Se acordă 10 puncte din oficiu.
- Timpul efectiv de lucru este de 3 ore.

SUBIECTUL II

(30 puncte)



Harta de mai sus se referă la subiectul II A – C. Pe hartă sunt marcate unități de relief cu litere, orașe cu numere de la 1 la 6 și râuri cu numere de la 7 la 12.

A. Precizați:

1. numele unităților de relief marcate, pe hartă, cu literele **A** și **F**;
2. numele râurilor marcate, pe hartă, cu numerele **7** și **10**.

4 puncte

B. Scrieți, pe foaia de examen, răspunsurile corecte care completează propozițiile de mai jos:

1. Cele mai vechi roci din țară se găsesc în unitatea de relief marcată, pe hartă, cu litera...
2. Circuri și văi glaciare se găsesc în unitatea de relief marcată, pe hartă, cu litera...
3. Port la Dunăre este orașul marcat, pe hartă, cu numărul...

6 puncte

C. Scrieți, pe foaia de examen, litera corespunzătoare răspunsului corect pentru fiecare dintre afirmațiile de mai jos:

1. Silvastepa este prezentă în unitatea de relief marcată, pe hartă, cu litera:
a. A b. D c. E d. G **2 puncte**
2. Un important centru siderurgic este orașul marcat, pe hartă, cu numărul:
a. 3 b. 4 c. 5 d. 6 **2 puncte**
3. Resurse de ulei se găsesc în unitatea de relief marcată, pe hartă, cu litera:
a. A b. B c. E d. D **2 puncte**

4. Este străbătută de râul Bistrița unitatea de relief marcată, pe hartă, cu litera:
a. A b. C c. D d. H 2 puncte
5. Domuri gazeifere se întâlnesc în unitatea de relief marcată, pe hartă, cu litera:
a. A b. C c. F d. H 2 puncte

D. Precizați trei deosebiri între **relieful** Munților Apuseni și **relieful** Grupei Parâng.

Nota 1: Deosebirile se pot referi la oricare dintre următoarele aspecte ale **reliefului**: mod de formare, tipuri de roci, distribuția spațială a altitudinilor, gradul de fragmentare, orientarea culmilor și văilor principale, tipuri genetice de relief, alte aspecte specifice ale reliefului.

Nota 2: Punctajul complet va fi acordat numai dacă cele trei deosebiri vor fi prezentate comparativ și nu separat. **6 puncte**

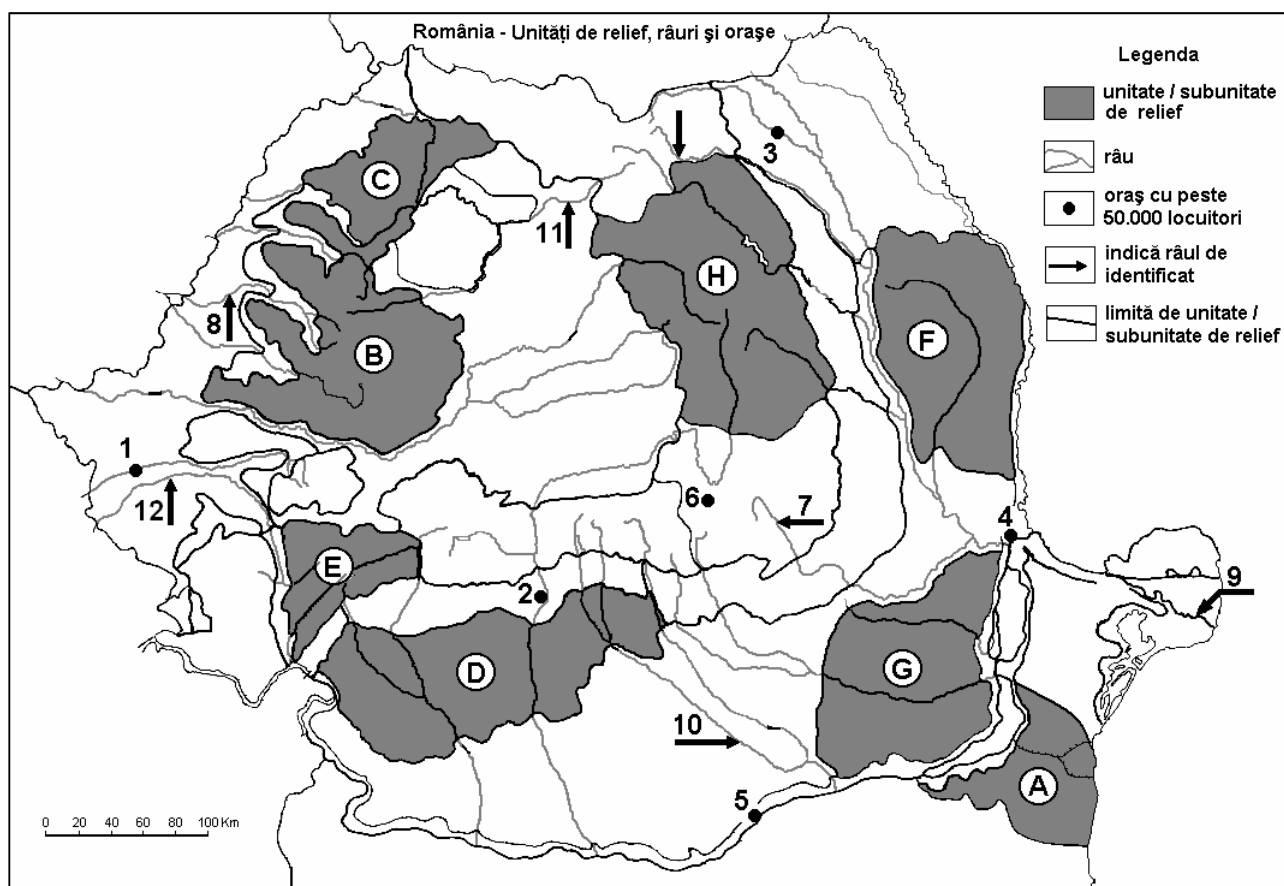
E. Precizați două cauze ale scăderii numerice a populației României după anul 1990. **4 puncte**

Examenul de bacalaureat 2008
Proba D, E, F
Proba scrisă la GEOGRAFIE
Europa–România–Uniunea Europeană

- Toate subiectele sunt obligatorii. Se acordă 10 puncte din oficiu.
- Timpul efectiv de lucru este de 3 ore.

SUBIECTUL II

(30 puncte)



Harta de mai sus se referă la subiectul II A – C. Pe hartă sunt marcate unități de relief cu litere, orașe cu numere de la 1 la 6 și râuri cu numere de la 7 la 12.

A. Precizați:

1. numele unităților de relief marcate, pe hartă, cu literele **B** și **D**;
2. numele orașelor marcate, pe hartă, cu numerele **1** și **6**.

4 puncte

B. Scrieți, pe foaia de examen, răspunsurile corecte care completează propozițiile de mai jos:

1. Lacul vulcanic Sf. Ana este situat în unitatea de relief marcată, pe hartă, cu litera ...
2. Cel mai important centru siderurgic este în orașul marcat, pe hartă, cu numărul...
3. Lacuri glaciare se găsesc în unitatea de relief marcată, pe hartă, cu litera...

6 puncte

C. Scrieți, pe foaia de examen, litera corespunzătoare răspunsului corect pentru fiecare dintre afirmațiile de mai jos:

1. Stepa se întâlnește în unitatea de relief marcată, pe hartă, cu litera:
a. C b. D c. E d. G
2. Este situat într-o unitate de câmpie orașul marcat, pe hartă, cu numărul:
a. 1 b. 2 c. 3 d. 6

2 puncte

2 puncte

3. Este un piemont unitatea de relief notată pe hartă cu litera:
a. A b. D c. G d. F **2 puncte**
4. Influențe climatice oceanice pătrund în unitatea de relief notată pe hartă cu litera:
a. A b. B c. D d. G **2 puncte**
5. Importante resurse de lignit se găsesc în unitatea de relief notată pe hartă cu litera:
a. B b. D c. E d. F **2 puncte**

D. Precizați trei deosebiri între **relieful** Munților Banatului și **relieful** Grupei Nordice a Carpaților Orientali (Carpații Maramureșului și ai Bucovinei).

Nota 1: Deosebirile se pot referi la oricare dintre următoarele aspecte ale **reliefului**: mod de formare, tipuri de roci, distribuția spațială a altitudinilor, gradul de fragmentare, orientarea culmilor și văilor principale, tipuri de relief, alte aspecte specifice ale reliefului.

Nota 2: Punctajul complet va fi acordat numai dacă cele trei deosebiri vor fi prezentate comparativ și nu separat.

6 puncte

E. Prezentați:

1. o cauză care explică densitatea redusă a populației în Munții Carpați.
2. o cauză care determină cantitățile de precipitații mai mari în partea vestică a țării față de partea estică a țării.

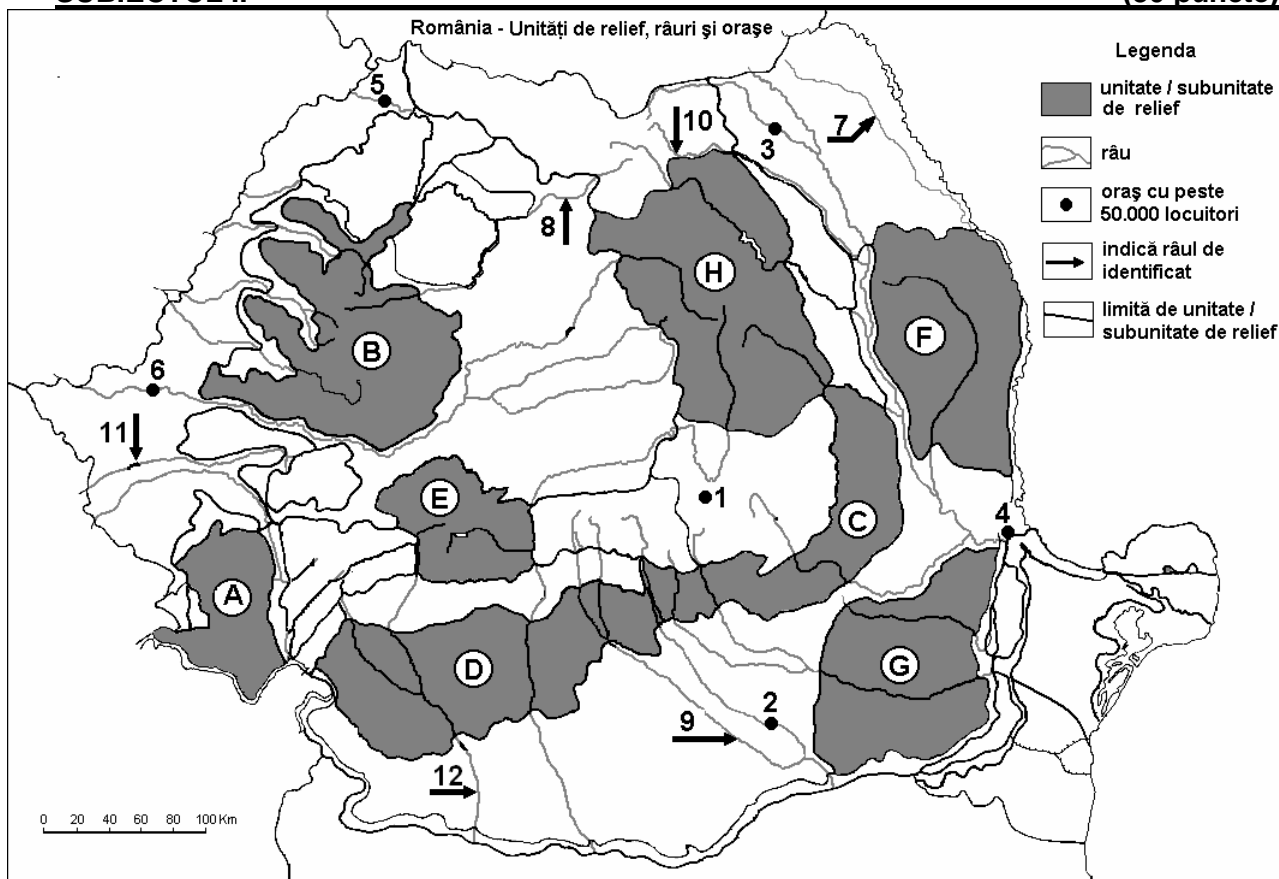
4 puncte

Examenul de bacalaureat 2008
Proba D, E, F
Proba scrisă la GEOGRAFIE
Europa–România–Uniunea Europeană

- Toate subiectele sunt obligatorii. Se acordă 10 puncte din oficiu.
- Timpul efectiv de lucru este de 3 ore.

SUBIECTUL II

(30 puncte)



Harta de mai sus se referă la subiectul II A – C. Pe hartă sunt marcate unitățile de relief cu litere, orașe cu numere de la 1 la 6 și râuri cu numere de la 7 la 12.

A. Precizați:

1. numele unităților de relief marcate, pe hartă, cu literele **A** și **H**;
2. numele râurilor marcate, pe hartă, cu numerele **9** și **8**.

4 puncte

B. Scrieți, pe foaia de examen, răspunsurile corecte care completează propozițiile de mai jos:

1. Este canalizat în sectorul de câmpie râul marcat, pe hartă, cu numărul ...
2. Traversează orașul Craiova râul marcat, pe hartă, cu numărul ...
3. Este formată dintr-un mozaic petrografic unitatea de relief marcată, pe hartă, cu litera ...

6 puncte

C. Scrieți, pe foaia de examen, litera corespunzătoare răspunsului corect pentru fiecare dintre afirmațiile de mai jos:

1. Cernoziomurile sunt caracteristice unității de relief marcată, pe hartă, cu litera:
a. A b. C c. D d. G **2 puncte**
2. Influențele climatice continentale (de ariditate) pătrund în unitatea de relief marcată, pe hartă, cu litera:
a. B b. E c. D d. F **2 puncte**
3. Lacuri glaciare se întâlnesc în unitatea de relief marcată, pe hartă, cu litera:

- | | | | | |
|---|------|------|------|-----------------|
| a. C | b. D | c. E | d. H | 2 puncte |
| 4. Minereuri complexe se exploatează din unitatea de relief marcată, pe hartă, cu litera: | | | | |
| a. B | b. D | c. E | d. F | 2 puncte |
| 5. Este situat într-o depresiune intramontană orașul marcat, pe hartă, cu numărul: | | | | |
| a. 1 | b. 3 | c. 5 | d. 6 | 2 puncte |

D. Precizați două asemănări și o deosebire între **relieful** Grupei Retezat-Godeanu și **relieful** Grupei Făgăraș.

Nota 1: Asemănările și deosebirile se pot referi la oricare dintre următoarele aspecte ale **reliefului**: mod de formare, tipuri de roci, distribuția spațială a altitudinilor, gradul de fragmentare, orientarea culmilor și văilor principale, tipuri genetice de relief, alte aspecte specifice ale reliefului.

Nota 2: Punctajul complet va fi acordat numai dacă asemănările și deosebirea vor fi prezentate comparativ și nu separat. **6 puncte**

E. Prezentați:

- o cauză care explică frecvența mult mai mare a hidrocentralelor în zona montană, decât în zona de câmpie;
- o cauză care explică diferența de temperatură de peste 2 °C, între sudul și nordul țării.

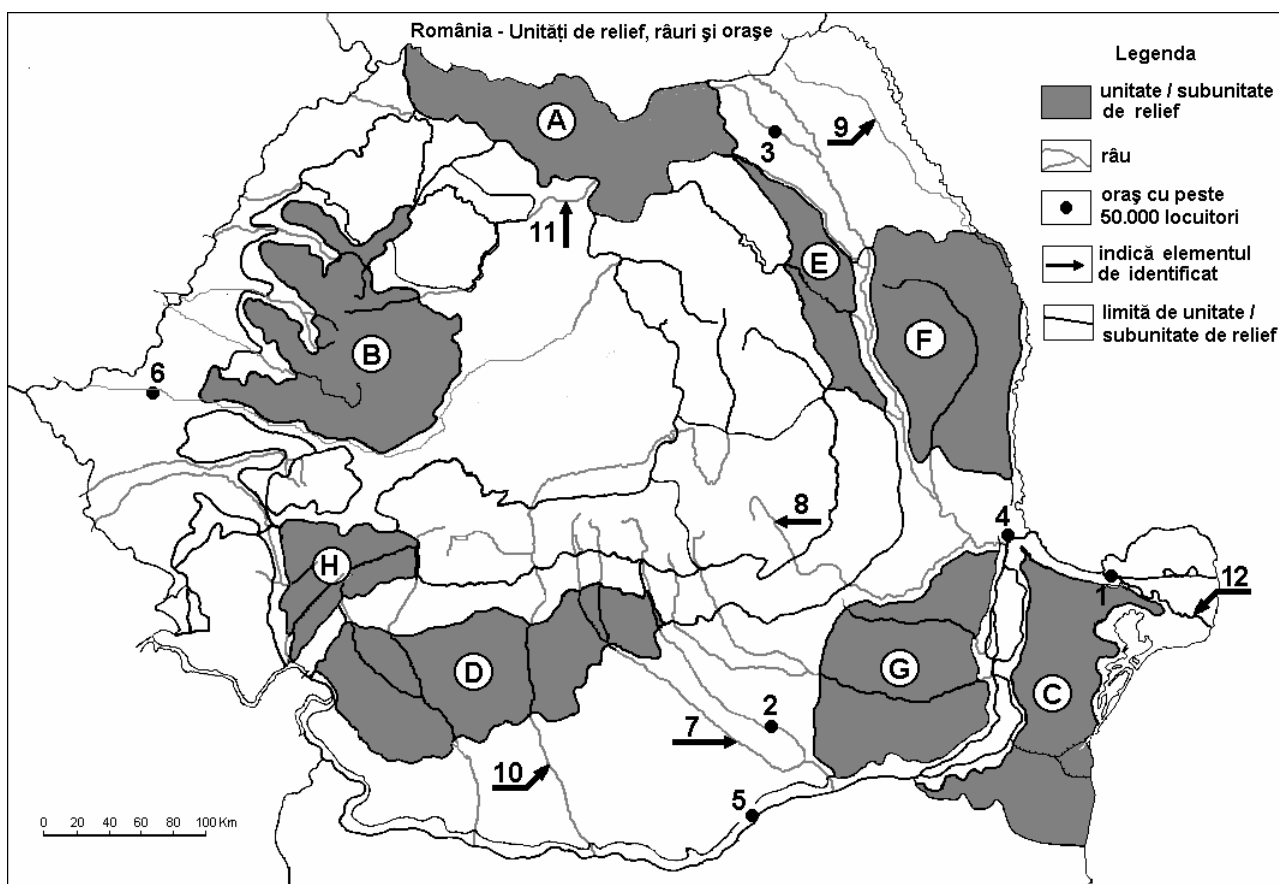
4 puncte

Examenul de bacalaureat 2008
Proba D, E, F
Proba scrisă la Geografie
Europa–România–Uniunea Europeană

- Toate subiectele sunt obligatorii. Se acordă 10 puncte din oficiu.
- Timpul efectiv de lucru este de 3 ore.

SUBIECTUL II

(30 puncte)



Harta de mai sus se referă la subiectul II A – E. Pe hartă sunt marcate unitati de relief cu litere, orașe cu numere de la 1 la 6 si rauri cu numerele de la 7 la 12.

A. Precizați:

1. numele unităților de relief marcate pe hartă, cu literele **A** și **D**;
2. numele orașelor marcate, pe hartă, cu numerele **3** și **5**.

4 puncte

B. Scrieți, pe foaia de examen, răspunsurile corecte care completează propozițiile de mai jos:

1. Aparține Câmpiei Române subunitatea de relief marcată, pe hartă, cu litera ...
2. Prin depuneri piemontane s-a format unitatea de relief marcată, pe hartă, cu litera...
3. Este traversat de râul Mureș orașul marcat, pe hartă, cu numărul ...

6 puncte

C. Scrieți, pe foaia de examen, litera corespunzătoare răspunsului corect pentru fiecare dintre afirmațiile de mai jos:

1. Altitudinile cele mai mari se întâlnesc în unitatea de relief marcată, pe hartă, cu litera:
a. A **b. B** **c. D** **d. H** **2 puncte**
2. Râul cu cele mai multe amenajări hidroenergetice este cel marcat, pe hartă, cu numărul:
a. 7 **b. 8** **c. 10** **d. 12** **2 puncte**

3. Stratul de loess este caracteristic la suprafață pentru unitatea de relief marcată, pe hartă, cu litera:

a. D b. E c. F d. G 2 puncte

4. Râul marcat, pe hartă, cu numărul 8 se numește:

a. Buzău b. Călmățui c. Prahova d. Trotuș 2 puncte

5. Pădurea de conifere este mai extinsă în unitatea de relief marcată pe hartă, cu litera:

a. A b. C c. D d. E 2 puncte

D. Precizați două deosebiri și o asemănare între **relieful** unității marcată, pe hartă, cu litera **A** și **relieful** unității marcate, pe hartă, cu litera **H**.

Nota 1: Deosebirile și asemănarea se pot referi la oricare dintre următoarele aspecte ale **reliefului**: mod de formare, tipuri de roci, distribuția spațială a altitudinilor, gradul de fragmentare, orientarea culmilor și văilor principale, tipuri genetice de relief, alte aspecte specifice ale reliefului.

Nota 2: Punctajul complet va fi acordat numai dacă cele două deosebiri și asemănarea vor fi prezentate comparativ și nu separat.

6 puncte

E. Precizați două cauze care determină producerea alunecărilor de teren în unitatea de relief marcată, pe hartă, cu litera **F**.

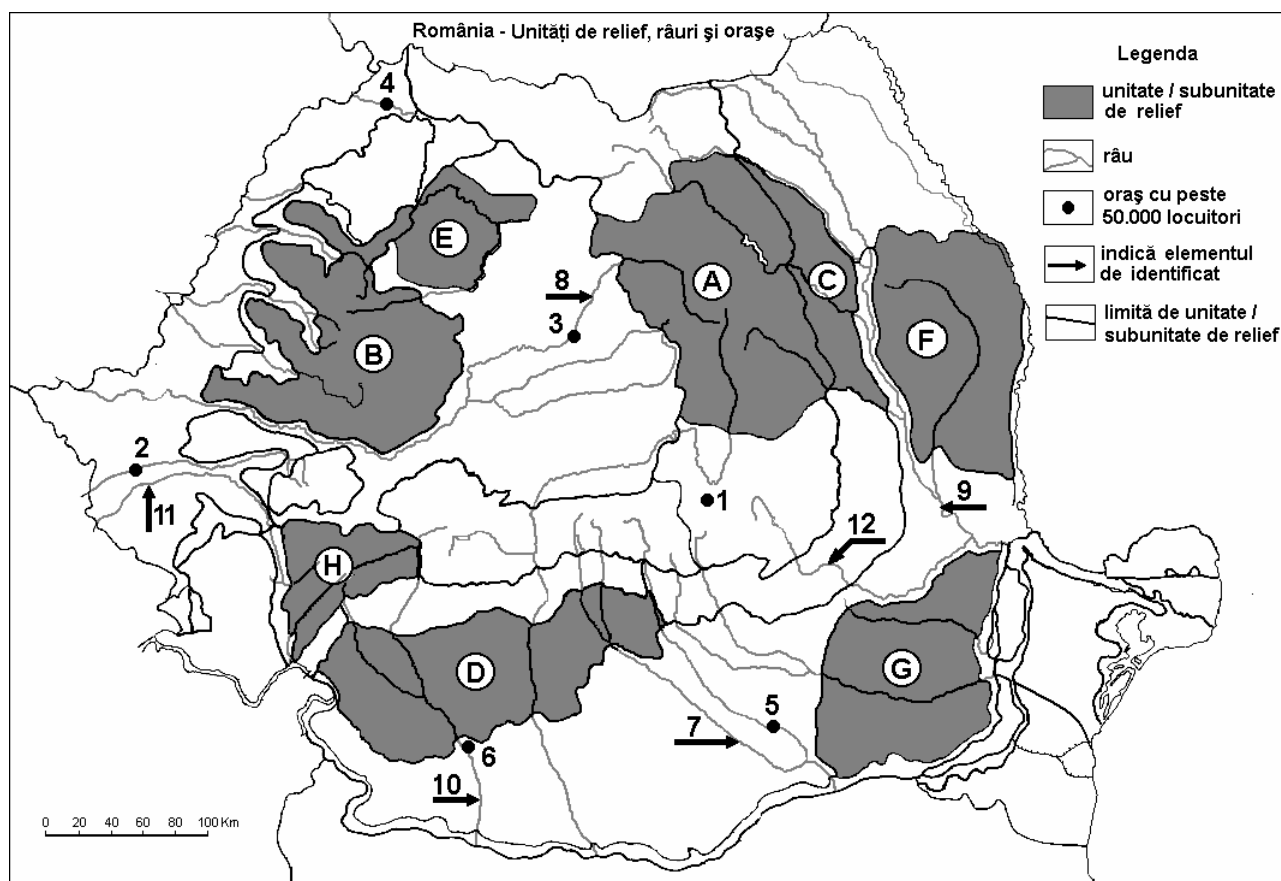
4 puncte

Examenul de bacalaureat 2008
Proba D, E, F
Proba scrisă la Geografie
Europa–România–Uniunea Europeană

- Toate subiectele sunt obligatorii. Se acordă 10 puncte din oficiu.
- Timpul efectiv de lucru este de 3 ore.

SUBIECTUL II

(30 puncte)



Harta de mai sus se referă la subiectul II A – D. Pe hartă sunt marcate unitati de relief cu litere, orașe cu numere de la 1 la 6 și râuri cu numere de la 7 la 12.

A. Precizați:

1. numele unităților su al subunităților de relief marcate, pe hartă, cu literele **D** și **G**;
2. numele orașelor marcate, pe hartă, cu numerele **4** și **6**.

4 puncte

B. Scrieți, pe foaia de examen, răspunsurile corecte care completează propozițiile de mai jos:

1. Aparține Podișului Moldovei subunitatea de relief marcată, pe hartă, cu litera ...
2. Cele mai multe lacuri glaciare se întâlnesc în unitatea de relief marcată, pe hartă, cu litera ...
3. Terenurile arabile au ponderea cea mai mare în unitatea de relief marcată, pe hartă, cu litera ...

6 puncte

C. Scrieți, pe foaia de examen, litera corespunzătoare răspunsului corect pentru fiecare dintre afirmațiile de mai jos:

1. Relieful carstic este mai dezvoltat în unitatea de relief marcată, pe hartă, cu litera:
a. B b. D c. E d. G **2 puncte**
2. Cel mai mare debit îl are râul marcat, pe hartă, cu numărul:
a. 7 b. 8 c. 9 d. 12 **2 puncte**
3. Resursele energetice cele mai bogate se găsesc în unitatea de relief marcată, pe hartă, cu litera:
a. A b. D c. E d. F **2 puncte**

4. Curge în totalitate pe teritoriul țării noastre râul marcat, pe hartă, cu numărul:
a. 8 **b. 9** **c. 10** **d. 11** **2 puncte**
5. Secetele frecvente sunt specifice unității de relief marcate, pe hartă, cu litera:
a. A **b. C** **c. D** **d. G** **2 puncte**

D. Precizați două deosebiri și o asemănare între **relieful** unității marcată, pe hartă, cu litera **A** și **relieful** unității marcată, pe hartă, cu litera **H**.

Nota 1: Deosebirile și asemănarea se pot referi la oricare dintre următoarele aspecte ale **reliefului**: mod de formare, tipuri de roci, distribuția spațială a altitudinilor, gradul de fragmentare, orientarea culmilor și văilor principale, tipuri genetice de relief, alte aspecte specifice ale reliefului.

Nota 2: Punctajul complet va fi acordat numai dacă cele două deosebiri și asemănarea vor fi prezentate comparativ și nu separat.

6 puncte

E. Precizați doi factori care au contribuit la formarea Deltei Dunării.

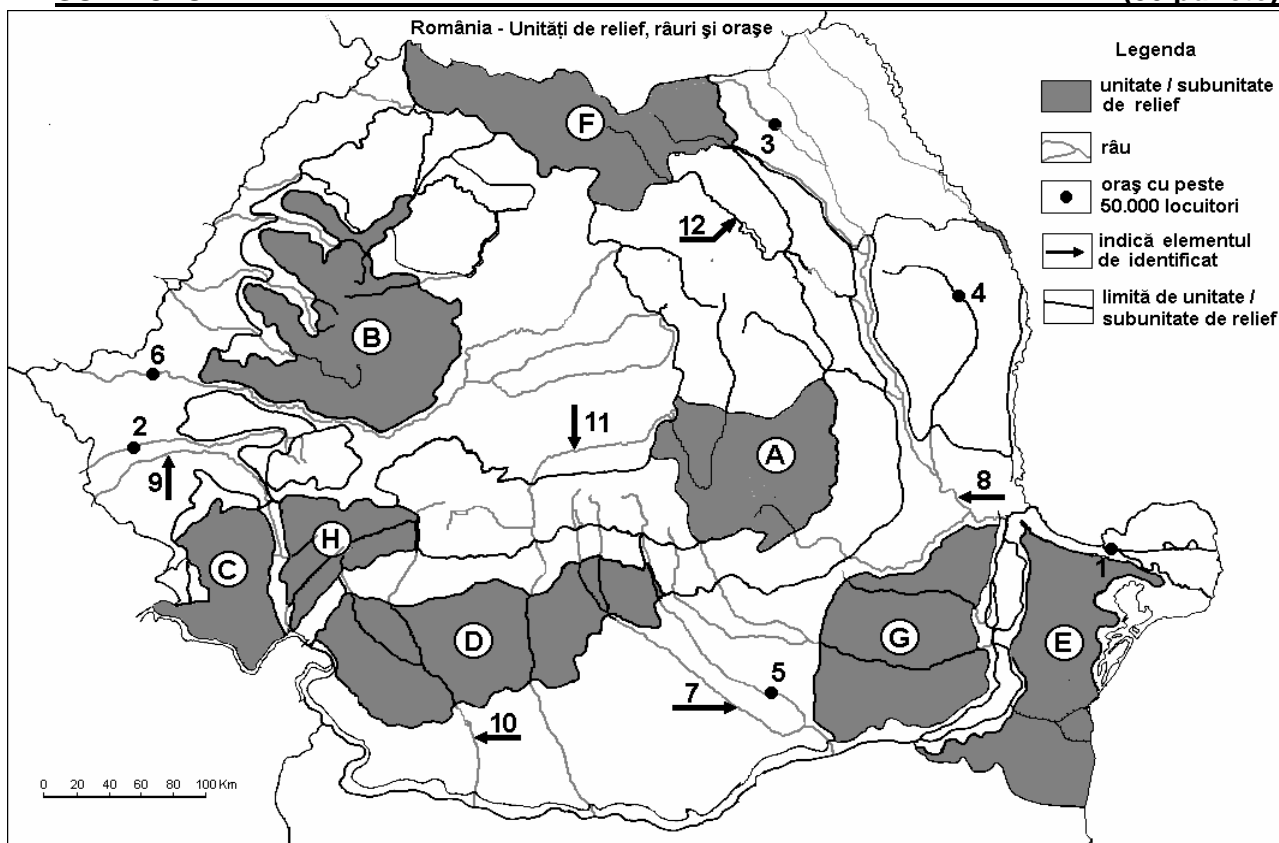
4 puncte

Examenul de bacalaureat 2008
Proba D, E, F
Proba scrisă la Geografie
Europa–România–Uniunea Europeană

- Toate subiectele sunt obligatorii. Se acordă 10 puncte din oficiu.
- Timpul efectiv de lucru este de 3 ore.

SUBIECTUL II

(30 puncte)



Harta de mai sus se referă la subiectul II A – D. Pe hartă sunt marcate unități de relief cu litere, orașe cu numere de la 1 la 6 și râuri cu numere de la 7 la 12.

A. Precizați:

1. numele unităților de relief marcate, pe hartă, cu literele **D** și **E**;
2. numele orașelor marcate, pe hartă, cu numerele **2** și **6**.

4 puncte

B. Scrieți, pe foaia de examen, răspunsurile corecte care completează propozițiile de mai jos:

1. Depresiunea Brașovului este situată în unitatea de relief marcată, pe hartă, cu litera ...
2. Influențe climatice pontice se întâlnesc în unitatea de relief marcată, pe hartă, cu litera ...
3. Râul Argeș traversează unitatea de relief marcată, pe hartă, cu litera ...

6 puncte

C. Scrieți, pe foaia de examen, litera corespunzătoare răspunsului corect pentru fiecare dintre afirmațiile de mai jos:

1. Relieful vulcanic este caracteristic unității marcată, pe hartă, cu litera:
a. A b. D c. F d. H **2 puncte**
2. Râul care se varsă în sectorul Dunării maritime este marcat, pe hartă, cu numărul:
a. 7 b. 8 c. 10 d. 11 **2 puncte**
3. Vegetația de stepă este tipică pentru unitatea de relief marcată, pe hartă, cu litera:
a. C b. D c. G d. H **2 puncte**

4. Orașul Craiova este străbătut de râul marcat, pe hartă, cu numărul:
a. 7 **b. 9** **c. 10** **d. 11** **2 puncte**
5. Teritoriul județului Ialomița se suprapune peste unitatea de relief marcată, pe hartă, cu litera:
a. A **b. D** **c. E** **d. G** **2 puncte**

D. Precizați două deosebiri și o asemănare între **relieful** unității marcată, pe hartă, cu litera **A** și **relieful** unității marcată, pe hartă, cu litera **B**.

Nota 1: Deosebirile și asemănarea se pot referi la oricare dintre următoarele aspecte ale **reliefului**: mod de formare, tipuri de roci, distribuția spațială a altitudinilor, gradul de fragmentare, orientarea culmilor și văilor principale, tipuri genetice de relief, alte aspecte specifice ale reliefului.

Nota 2: Punctajul complet va fi acordat numai dacă cele două deosebiri și asemănarea vor fi prezentate comparativ și nu separat.

6 puncte

E. Precizați două cauze care au generat scăderea populației României după anul 1990.

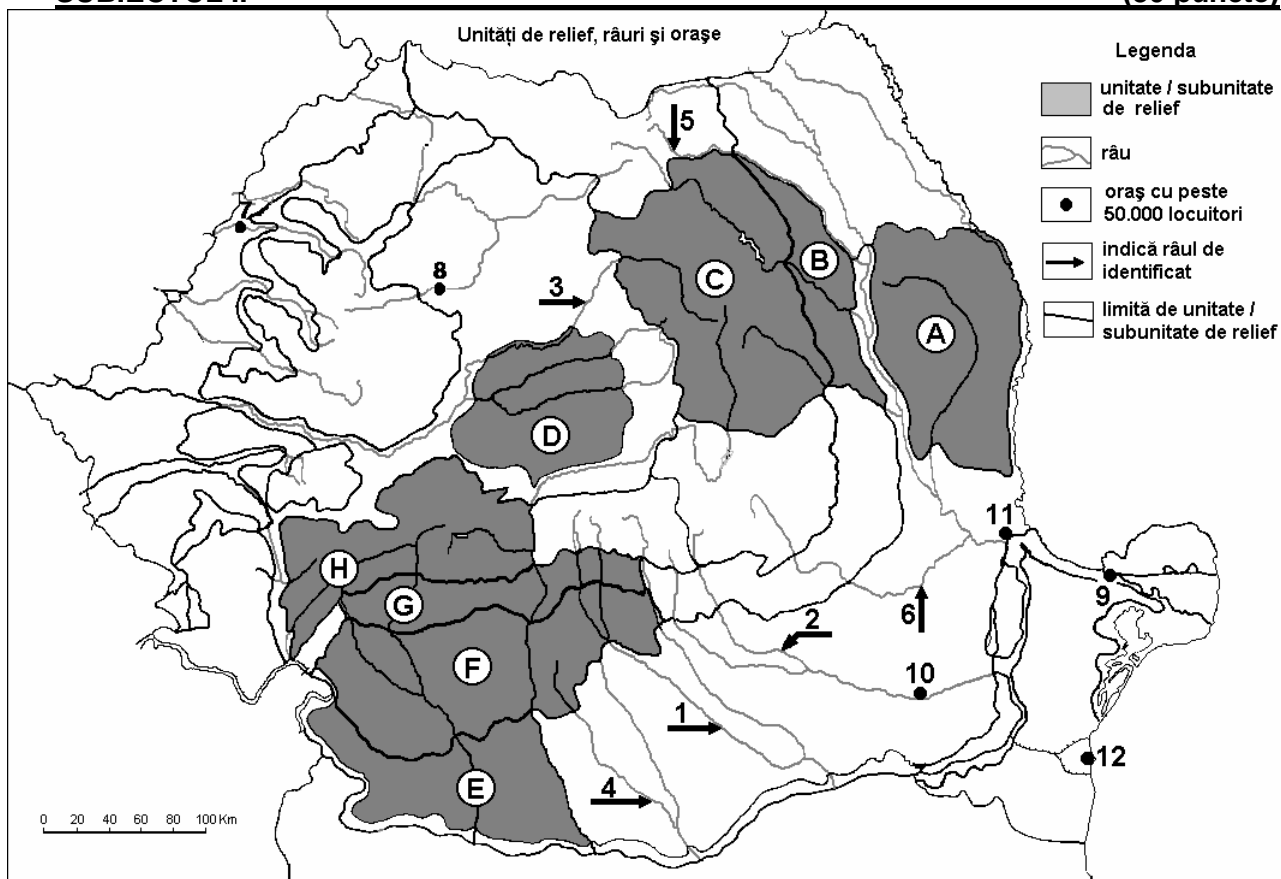
4 puncte

Examenul de bacalaureat 2008
Proba D, E, F
Proba scrisă la Geografie
Europa – România – Uniunea Europeană

- Toate subiectele sunt obligatorii. Se acordă 10 puncte din oficiu.
- Timpul efectiv de lucru este de 3 ore.

SUBIECTUL II

(30 puncte)



Harta de mai sus se referă la subiectul II A-C. Pe hartă sunt marcate unități de relief cu litere, râuri cu numere de la 1 la 6 și orașe cu numere de la 7 la 12.

A. Precizați:

1. numele unităților de relief marcate, pe hartă, cu literele **A** și **G**.
2. numele râurilor marcate, pe hartă, cu numerele **5** și **6**.

4 puncte

B. Scrieți, pe foaia de examen, răspunsurile corecte care completează propozițiile de mai jos:

1. Depresiunea Petroșani este situată în unitatea de relief marcată pe hartă cu litera ...
2. Regiunea subcarpatică alcătuită dintr-un singur șir de depresiuni și unul de dealuri este marcată pe hartă cu litera ...
3. În orașul marcat pe hartă cu numărul **11** se găsește cel mai mare combinat din România cu profil ...

6 puncte

C. Scrieți, pe foaia de examen, litera corespunzătoare răspunsului corect pentru fiecare dintre afirmațiile de mai jos:

1. Relieful eolian este prezent pe teritoriul României în una din unitățile/subunitățile marcate, pe hartă, cu litera:

a. A

b. C

c. E

d. F

2 puncte

2. În unitatea de relief marcată, pe hartă, cu litera **D**, între minoritățile naționale mai numeroase există:

a. germani **b.** greci **c.** polonezi **d.** turco-tătari **2 puncte**

3. În unitatea de relief marcată, pe hartă, cu litera **F** se exploatează resurse de:

a. aur și argint **b.** bauxită **c.** fier **d.** lignit **2 puncte**

4. Orașul marcat, pe hartă, cu numărul **12** este situat în unitatea de relief numită:

a. Câmpia Barăganului **b.** Delta Dunării **2 puncte**
c. Pod. Dobrogei **d.** Subcarpații Curburii

5. Magistrala rutieră E60 trece prin orașele marcate pe hartă cu numerele:

a. 7 și 8 **b.** 8 și 9 **c.** 8 și 11 **d.** 9 și 10 **2 puncte**

D. Caracterizați climatul cu influențe submediteraneene din România precizând:

1. circulația maselor de aer;
2. temperatura medie anuală;
3. precipitațiile medii anuale.

6 puncte

E. Prin poziția sa geografică, România este o țară dunăreană. Menționați două avantaje economice care de curg din această situație.

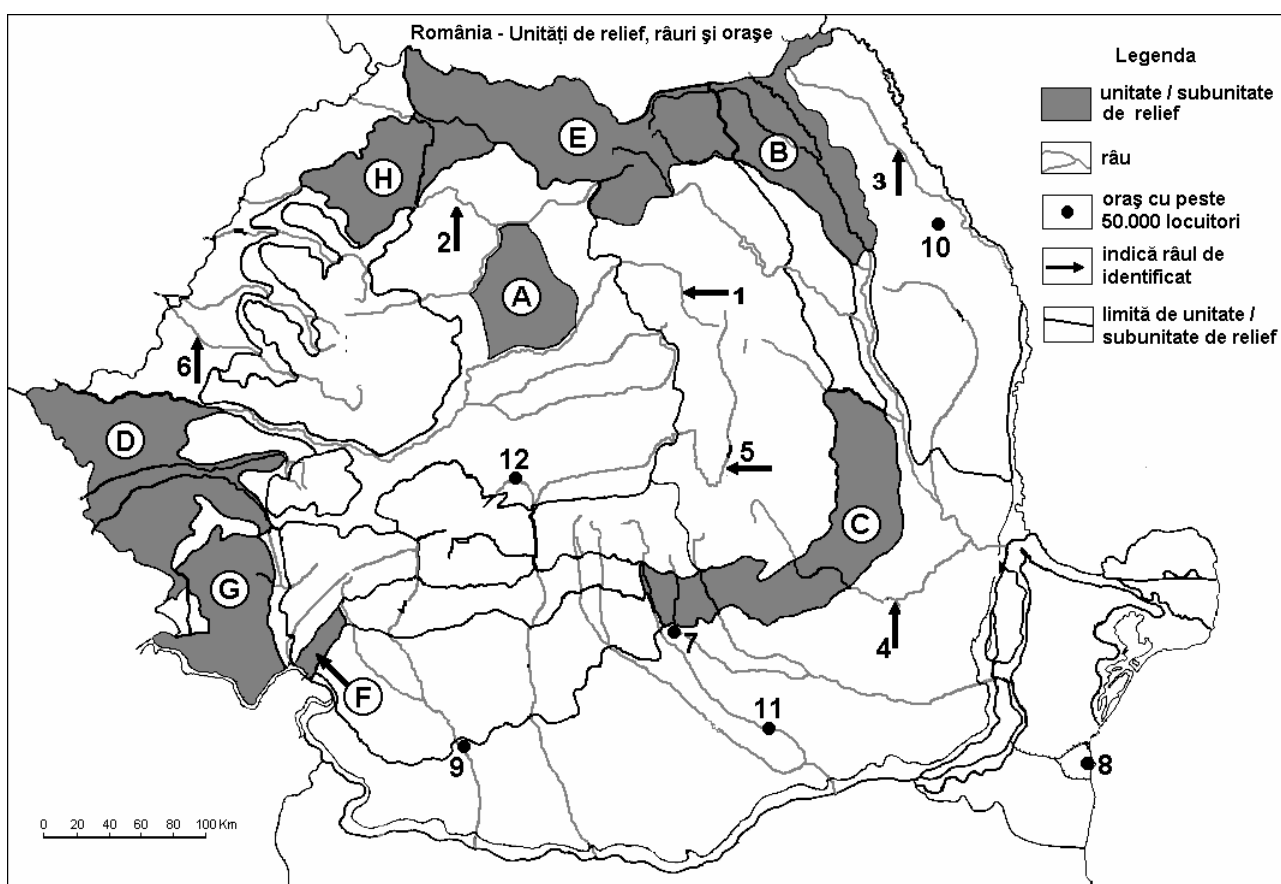
4 puncte

Examenul de bacalaureat 2008
Proba D, E, F
Proba scrisă la Geografie
Europa – România – Uniunea Europeană

- Toate subiectele sunt obligatorii. Se acordă 10 puncte din oficiu.
- Timpul efectiv de lucru este de 3 ore.

SUBIECTUL II

(30 puncte)



Harta de mai sus se referă la subiectul II A-C. Pe hartă sunt marcate unități de relief cu litere, râuri cu numere de la 1 la 6 și orașe cu numere de la 7 la 12.

A. Precizați:

1. numele unităților de relief marcate, pe hartă, cu literele **A** și **D**.
2. numele râurilor marcate, pe hartă, cu numerele **1** și **5**.

4 puncte

B. Scrieți, pe foaia de examen, răspunsurile corecte care completează propozițiile de mai jos:

1. Munții Rodnei sunt situați în unitatea de relief marcată, pe hartă, cu litera ...
2. Lacul glaciar Lala este situat în unitatea de relief marcată, pe hartă, cu litera ...
3. Minereurile de metale prețioase (aurul și argintul) se exploatează în unitatea de relief marcată, pe hartă, cu litera ...

6 puncte

C. Scrieți, pe foaia de examen, litera corespunzătoare răspunsului corect pentru fiecare dintre afirmațiile de mai jos:

1. Orașul marcat, pe hartă, cu numărul **7** se numește:

a. Buzău b. Pitești c. Ploiești d. Târgoviște **2 puncte**

2. Unitatea de relief cu cel mai mare areal viticol din România este marcată, pe hartă, cu litera:

a. B b. C c. E d. G **2 puncte**

3. Procesul de subsidență este prezent în unitatea de relief marcată, pe hartă, cu litera:
a. B b. C c. D d. H 2 puncte
4. În unitatea de relief marcată, pe hartă, cu litera **C** procesele gravitaționale cu frecvență mare sunt:
a. alunecări de teren b. curgeri de noroi c. prăbușiri d. tasări 2 puncte
5. Unitatea de relief marcată pe hartă cu litera **H** este traversată parțial de râul:
a. Jiu b. Lotru c. Olt d. Someș 2 puncte

D. Comparați **relieful** Podișului Mehedinți cu **relieful** Podișului Moldovei precizând două deosebiri și o asemănare.

Nota 1: Deosebirile și asemănarea se pot referi la oricare dintre următoarele aspecte ale **reliefului**: mod de formare, tipuri de roci pe care s-a format relieful, distribuția spațială a altitudinilor, gradul de fragmentare, orientarea clumilor și văiloir principale, tipuri genetice de relieful, alte aspecte specifice ale reliefului.

Nota 2: Punctajul complet va fi acordat numai dacă cele două deosebiri și asemănarea vor fi prezentate comparativ și nu separat. **6 puncte**

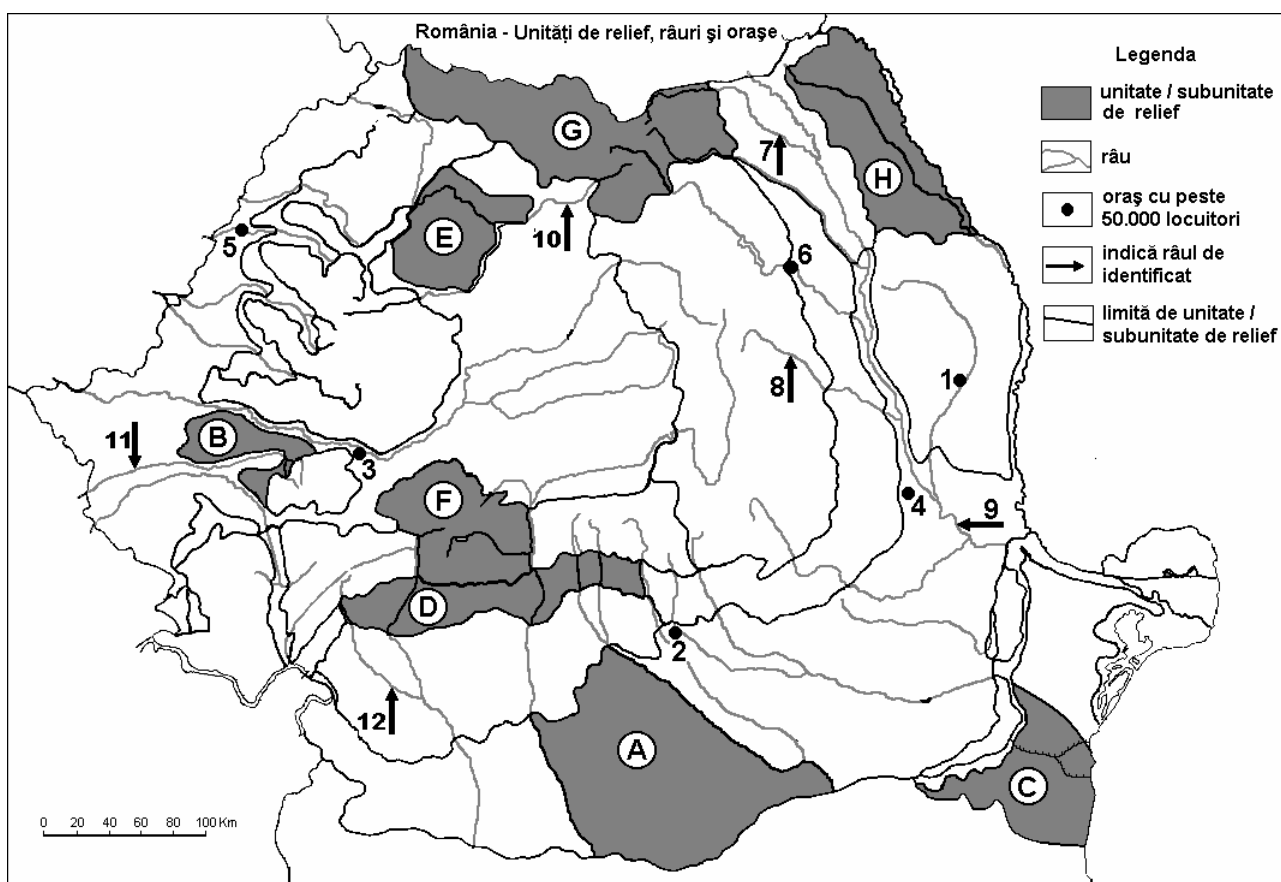
E. Explicați rolul României în cadrul Uniunii Europene, menționând două elemente prin care se evidențiază. **4 puncte**

Examenul de bacalaureat 2008
Proba D, E, F
Proba scrisă la Geografie
Europa – România – Uniunea Europeană

- Toate subiectele sunt obligatorii. Se acordă 10 puncte din oficiu.
- Timpul efectiv de lucru este de 3 ore.

SUBIECTUL II

(30 puncte)



Harta de mai sus se referă la subiectul II A-C. Pe hartă sunt marcate unități de relief cu litere, orașe cu numere de la 1 la 6 și râuri cu numere de la 7 la 12.

A. Precizați:

1. numele unităților sau al subunităților de relief marcate, pe hartă, cu literele **A** și **G**;
2. numele orașelor marcate, pe hartă, cu numerele **4** și **6**.

4 puncte

B. Scrieți, pe foaia de examen, răspunsurile corecte care completează propozițiile de mai jos:

1. Râul, vizibil pe hartă, care traversează subunitatea de relief marcată pe hartă, cu litera **H** se numește...
2. Lacul hidroenergetic Vidra este situat în unitatea de relief marcată, pe hartă, cu litera ...
3. Subunitatea marcată pe hartă cu litera **C** se numește....

6 puncte

C. Scrieți, pe foaia de examen, litera corespunzătoare răspunsului corect pentru fiecare dintre afirmațiile de mai jos:

1. Râul marcat, pe hartă, cu numărul **1** străbate orașul:
a. Bacău b. Bârlad c. Botoșani d. Piatra Neamț **2 puncte**
2. În subunitatea marcată, pe hartă, cu litera **D** este situat orașul:
a. Drobeta-Turnu Severin b. Pitești c. Râmnicu Vâlcea d. Târgoviște **2 puncte**

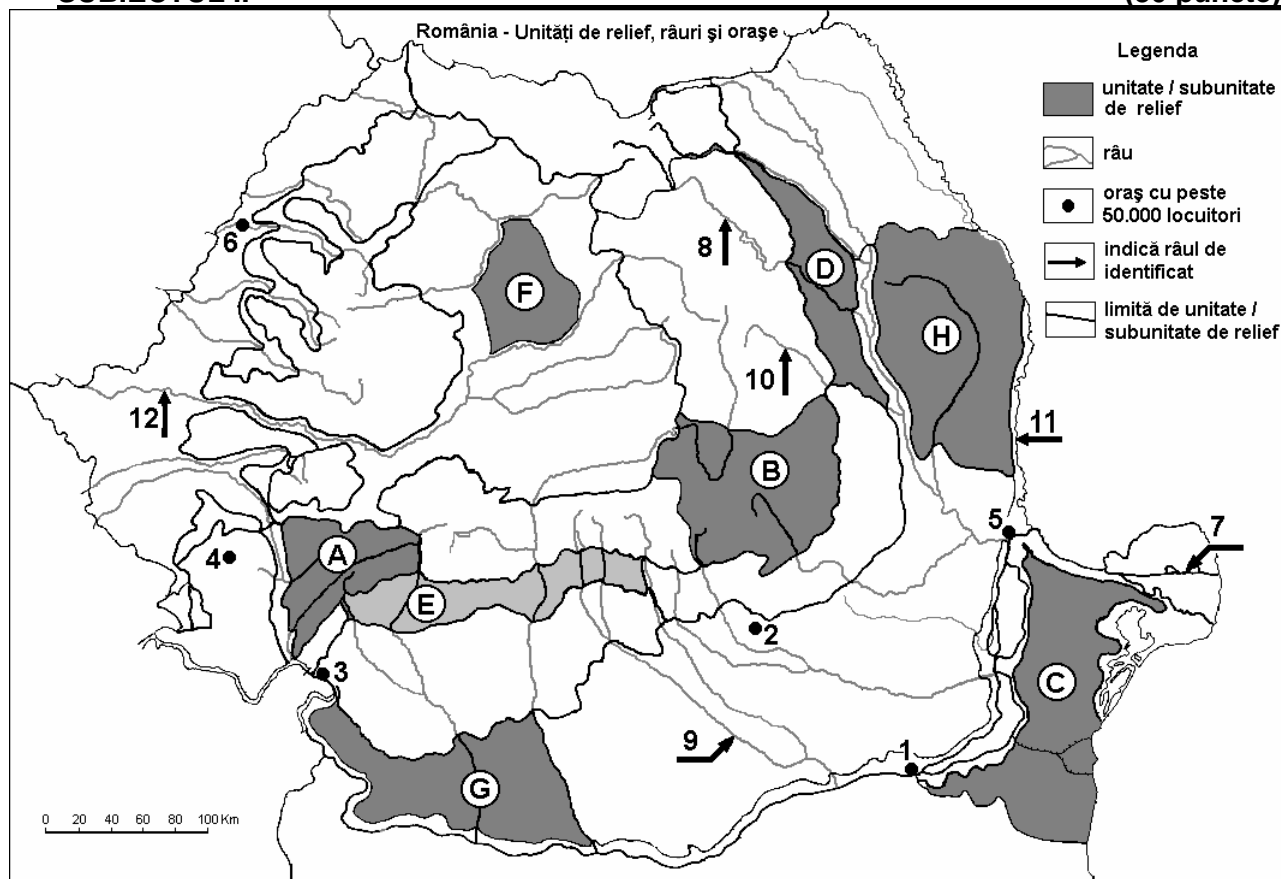
3. Cele mai multe lacuri de tip iaz se găsesc în subunitatea marcată, pe hartă, cu litera:
a. A b. E c. G d. H 2 puncte
4. Orașul marcat, pe hartă, cu numărul **5** este un centru industrial situat în unitatea de relief numită:
a. Câmpia Moldovei b. Câmpia Română c. Câmpia de Vest d. Câmpia Transilvaniei 2 puncte
5. Unitatea de relief marcată, pe hartă, cu litera **C** are un climat temperat cu influențe:
a. baltice b. de ariditate c. oceanice d. submediteraneene 2 puncte
- D. Comparați clima Podișului Moldovei cu clima Dealurilor de Vest, precizând două deosebiri și o asemănare.**
- Nota 1:** Deosebirile se pot referi la oricare dintre următoarele elemente de **climă**: temperaturi medii anuale, precipitații medii anuale, vânturi, influență climatică, etaj climatic.
- Nota 2:** Punctajul complet va fi acordat numai dacă cele două deosebiri și asemănarea vor fi prezentate comparativ și nu separat. **6 puncte**
- E. Explicați dezvoltarea orașului Constanța menționând doi factori favorizanți. 4 puncte**

Examenul de bacalaureat 2008
Proba D, E, F
Proba scrisă la Geografie
Europa – România – Uniunea Europeană

- Toate subiectele sunt obligatorii. Se acordă 10 puncte din oficiu.
- Timpul efectiv de lucru este de 3 ore.

SUBIECTUL II

(30 puncte)



Harta de mai sus se referă la subiectul II A, B, C, D. Pe hartă sunt marcate unități de relief cu litere, orașe cu numere de la 1 la 6 și râuri cu numere de la 7 la 12.

A. Precizați:

1. numele unităților de relief marcate, pe hartă, cu literele A și H;
2. numele orașelor marcate, pe hartă, cu numerele 2 și 4.

4 puncte

B. Scrieți, pe foaia de examen, răspunsurile corecte care completează propozițiile de mai jos:

1. Unitatea de relief marcată, pe hartă, cu litera D s-a format prin ...
2. Formează graniță de stat râul marcat, pe hartă, cu numărul ...
3. Orașul marcat, pe hartă, cu numărul 3 este reședința județului ...

6 puncte

C. Scrieți, pe foaia de examen, litera corespunzătoare răspunsului corect pentru fiecare dintre afirmațiile de mai jos:

1. Bazinul carbonifer Comănești este străbătut de râul marcat, pe hartă, cu numărul:

a. 7 b. 8 c. 9 d. 10 **2 puncte**

2. Dune de nisip se afla în unitatea de relief marcată, pe hartă, cu litera:

a. A b. B c. D d. G **2 puncte**

3. Lacul Izvorul Muntelui se află situat pe râul marcat, pe hartă, cu numărul:

a. 7 b. 8 c. 10 d. 11 **2 puncte**

4. Munți formați în orogeneza hercinică se află în unitatea de relief marcată, pe hartă, cu litera:
a. A b. B c. C d. H 2 puncte
5. Ape geotermale se găsesc în apropierea orașului marcat, pe hartă, cu numărul:
a. 1 b. 2 c. 5 d. 6 2 puncte

D. Precizați două deosebiri și o asemănare între **clima** unității de relief marcate, pe hartă, cu litera **D** și **clima** unității de relief marcate cu litera **F**.

Nota 1: Deosebirile și asemănarea se pot referi la oricare dintre următoarele elemente de climă: temperaturi medii anuale, precipitații medii anuale, vânturi, influență climatică, etaj climatic.

Nota 2: Punctajul complet va fi acordat numai dacă deosebirile și asemănarea vor fi prezentate comparativ și nu separat. **6 puncte**

E. Prezentați două argumente care să demonstreze importanța economică a Mării Negre pentru România.

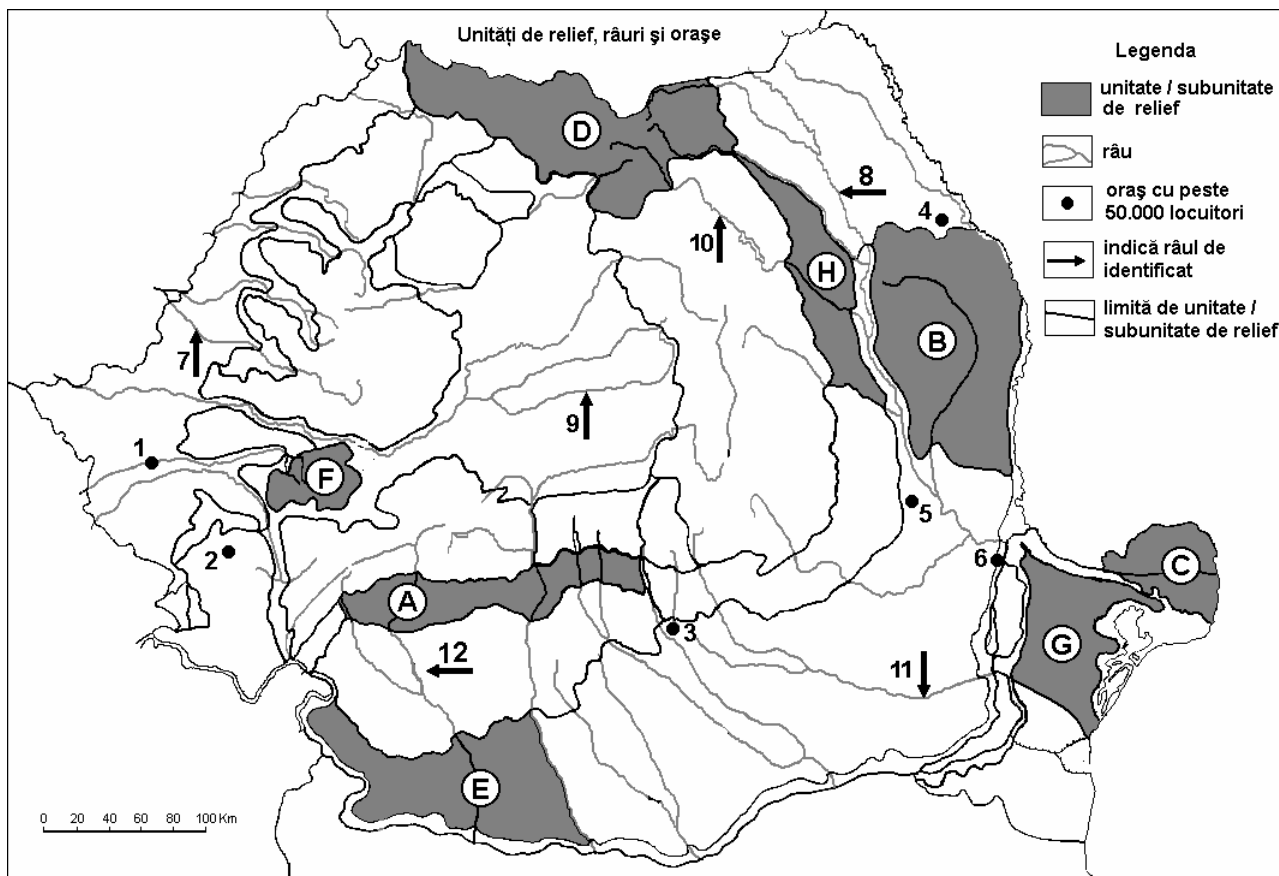
4 puncte

Examenul de bacalaureat 2008
Proba D, E, F
Proba scrisă la Geografie
Europa – România – Uniunea Europeană

- Toate subiectele sunt obligatorii. Se acordă 10 puncte din oficiu.
- Timpul efectiv de lucru este de 3 ore.

SUBIECTUL II

(30 puncte)



Harta de mai sus se referă la subiectul II A - D. Pe hartă sunt marcate unități de relief cu litere, orașe cu numere de la 1 la 6 și râuri cu numere de la 7 la 12.

A. Precizați:

1. numele unităților de relief marcate, pe hartă, cu literele A și F;
2. numele râurilor marcate, pe hartă, cu numerele 8 și 9.

4 puncte

B. Scrieți, pe foaia de examen, răspunsurile corecte care completează propozițiile de mai jos:

1. Sectorul Dunării maritime începe în aval de orașul marcat, pe hartă, cu numărul ...
2. Unitatea de relief marcată, pe hartă, cu litera H se numește...
3. Lacul Izvorul Muntelui s-a amenajat pe râul marcat, pe hartă, cu numărul ...

6 puncte

C. Scrieți, pe foaia de examen, litera corespunzătoare răspunsului corect pentru fiecare dintre afirmațiile de mai jos:

1. Reședința județului Vrancea este orașul marcat, pe hartă, cu numărul:
a. 1 b. 2 c. 3 d. 5 **2 puncte**
2. Se găsesc lacuri glaciare în unitatea de relief marcată, pe hartă, cu litera:
a. A b. D c. F d. G **2 puncte**
3. Cel mai mare oraș din vestul României este marcat, pe hartă, cu numărul:
a. 1 b. 2 c. 3 d. 4 **2 puncte**

4. Este situat într-o câmpie înaltă, orașul marcat, pe hartă, cu numărul:
a. 2 b. 3 c. 4 d. 5 2 puncte
5. Cea mai nouă unitate de relief din România este marcată, pe hartă, cu litera:
a. A b. B c. C d. E 2 puncte

D. Precizați două deosebiri și o asemănare între **relieful**, unității marcate, pe hartă, cu litera **C** și **relieful** unității marcate cu litera **E**.

Nota 1: Deosebirile și asemănarea se pot referi la oricare dintre următoarele aspecte ale **reliefului**: mod de formare, tipuri de roci, distribuția spațială a altitudinilor, gradul de fragmentare, orientarea culmilor și a văilor principale, tipuri genetice de relief, alte aspecte specifice ale reliefului.

Nota 2: Punctajul complet va fi acordat numai dacă deosebirile și asemănarea vor fi prezentate comparativ și nu separat.

6 puncte

E. Prezentați două argumente care să demonstreze importanța economică a Mării Negre pentru România.

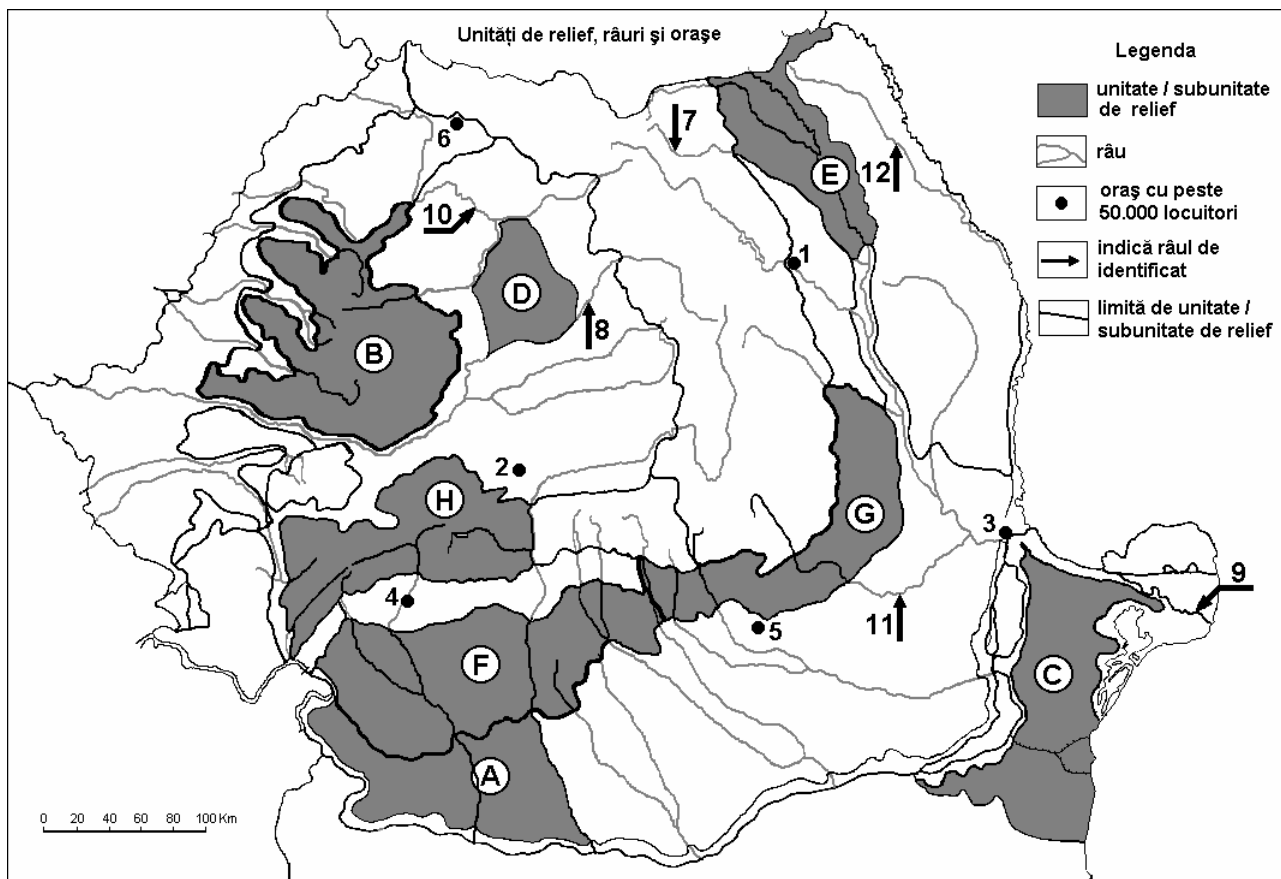
4 puncte

Examenul de bacalaureat 2008
Proba D, E, F
Proba scrisă la Geografie
Europa – România – Uniunea Europeană

- Toate subiectele sunt obligatorii. Se acordă 10 puncte din oficiu.
- Timpul efectiv de lucru este de 3 ore.

SUBIECTUL II

(30 puncte)



Harta de mai sus se referă la subiectul II A - D. Pe hartă sunt marcate unități de relief cu litere, orașe cu numere de la 1 la 6 și râuri cu numere de la 7 la 12.

A. Precizați:

1. numele unităților de relief marcate, pe hartă, cu literele **C** și **E**;
2. numele orașelor marcate, pe hartă, cu numerele **5** și **6**.

4 puncte

B. Scrieți, pe foaia de examen, răspunsurile corecte care completează propozițiile de mai jos:

1. Reședința județului Neamț este marcată, pe hartă, cu numărul ...
2. Unitatea de relief marcată, pe hartă, cu litera **F** se numește ...
3. Orașul marcat, pe hartă, cu numărul **2** se numește ...

6 puncte

C. Scrieți, pe foaia de examen, litera corespunzătoare răspunsului corect pentru fiecare dintre afirmațiile de mai jos:

1. Prezintă cele mai multe depresiuni tectonice unitatea de relief marcată, pe hartă, cu litera:
a. B b. C c. F d. G **2 puncte**
2. Important centru siderurgic este orașul marcat, pe hartă, cu numărul:
a. 1 b. 3 c. 4 d. 5 **2 puncte**
3. Străbate o câmpie de subsidență râul marcat, pe hartă, cu numărul:
a. 7 b. 8 c. 11 d. 12 **2 puncte**

4. Numărul 9 de pe hartă, reprezintă brațul dunărean:

a. Borcea b. Chilia c. Macin d. Sf.Gheorghe **2 puncte**

5. Două șiruri de depresiuni și două șiruri de dealuri se găsesc în unitatea de relief marcată, pe hartă, cu litera:

a. C b. D c. E d. G **2 puncte**

D. Precizați trei deosebiri între **relieful** unității marcate, pe hartă, cu litera **D** și **relieful** unității marcate cu litera **H**.

Nota 1: Deosebirile se pot referi la oricare dintre următoarele aspecte ale **reliefului**: mod de formare, tipuri de roci, distribuția spațială a altitudinilor, gradul de fragmentare, orientarea culmilor și văilor principale, tipuri genetice de relief, alte aspecte specifice ale reliefului.

Nota 2: Punctajul complet va fi acordat numai dacă cele trei deosebiri vor fi prezentate comparativ și nu separat.

6 puncte

E. Precizați două cauze care determină, în România, deteriorarea vegetației din cadrul etajului alpin.

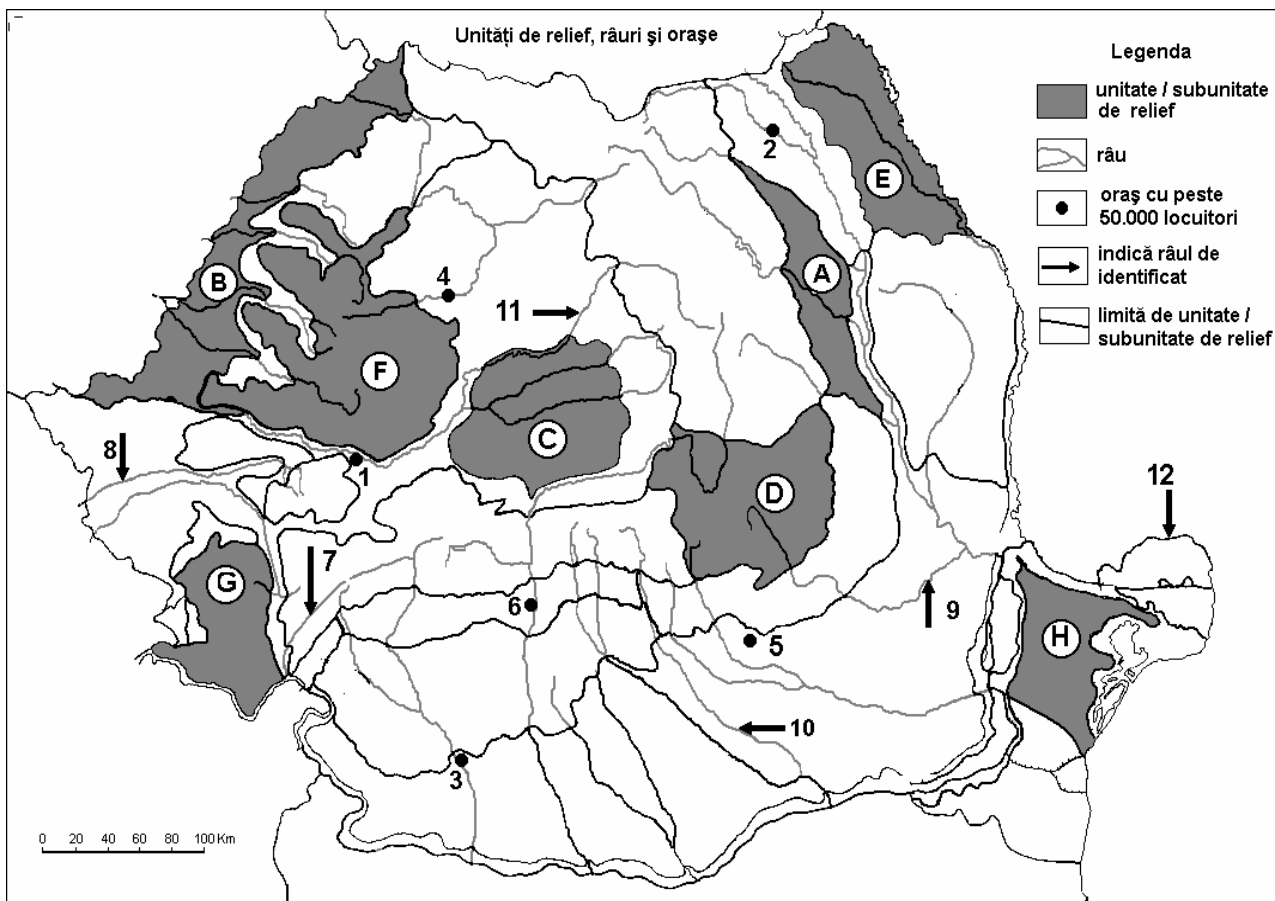
4 puncte

Examenul de bacalaureat 2008
Proba D, E, F
Proba scrisă la Geografie
Europa – România – Uniunea Europeană

- Toate subiectele sunt obligatorii. Se acordă 10 puncte din oficiu.
- Timpul efectiv de lucru este de 3 ore.

SUBIECTUL II

(30 puncte)



Harta de mai sus se referă la subiectul II A – E. Pe hartă sunt marcate unități de relief cu litere, orașe cu numere de la 1 la 6 și râuri cu numere de la 7 la 12.

A. Precizați:

1. numele unităților de relief marcate, pe hartă, cu literele **F** și **H**;
2. numele orașelor marcate, pe hartă, cu numerele **6** și **5**.

4 puncte

B. Scrieți, pe foaia de examen, răspunsurile corecte care completează propozițiile de mai jos:

1. Orașul cu cel mai mare număr de locuitori străbătut de râul marcat, pe hartă, cu numărul **10** se numește...
2. Gazul metan se extrage din unitatea de relief marcată, pe hartă, cu litera...
3. Șisturile verzi sunt specifice unității de relief marcată, pe hartă, cu litera...

6 puncte

C. Scrieți, pe foaia de examen, litera corespunzătoare răspunsului corect pentru fiecare dintre afirmațiile de mai jos:

1. Râul marcat, pe hartă, cu numărul **7** se numește:

a. Cerna

b. Jiu

c. Motru

d. Timiș

2 puncte

2. Orașul marcat, pe hartă, cu numărul **3** este străbătut de râul:

a. Argeș

b. Dunăre

c. Jiu

d. Olt

2 puncte

3. Defileul Dunării este situat la sud de unitatea de relief marcată, pe hartă, cu litera:
a. A b. C c. F d. G 2 puncte
4. Orașul marcat, pe hartă, cu numărul **1** se numește:
a. Alba Iulia b. Deva c. Hunedoara d. Petroșani 2 puncte
5. Râul Someșul Mic străbate orașul marcat, pe hartă, cu numărul:
a. 1 b. 2 c. 4 d. 6 2 puncte

D. Precizați trei deosebiri între **clima** unității de relief marcate, pe hartă, cu **A** și **clima** unității de relief marcate, pe hartă, cu **G**.

Nota 1: Deosebirile se pot referi la oricare dintre următoarele elemente de **climă**: temperaturi medii anuale, precipitații medii anuale, vânturi, influență climatică, etaj climatic.

Nota 2: Punctajul complet va fi acordat numai dacă cele trei deosebiri vor fi prezentate comparativ și nu separat.

6 puncte

E. Prezentați două cauze care explică masivitatea redusă a unităților marcate, pe hartă, cu literele **F** și **G**.

4 puncte