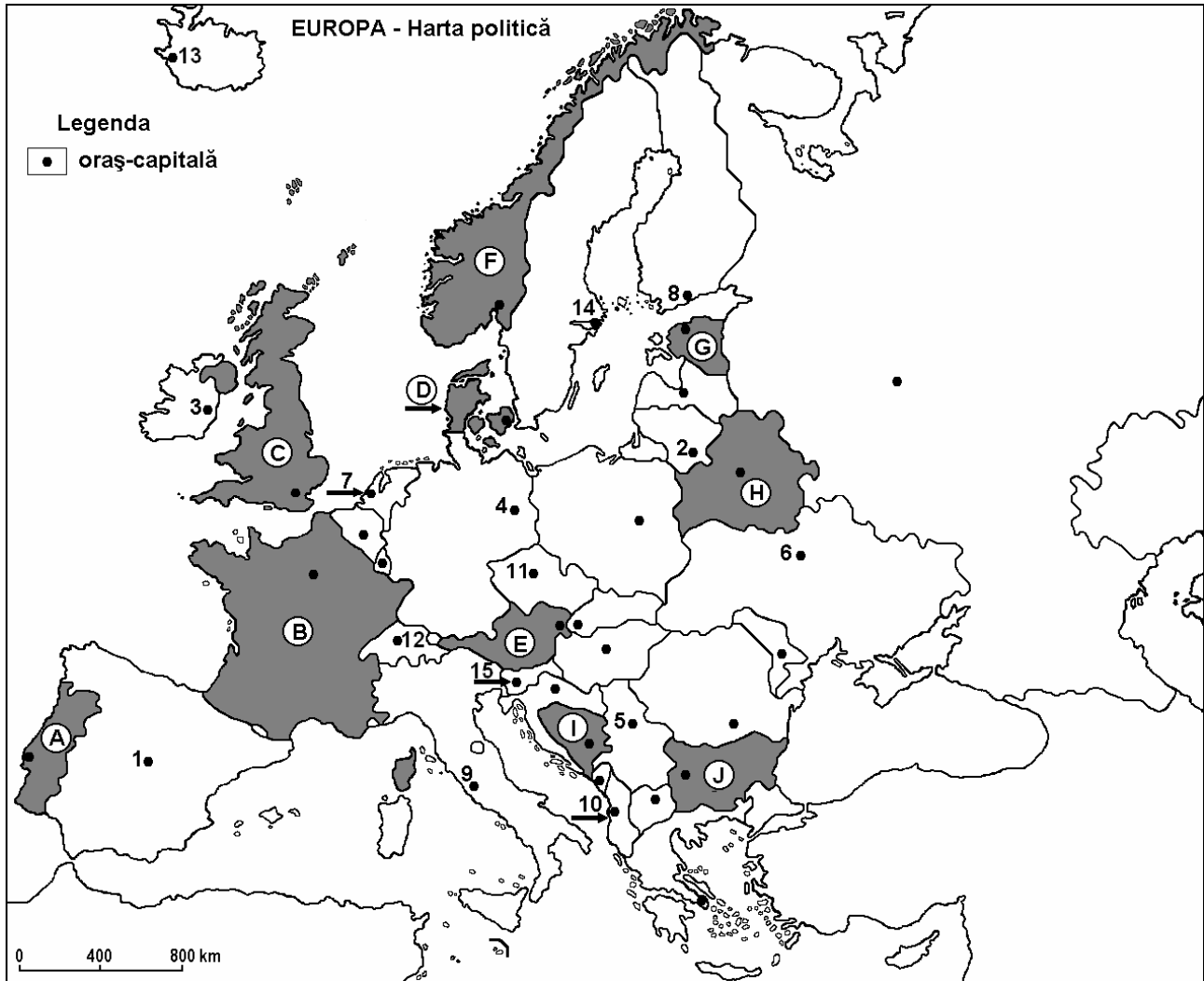


Examenul de bacalaureat 2008
Proba D, E, F
Proba scrisă la Geografie
Europa – România – Uniunea Europeană

- Toate subiectele sunt obligatorii. Se acordă 10 puncte din oficiu.
- Timpul efectiv de lucru este de 3 ore.

SUBIECTUL I

(30 puncte)



Harta de mai sus se referă la subiectul I A – C. Pe hartă sunt marcate state cu litere și orașe – capitală cu numere.

A. Precizați:

1. numele statelor marcate, pe hartă, cu literele **B** și **C**;
2. numele orașelor-capitală marcate, pe hartă, cu numerele **1** și **4**.

4 puncte

B. Scrieți, pe foaia de examen, răspunsurile corecte care completează propozițiile de mai jos:

1. Lisabona este capitala statului, marcat pe hartă, cu litera...
2. Fluviul Sena străbate teritoriul statului marcat, pe hartă, cu litera...
3. Munții Penini se găsesc în statul marcat, pe hartă, cu litera...

6 puncte

C. Scrieți, pe foaia de examen, litera corespunzătoare răspunsului corect pentru fiecare dintre afirmațiile de mai jos:

1. Țărmurile cu fiorduri sunt specifice statului, marcat, pe hartă cu litera:
a. A b. B c. F d. J **2 puncte**
2. Fluviul Pad este situat în statul a cărui capitală este orașul marcat, pe hartă, cu numărul:
a. 5 b. 9 c. 11 d. 14 **2 puncte**
3. Viticultura este prezentă pe spații întinse în statul, marcat, pe hartă, cu litera:
a. B b. F c. G d. H **2 puncte**
4. Capitala Sloveniei este orașul marcat pe hartă cu numărul:
a. 11 b. 12 c. 14 d. 15 **2 puncte**
5. Formațiuni vegetale de tip *maquis* sau *gariga* sunt prezente în statul, marcat, pe hartă, cu litera:
a. B b. C c. G d. H **2 puncte**

D. Precizați trei deosebiri între **clima** Eurpei nordice și **clima** Europei sudice.

Nota 1: Deosebirile se pot referi la oricare dintre următoarele elemente de **climă**: tip de climă, temperaturi medii anuale, precipitații medii anuale, vânturi, amplitudine termică.

Nota 2: Punctajul complet va fi acordat numai dacă cele trei deosebiri vor fi prezentate comparativ și nu separat.

6 puncte

E. Precizați:

1. o cauză a prezenței lacurilor glaciare în Peninsula Scandinavă;
2. o cauză a fenomenului de îmbătrânire a populației Europei.

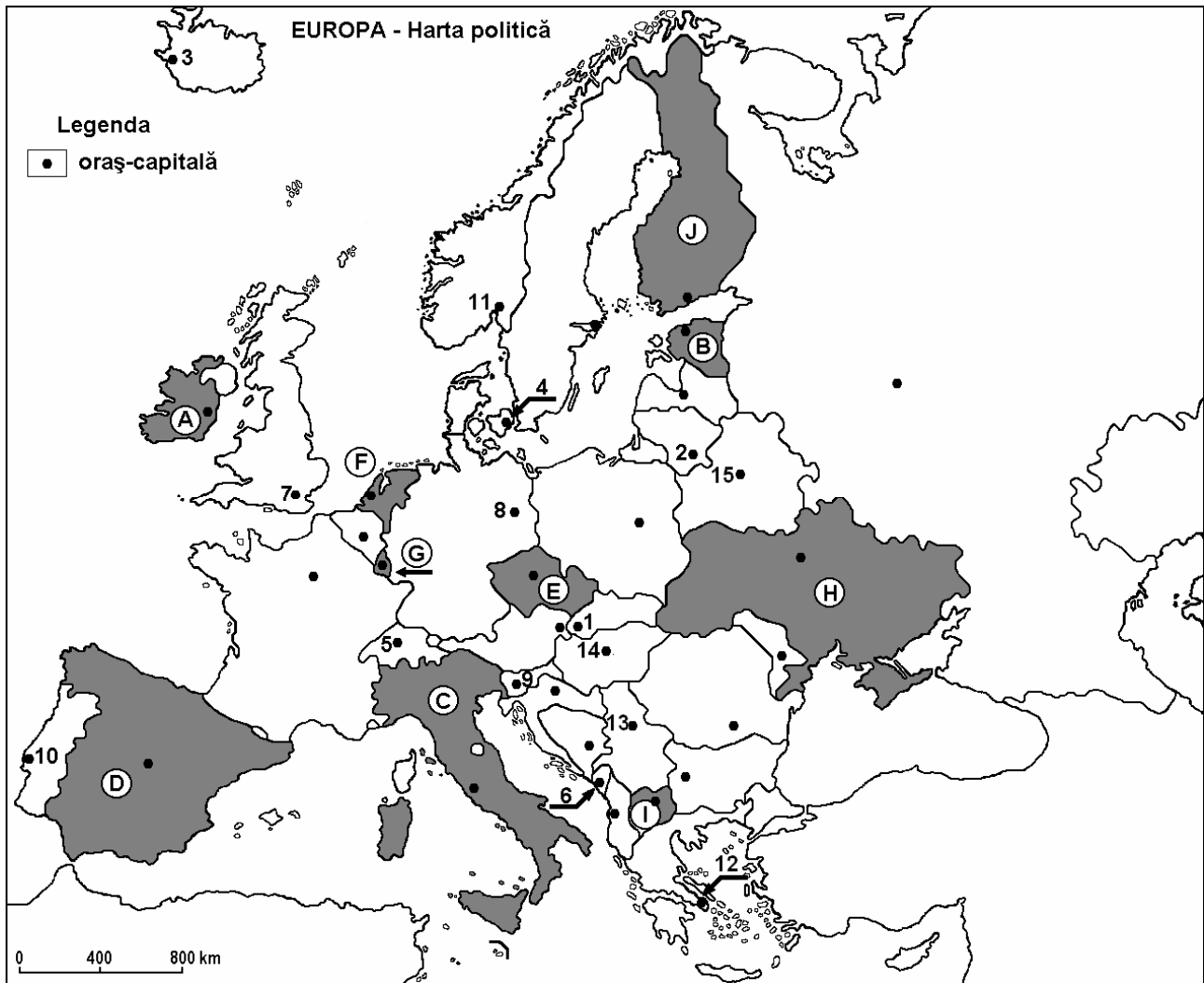
4 puncte

Examenul de bacalaureat 2008
Proba D, E, F
Proba scrisă la Geografie
Europa–România–Uniunea Europeană

- Toate subiectele sunt obligatorii. Se acordă 10 puncte din oficiu.
- Timpul efectiv de lucru este de 3 ore.

SUBIECTUL I

(30 puncte)



Harta de mai sus se referă la subiectul I A – C. Pe hartă sunt marcate state cu litere și orașe – capitală cu numere.

A. Precizați:

1. numele statelor marcate, pe hartă, cu literele **C** și **D**;
2. numele orașelor-capitală marcate, pe hartă, cu numerele **7** și **12**.

4 puncte

B. Scrieți, pe foaia de examen, răspunsurile corecte care completează propozițiile de mai jos:

1. Sectorul central al Munților Carpați se găsește în statul marcat, pe hartă, cu litera...
2. Podișul Meseta este situat în statul marcat, pe hartă, cu litera...
3. Climatul rece este întâlnit în statul marcat, pe hartă, cu litera...

6 puncte

C. Scrieți, pe foaia de examen, litera corespunzătoare răspunsului corect pentru fiecare dintre afirmațiile de mai jos:

1. Este situat într-o unitate de relief montan orașul-capitală marcat, pe hartă, cu numărul:
a. 2 b. 5 c. 14 d. 15 **2 puncte**
2. Sunt așezate pe Dunăre orașele-capitală marcate, pe hartă, cu numerele:
a. 1 și 5 b. 6 și 9 c. 9 și 14 d. 1 și 13 **2 puncte**
3. Stepa se întâlnește în statul marcat, pe hartă, cu litera:
a. A b. E c. H d. G **2 puncte**
4. Podișul Boemiei este situat în statul marcat, pe hartă, cu litera:
a. C b. E c. G d. H **2 puncte**
5. Statul San Marino este o enclavă în cadrul statului marcat, pe hartă, cu litera:
a. A b. C c. D d. I **2 puncte**

D. Precizați două deosebiri și o asemănare între **relieful** Munților Alpi și **relieful** Munților Scandinaviei.

Nota 1: Deosebirile se pot referi la oricare dintre următoarele aspecte ale **reliefului**: mod de formare, tipuri de roci, distribuția spațială a altitudinilor, gradul de fragmentare, orientarea culmilor și a văilor principale, tipuri genetice de relief, alte aspecte specifice ale reliefului.

Nota 2: Punctajul complet va fi acordat numai dacă cele două deosebiri și asemănarea vor fi prezentate comparativ și nu separat.

6 puncte

E. Prezentați:

1. o cauză a prezenței ghețarilor în Munții Pirinei;
2. o cauză a scăderii cantității de precipitații din vestul spre estul Europei.

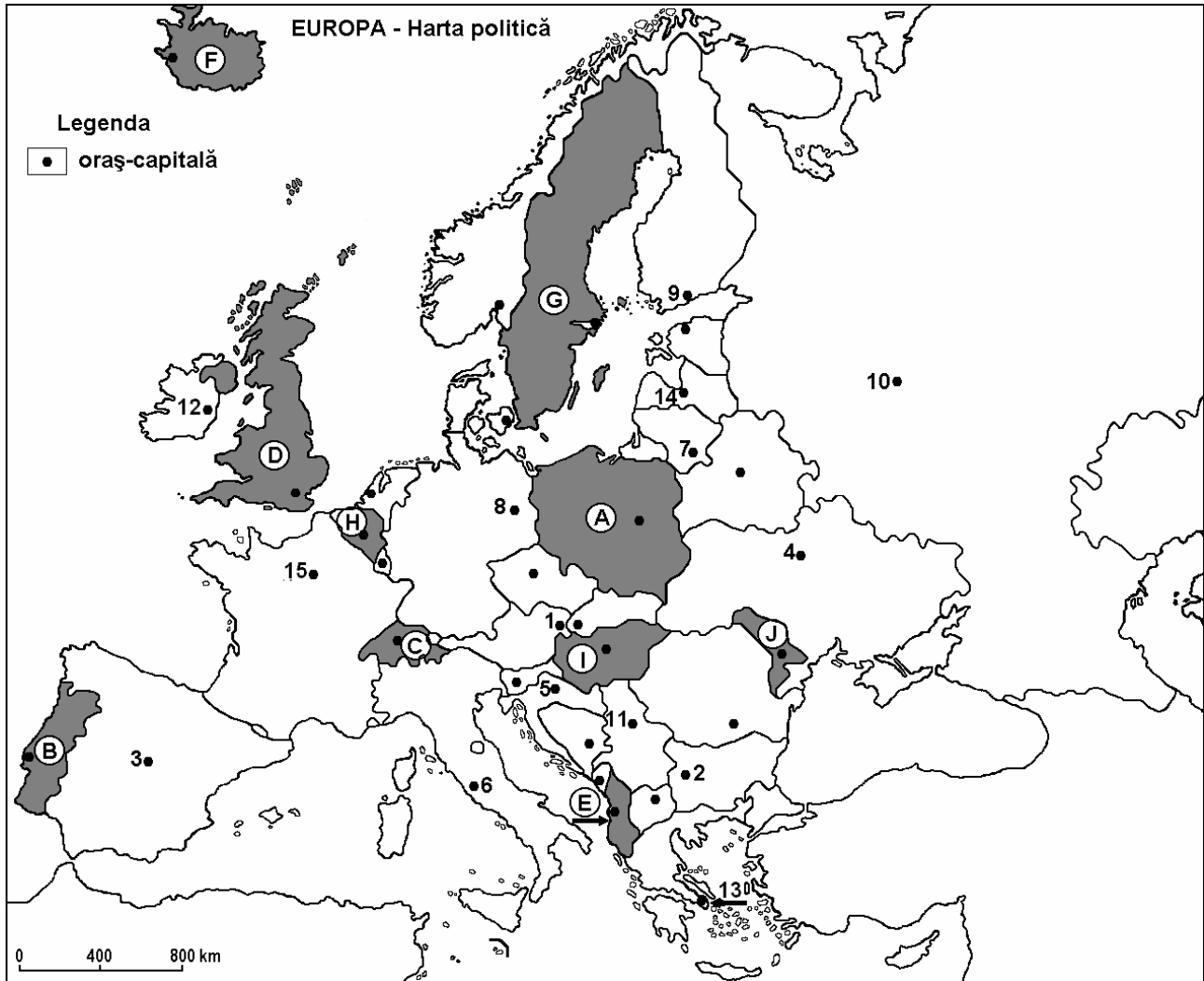
4 puncte

Examenul de bacalaureat 2008
Proba D, E, F
Proba scrisă la Geografie
Europa–România–Uniunea Europeană

- Toate subiectele sunt obligatorii. Se acordă 10 puncte din oficiu.
- Timpul efectiv de lucru este de 3 ore.

SUBIECTUL I

(30 puncte)



Harta de mai sus se referă la subiectul I A – C. Pe hartă sunt marcate state cu litere și orașe – capitală cu numere.

A. Precizați:

1. numele statelor marcate, pe hartă, cu literele **B** și **D**;
2. numele orașelor-capitală marcate, pe hartă, cu numerele **3** și **10**.

4 puncte

B. Scrieți, pe foaia de examen, răspunsurile corecte care completează propozițiile de mai jos:

1. Este traversat de fluviul Sena orașul marcat, pe hartă, cu numărul...
2. Lacul Balaton este situat în statul marcat, pe hartă, cu litera...
3. Vulcani activi se găsesc în statul marcat, pe hartă, cu litera...

6 puncte

C. Scrieți, pe foaia de examen, litera corespunzătoare răspunsului corect pentru fiecare dintre afirmațiile de mai jos:

1. Resurse importante de minereu de fier se găsesc în statul marcat, pe hartă, cu litera:
a. B b. G c. H d. J **2 puncte**
2. Are ieșire la Marea Mediterană statul marcat, pe hartă, cu litera:
a. B b. C c. E d. I **2 puncte**
3. Pădurea de conifere este întâlnită în statul marcat, pe hartă, cu litera:
a. B b. G c. H d. J **2 puncte**
4. A făcut parte din URSS statul marcat, pe hartă, cu litera:
a. A b. E c. I d. J **2 puncte**
5. Cel mai populat oraș al Europei, este orașul marcat, pe hartă, cu numărul:
a. 2 b. 7 c. 10 d. 12 **2 puncte**

D. Precizați trei deosebiri între **clima** din nordul Europei și **clima** din sudul Europei.

Nota 1: Deosebirile se pot referi la oricare dintre următoarele elemente de **climă**: tip de climă, temperaturi medii anuale, precipitații medii anuale, vânturi, amplitudine termică.

Nota 2: Punctajul complet va fi acordat numai dacă cele trei deosebiri vor fi prezentate comparativ și nu separat.

6 puncte

E. Prezențați:

1. o cauză care determină necesitatea forței de muncă externă (imigranți) pentru unele state europene;
2. o cauză care justifică prezența, la aceeași latitudine, a pădurilor în Norvegia, și a ghețarilor în Groenlanda.

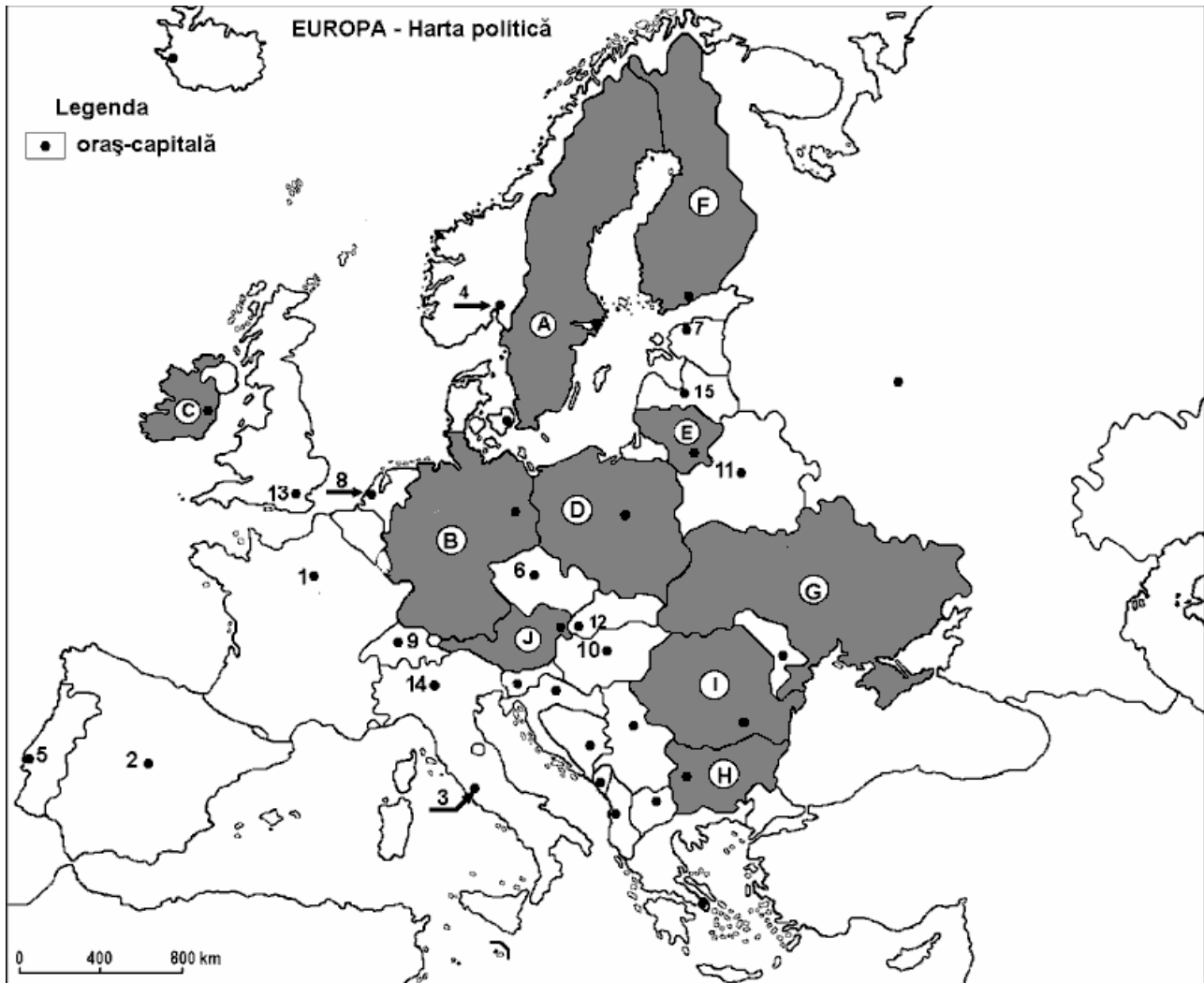
4 puncte

Examenul de bacalaureat 2008
Proba D, E, F
Proba scrisă la Geografie
Europa – România – Uniunea Europeană

- Toate subiectele sunt obligatorii. Se acordă 10 puncte din oficiu.
- Timpul efectiv de lucru este de 3 ore.

SUBIECTUL I

(30 puncte)



Harta de mai sus se referă la subiectul I A – C. Pe hartă sunt marcate state cu litere și orașe-capitală cu numere.

A. Precizați:

1. numele statelor marcate, pe hartă, cu numere **D** și **F**;
2. numele orașelor-capitală marcate, pe hartă, cu numerele **2** și **6**.

4 puncte

B. Scrieți, pe foaia de examen, răspunsurile corecte care completează propozițiile de mai jos:

1. Climatul caracteristic statului marcat, pe hartă, cu litera **C** este cel temperat ...
2. Fluviul care traversează orașul - capitală marcat, pe hartă, cu numărul **1** se numește....
3. Orașul - capitală marcat, pe hartă, cu numărul **8** se numește...

6 puncte

C. Scrieți, pe foaia de examen, litera corespunzătoare răspunsului corect pentru fiecare dintre afirmațiile de mai jos:

1. Cel mai populat stat din Europa Centrală este marcat, pe hartă, cu litera:

a. B	b. D	c. I	d. J	2 puncte
------	------	------	------	-----------------
2. Cu litera **J** este marcat, pe hartă, statul:

a. Cehia	b. Elveția	c. Polonia	d. Ungaria	2 puncte
----------	------------	------------	------------	-----------------
3. Câmpia Nord-Europeană ocupă o parte din teritoriul statului marcat, pe hartă, cu litera:

a. B	b. C	c. H	d. J	2 puncte
------	------	------	------	-----------------
4. Orașul marcat, pe hartă, cu numărul **8** este capitala statului:

a. Belgia	b. Elveția	c. Franța	d. Olanda	2 puncte
-----------	------------	-----------	-----------	-----------------
5. Capitala statului Belarus este marcat, pe hartă, cu numărul:

a. 4	b. 7	c. 11	d. 15	2 puncte
------	------	-------	-------	-----------------

D. Precizați două deosebiri și o asemănare între **relieful** Munților Alpi și **relieful** Munților Scandinaviei.

Nota 1: Deosebirile și asemnarea se pot referi la oricare dintre următoarele aspecte ale **reliefului**: mod de formare, tipuri de roci, distribuția spațială a altitudinilor, gradul de fragmentare, orientarea culmilor și a vailor principale, tipuri genetice de relief, alte aspecte specifice ale reliefului.

Nota 2: Punctajul complet va fi acordat numai dacă cele două deosebiri și asemanarea vor fi prezentate comparativ și nu separat.

6 puncte

E. Precizați doi factori care fac ca Italia să se numere printre țările europene care primesc cel mai mare număr de turiști anual.

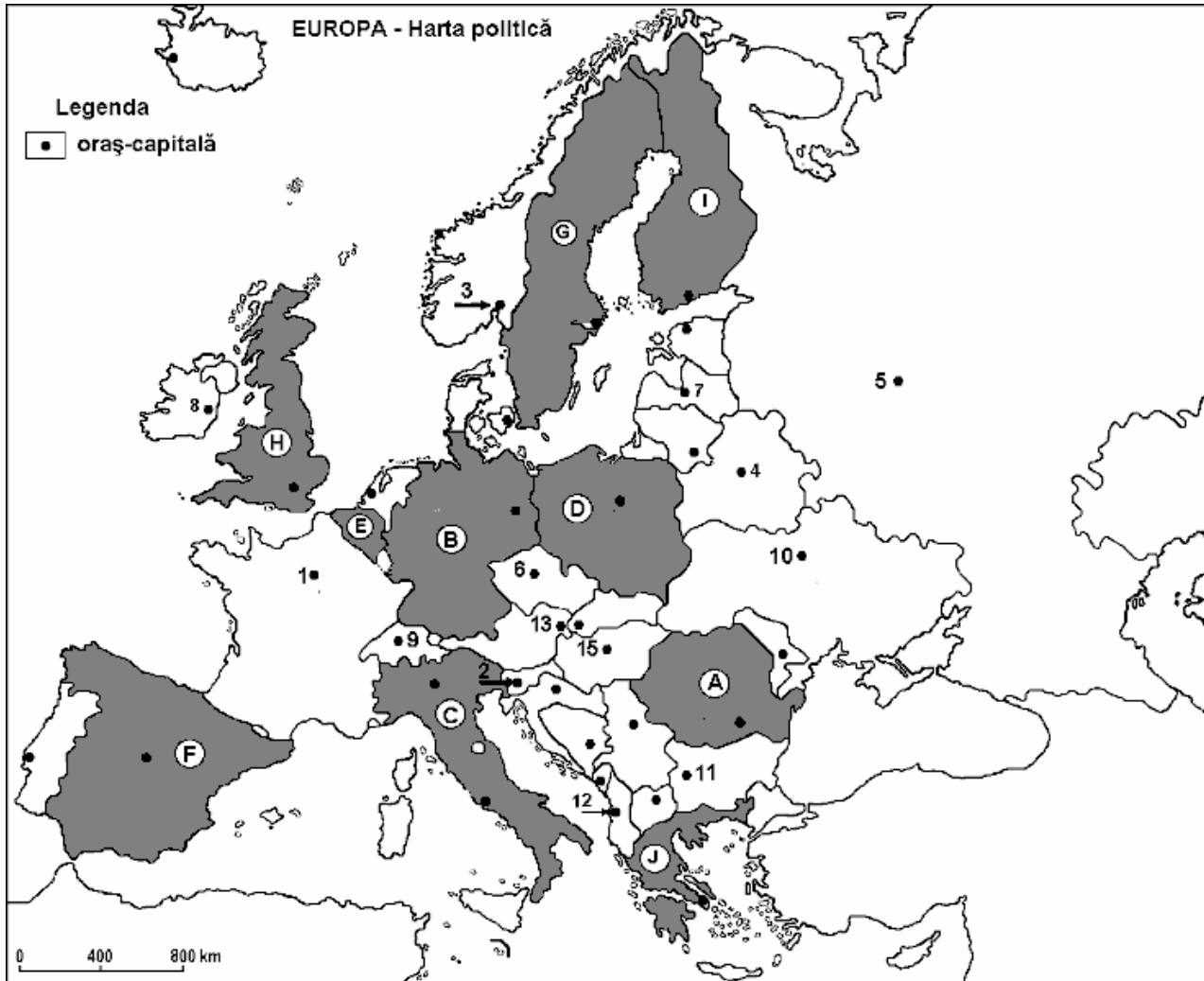
4 puncte

Examenul de bacalaureat 2008
Proba D, E, F
Proba scrisă la GEOGRAFIE
Europa–România–Uniunea Europeană

- Toate subiectele sunt obligatorii. Se acordă 10 puncte din oficiu.
- Timpul efectiv de lucru este de 3 ore.

SUBIECTUL I

(30 puncte)



Harta de mai sus se referă la subiectul I A – C . Pe hartă sunt marcate state cu litere și orașe – capitală cu numere.

A. Precizați:

1. numele statelor marcate, pe hartă, cu literele **C** și **E**;
2. numele orașelor-capitală marcate, pe hartă, cu numerele **4** și **7**.

4 puncte

B. Scrieți, pe foaia de examen, răspunsurile corecte care completează propozițiile de mai jos:

1. Statul marcat, pe hartă, cu litera **I** are ieșire la Marea ...
2. Orașul-capitală traversat de fluviul Sena este marcat, pe hartă, cu numărul ...
3. Lanțul muntos situat în sudul statului marcat, pe hartă, cu litera **B** este cel al Munților ...

6 puncte

C. Scrieți, pe foaia de examen, litera corespunzătoare răspunsului corect pentru fiecare dintre afirmațiile de mai jos:

1. Orasul marcat, pe hartă, cu numărul **5** este:
a. Kiev b. Minsk c. Moscova d. Varsovia **2 puncte**
2. Bazinul carbonifer Ruhr se găsește în statul marcat, pe hartă, cu litera:
a. B b. D c. E d. H **2 puncte**
3. Statul marcat, pe hartă, cu litera **D** se învecinează spre vest cu:
a. Germania b. Finlanda c. Marea Britanie d. Suedia **2 puncte**
4. Insula Sardinia aparține statului marcat, pe hartă, cu litera:
a. B b. C c. I d. J **2 puncte**
5. Câmpia situată pe teritoriul statelor marcate, pe hartă, cu literele **B** și **D** este de origine:
a. fluvio-lacustră b. fluvio-glaciară c. litorală d. piemontană **2 puncte**

D. Precizați două deosebiri și o asemănare între **relieful** Munților Carpați și **relieful** Munților Ural.

Nota 1: Deosebirile și asemănările se pot referi la oricare dintre următoarele aspecte ale **reliefului**: mod de formare, tipuri de roci, distribuția spațială a altitudinilor, gradul de fragmentare, orientarea culmilor și a vailor principale, tipuri genetice de relief, alte aspecte specifice ale reliefului.

Nota 2: Punctajul complet va fi acordat numai dacă cele două deosebiri și o asemănare vor fi prezentate comparativ și nu separat.

6 puncte

E. 1. Prezentați o cauză care determină formarea estuarelor la fluviile care se varsă în Oceanul Atlantic.

2. Precizați o importanță economică a acestora.

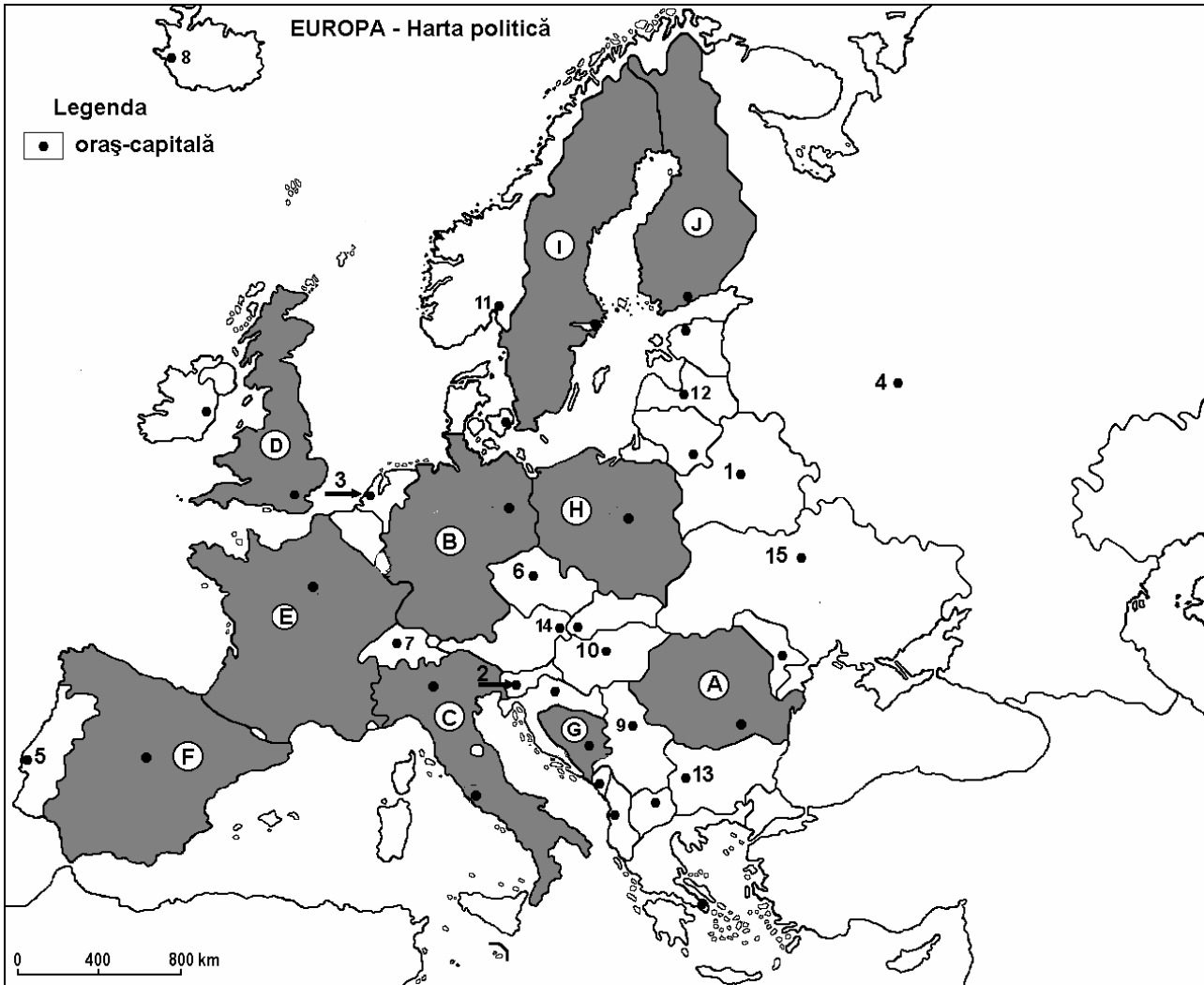
4 puncte

Examenul de bacalaureat 2008
Proba D, E, F
Proba scrisă la GEOGRAFIE
Europa–România–Uniunea Europeană

- Toate subiectele sunt obligatorii. Se acordă 10 puncte din oficiu.
- Timpul efectiv de lucru este de 3 ore.

SUBIECTUL I

(30 puncte)



Harta de mai sus se referă la subiectul I A - C. Pe hartă sunt marcate state cu litere și orașe - capitală cu numere.

A. Precizați:

1. numele statelor marcate, pe hartă, cu literele **D** și **I**;
2. numele orașelor-capitală marcate, pe hartă, cu numerele **3** și **4**.

4 puncte

B. Scrieți, pe foaia de examen, răspunsurile corecte care completează propozițiile de mai jos:

1. Munții Apenini se găsesc pe teritoriul statului marcat, pe hartă, cu litera ...
2. Cea mai importantă resursă energetică a statului marcat, pe hartă, cu litera **D** este ...
3. Statul marcat, pe hartă, cu litera **J** are ieșire la Marea ...

6 puncte

C. Scrieți, pe foaia de examen, litera corespunzătoare răspunsului corect pentru fiecare dintre afirmațiile de mai jos:

1. Fluviul care străbate statul marcat, pe hartă, cu litera **H** este:

a. Nipru	b. Nistru	c. Vistula	d. Volga	2 puncte
----------	-----------	------------	----------	-----------------
2. Masivul Central Francez se găsește pe teritoriul statului marcat, pe hartă, cu litera:

a. B	b. C	c. E	d. F	2 puncte
------	------	------	------	-----------------
3. Capitala statului Belarus este orașul marcat, pe hartă, cu numărul:

a. 1	b. 4	c. 6	d. 10	2 puncte
------	------	------	-------	-----------------
4. Climatul temperat - oceanic este caracteristic statului marcat, pe hartă, cu litera:

a. C	b. D	c. G	d. J	2 puncte
------	------	------	------	-----------------
5. Cel mai mare producator de autovehicule din Europa este statul marcat, pe hartă, cu litera:

a. A	b. B	c. H	d. I	2 puncte
------	------	------	------	-----------------

D. Precizați două deosebiri și o asemănare între **relieful** Câmpiei Padului și **relieful** Câmpiei Europei de Est.

Nota 1: Deosebirile și asemănarea se pot referi la oricare dintre următoarele aspecte ale **reliefului**: mod de formare, tipuri de roci pe care s-a format relieful, distribuția spațială a altitudinilor, gradul de fragmentare, orientarea culmilor și a vailor principale, tipuri genetice de relief, alte aspecte specifice ale reliefului.

Nota 2: Punctajul complet va fi acordat numai dacă cele două deosebiri și asemănarea vor fi prezentate comparativ și nu separat.

6 puncte

E. Precizați două cauze care determină densitatea scăzută a populației din Peninsula Scandinavă.

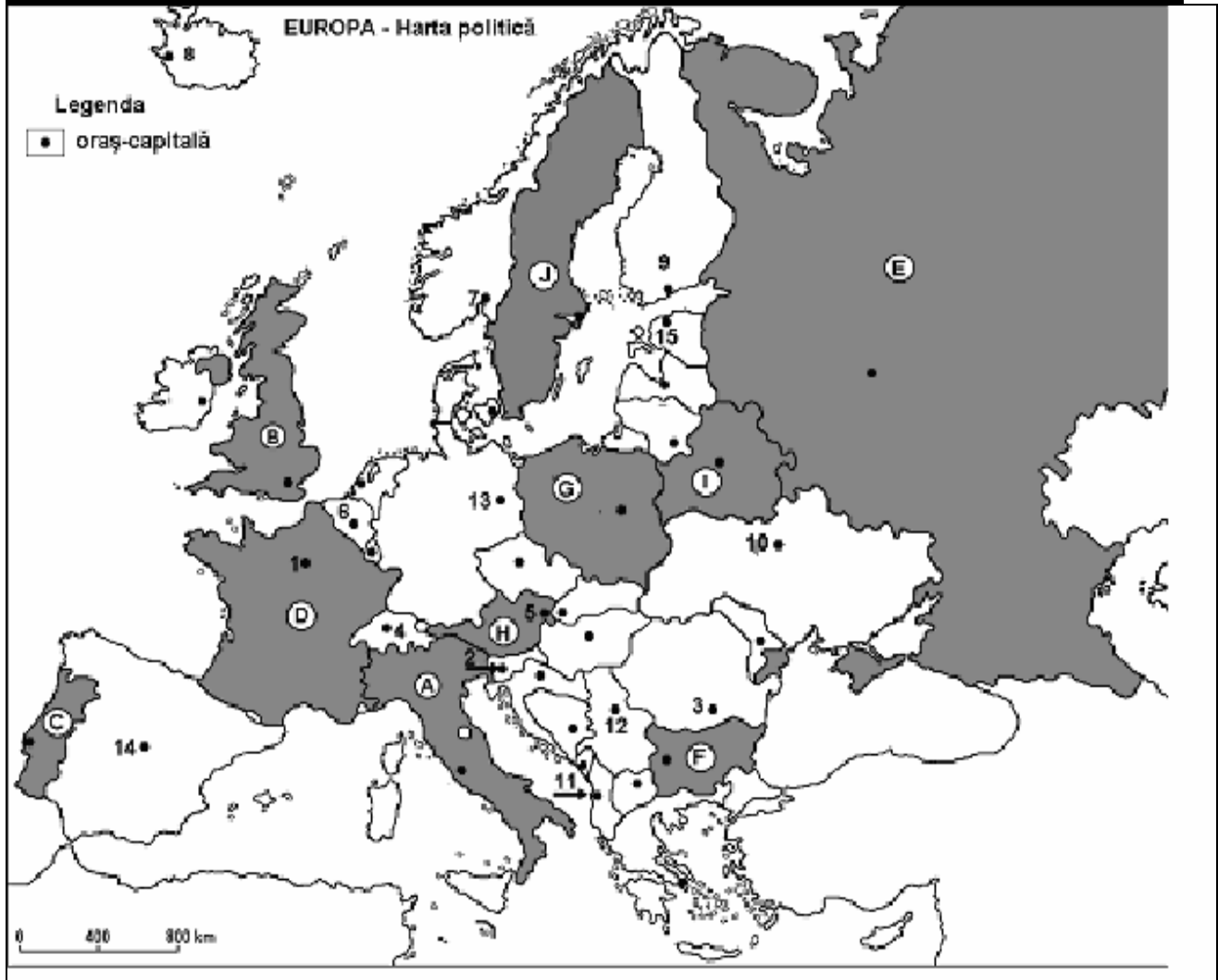
4 puncte

Examenul de bacalaureat 2008
Proba D, E, F
Proba scrisă la Geografie
Europa – România – Uniunea Europeană

- Toate subiectele sunt obligatorii. Se acordă 10 puncte din oficiu.
- Timpul efectiv de lucru este de 3 ore.

SUBIECTUL I

(30 puncte)



Harta de mai sus se referă la subiectele A – C. Pe hartă sunt marcate state cu litere de la A la J și orașe –capitală cu numere de la 1 la 15.

A. Precizați:

1. numele statelor marcate, pe hartă, cu literele **C** și **I**.
2. numele orașelor-capitală marcate, pe hartă, cu numerele **5** și **12**.

4 puncte

B. Scrieți, pe foaia de examen, răspunsurile corecte care completează propozițiile de mai jos:

1. Statul marcat, pe hartă, cu litera **D** se numește ...
2. Statul marcat, pe hartă, cu litera **A** are, în zonele cu altitudini reduse, un climat predominant ...
3. Bazinul carbonifer Silezia Superioară se află pe teritoriul statului marcat, pe hartă, cu litera

6 puncte

C. Scrieți, pe foaia de examen, litera corespunzătoare răspunsului corect pentru fiecare dintre afirmațiile de mai jos:

1. Orașul marcat pe hartă cu numărul **12** este capitala statului:
a. Croația b. Muntenegru c. Serbia d. Slovenia **2 puncte**
2. Statul marcat, pe hartă, cu litera **F** se numește:
a. Albania b. Bulgaria c. Croația d. Muntenegru **2 puncte**
3. Statul cu cea mai mică suprafață din Europa este o enclavă situată în statul marcat, pe hartă, cu litera:
a. A b. B c. C d. H **2 puncte**
4. Cea mai mare parte a populației din statul marcat, pe hartă, cu litera **F** este de religie:
a. catolică b. ortodoxă c. islamică d. protestantă **2 puncte**
5. Statul marcat, pe hartă, cu litera **G** a aderat la Uniunea Europeană în anul:
a. 1986 b. 2004 c. 2007 d. 1981 **2 puncte**

D. Comparați regiunile montane din Peninsula Scandinavă și Peninsula Iberică, precizând o asemănare și două deosebiri din punct de vedere al reliefului.

Nota 1: Deosebirile și asemănarea se pot referi la oricare dintre următoarele aspecte ale reliefului: mod de formare, tipuri de roci pe care s-a format relieful, distribuția spațială a altitudinilor, gradul de fragmentare, orientarea culmilor și a văilor principale, tipuri genetice de relief, alte aspecte specifice ale reliefului.

Nota 2: Punctajul complet va fi acordat numai dacă cele deosebiri și asemănarea vor fi prezentate comparativ și nu separat. **6 puncte**

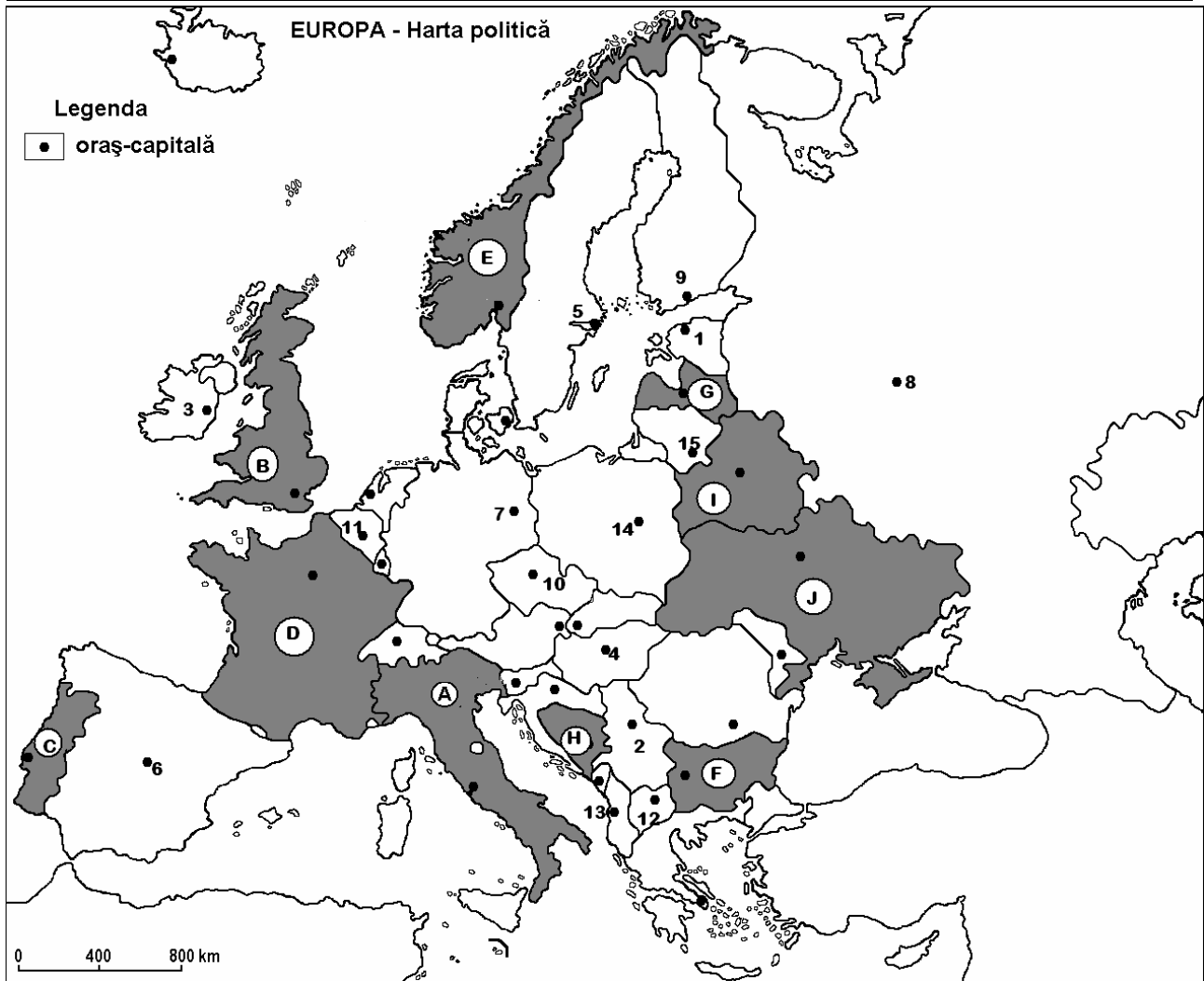
E. Explicați prezența climatului temperat continental cu nuanțe de ariditate din estul Europei, precizând doi factori generatori. **4 puncte**

Examenul de bacalaureat 2008
Proba D, E, F
Proba scrisă la Geografie
Europa – România – Uniunea Europeană

- Toate subiectele sunt obligatorii. Se acordă 10 puncte din oficiu.
- Timpul efectiv de lucru este de 3 ore.

SUBIECTUL I

(30 puncte)



Harta de mai sus se referă la subiectul I A-C. Pe hartă sunt marcate state cu litere și orașe-capitală cu numere.

A. Precizați:

1. numele statelor marcate, pe hartă, cu literele **H** și **G**.
2. numele orașelor-capitală marcate, pe hartă, cu numerele **3** și **10**.

4 puncte

B. Scrieți, pe foaia de examen, răspunsurile corecte care completează propozițiile de mai jos:

1. Statul marcat, pe hartă, cu litera **I** se numește ...
2. Climatul subpolar este prezent pe teritoriul statului marcat, pe hartă, cu litera ...
3. Munții Apenini sunt situați pe teritoriul statului marcat, pe hartă, cu litera ...

6 puncte

C. Scrieți, pe foaia de examen, litera corespunzătoare răspunsului corect pentru fiecare dintre afirmațiile de mai jos:

1. Între țările europene se remarcă la producția de măslină statul marcat, pe hartă, cu litera:
a. A b. C c. D d. H **2 puncte**
2. Râurile scurte, cu pante accentuate, ce se varsă în Oceanul Atlantic prin fiorduri sunt specifice statului marcat, pe hartă, cu litera:
a. A b. C c. D d. E **2 puncte**
3. Energia mareelor este valorificată în statul marcat, pe hartă, cu litera:
a. B b. D c. F d. J **2 puncte**
4. În Europa, țara care își asigură în proporție de 100% energia electrică din resurse hidroenergetice este marcată, pe hartă, cu litera:
a. D b. E c. I d. J **2 puncte**
5. Cel mai important râu, ca lungime, suprafață a bazinului hidrografic și debit de pe teritoriul statului marcat pe hartă cu litera **A** este:
a. Pad b. Rhin c. Rhone d. Sena **2 puncte**

D. Comparați **climatul** Europei Centrale cu **climatul** Europei estice precizând o asemănare și două deosebiri.

Nota 1: Deosebirile și asemănarea se pot referi la oricare dintre următoarele elemente de **climă**: tip de climă, temperaturi medii anuale, precipitații medii anuale, vânturi, amplitudine termică.

Nota 2: Punctajul complet va fi acordat numai dacă cele două deosebiri și asemănarea vor fi prezentate comparativ și nu separat. **6 puncte**

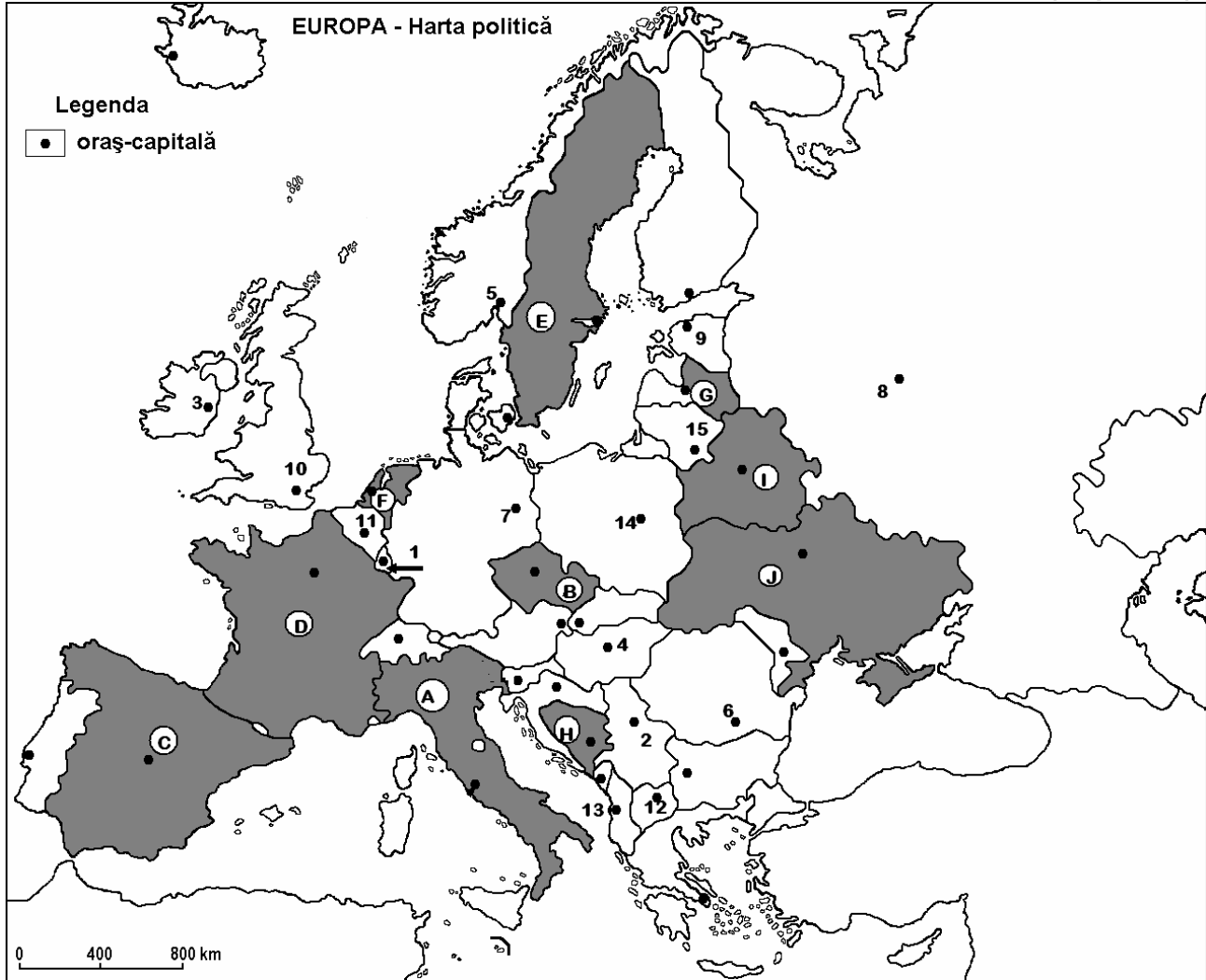
E. Explicați dezvoltarea turismului în Europa prezentând două argumente care să susțină afirmația: „Europa este leagănul turismului mondial.” **4 puncte**

Examenul de bacalaureat 2008
Proba D, E, F
Proba scrisă la Geografie
Europa – România – Uniunea Europeană

- Toate subiectele sunt obligatorii. Se acordă 10 puncte din oficiu.
- Timpul efectiv de lucru este de 3 ore.

SUBIECTUL I

(30 puncte)



Harta de mai sus se referă la subiectul I A-D. Pe hartă sunt marcate state cu litere și oraș-capitală cu numere.

A. Precizați:

1. numele statelor marcate, pe hartă, cu literele **B** și **D**.
2. numele orașelor-capitală marcate, pe hartă, cu numerele **1** și **9**.

4 puncte

B. Scrieți, pe foaia de examen, răspunsurile corecte care completează propozițiile de mai jos:

1. Podișul Donețk se află situat pe teritoriul statului marcat pe hartă cu litera ...
2. Capitala statului marcat, pe hartă, cu litera **A** se numește ...
3. Râul Guadalquivir străbate câmpia Andaluziei din statul marcat pe hartă cu litera ...

6 puncte

C. Scrieți, pe foaia de examen, litera corespunzătoare răspunsului corect pentru fiecare dintre afirmațiile de mai jos:

1. Al doilea vârf montan ca altitudine din Europa se află pe teritoriul statului marcat, pe hartă, cu litera:

a. B b. C c. D d. H **2 puncte**

2. Râurile care curg pe teritoriul statului marcat pe hartă cu litera **J** prezintă la vărsarea Marea Neagră:

a. estuar b. fiord c. golf marin d. liman **2 puncte**

3. Statul marcat, pe hartă, cu litera **G** se numește:

a. Belarus b. Estonia c. Letonia d. Lituania **2 puncte**

4. În Europa de Vest la producția de gaze naturale se remarcă statul marcat, pe hartă, cu litera:

a. A b. E c. F d. J **2 puncte**

5. Orașul marcat pe hartă cu numărul **14** este traversat de râul numit:

a. Dunăre b. Elba c. Rin d. Vistula **2 puncte**

D. Precizați trei deosebiri între **clima** statului marcat, pe hartă, cu litera **A** și **clima** statului marcat, pe hartă, cu litera **E**.

Nota 1: Deosebirile se pot referi la oricare dintre următoarele elemente de climă: tip de climă, temperaturi medii anuale, precipitații medii anuale, vânturi, amplitudine termică.

Nota 2: Punctajul complet va fi acordat numai dacă cele trei deosebiri vor fi prezentate comparativ și nu separat.

6 puncte

E. Prezentați două argumente care să explice valorile reduse ale densității populației în statele din Peninsula Scandinavică.

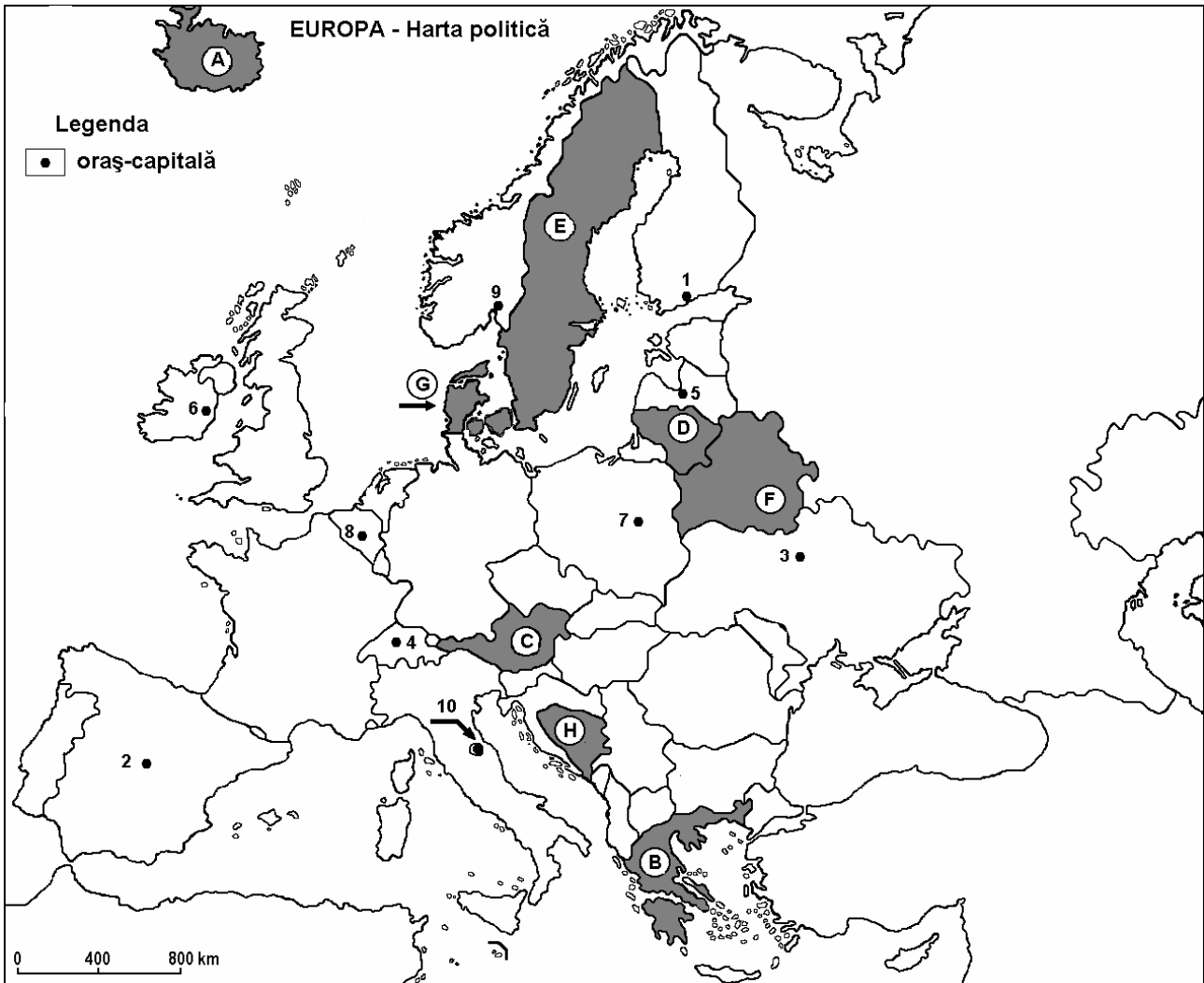
4 puncte

Examenul de bacalaureat 2008
Proba D, E, F
Proba scrisă la Geografie
Europa – România – Uniunea Europeană

- Toate subiectele sunt obligatorii. Se acordă 10 puncte din oficiu.
- Timpul efectiv de lucru este de 3 ore.

SUBIECTUL I

(30 puncte)



Harta de mai sus se referă la subiectul I A - E. Pe hartă sunt marcate state cu litere și orașe-capitală cu numere.

A. Precizați:

1. numele statelor marcate, pe hartă, cu numerele **D** și **H**;
2. numele orașelor-capitală marcate, pe hartă, cu numerele **2** și **3**.

4 puncte

B. Scrieți, pe foaia de examen, răspunsurile corecte care completează propozițiile de mai jos:

1. Statul marcat, pe harta, cu litera **B** se numește ...
2. Orașul Reykjavik este capitala statului marcat , pe harta, cu litera ...
3. Orașul marcat, pe hartă, cu numărul **6** se numește ...

6 puncte

C. Scrieți, pe foaia de examen, litera corespunzătoare răspunsului corect pentru fiecare dintre afirmațiile de mai jos:

- | | | | | | |
|---|------|------|------|-------|-----------------|
| 1. Orașul San Marino este marcat, pe hartă, cu numărul: | a. 4 | b. 5 | c. 8 | d. 10 | 2 puncte |
| 2. Se află în fiordul cu același nume, orașul marcat, pe hartă, cu numărul: | a. 2 | b. 7 | c. 9 | d. 10 | 2 puncte |
| 3. Este o monarhie, statul marcat, pe hartă, cu litera: | a. C | b. F | c. G | d. H | 2 puncte |
| 4. Flamanzii și valonii locuiesc în orașul marcat, pe hartă, cu numărul: | a. 1 | b. 4 | c. 7 | d. 8 | 2 puncte |
| 5. Fluviul Nipru traversează statul marcat, pe hartă, cu numărul: | a. E | b. F | c. G | d. H | 2 puncte |

D. Precizați două deosebiri și o asemănare între **relieful** statului marcat, pe hartă, cu litera **E** și **relieful** statului marcat, pe hartă, cu litera **H**.

Nota 1: Deosebirile și asemănarea se pot referi la oricare dintre următoarele aspecte ale **reliefului**: forme predominante de relief, mod de formare, tipuri de roci, distribuția spațială a altitudinilor, gradul de fragmentare, orientarea culmilor și văilor principale, tipuri genetice de relief, alte aspecte specifice ale reliefului.

Nota 2: Punctajul complet va fi acordat numai dacă deosebirile și asemănarea vor fi prezentate comparativ și nu separat.

6 puncte

E. Prezentați doi factori care determină regimul diferit de scurgere al fluviilor europene.

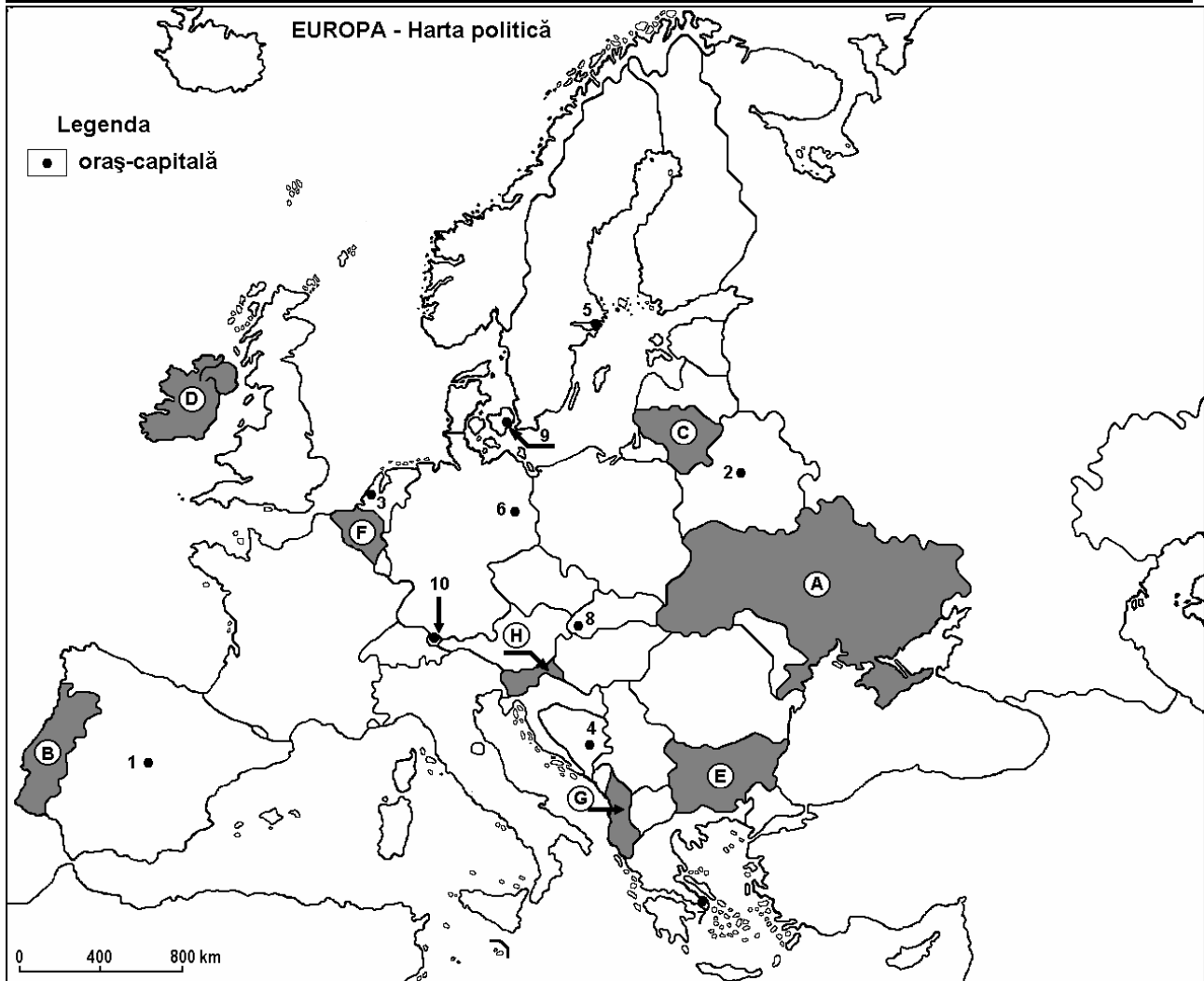
4 puncte

Examenul de bacalaureat 2008
Proba D, E, F
Proba scrisă la Geografie
Europa – România – Uniunea Europeană

- Toate subiectele sunt obligatorii. Se acordă 10 puncte din oficiu.
- Timpul efectiv de lucru este de 3 ore.

SUBIECTUL I

(30 puncte)



Harta de mai sus se referă la subiectul I A - D. Pe hartă sunt marcate state cu litere și orașe-capitală cu numere.

A. Precizați:

1. numele statelor marcate, pe hartă, cu literele **B** și **F**;
2. numele orașelor-capitală marcate, pe hartă, cu numerele **6** și **9**.

4 puncte

B. Scrieți, pe foaia de examen, răspunsurile corecte care completează propozițiile de mai jos:

1. Zăcămintele de minereu de fier de la Krivoi Rog, se află pe teritoriul statului marcat, pe hartă, cu litera
2. Vilnius este orașul-capitală al statului marcat, pe hartă cu, litera ...
3. Statul marcat, pe hartă, cu litera **H** se numește ...

6 puncte

C. Scrieți, pe foaia de examen, litera corespunzătoare răspunsului corect pentru fiecare dintre afirmațiile de mai jos:

- | | | | | | |
|---|-------------------|------------------|--------------------|--------------------|-----------------|
| 1. Este străbătut de Dunăre orașul marcat, pe hartă, cu numărul: | a. 7 | b. 8 | c. 9 | d. 10 | 2 puncte |
| 2. Orașul-capitală marcat, pe hartă, cu numărul 2 se numește: | a. Kiev | b. Minsk | c. Moscova | d. Varșovia | 2 puncte |
| 3. Capitala Greciei este marcată, pe hartă, cu numărul: | a. 1 | b. 4 | c. 7 | d. 10 | 2 puncte |
| 4. Capitala statului marcat, pe hartă, cu litera D se numește: | a. Belfast | b. Dublin | c. Glasgow | d. Londra | 2 puncte |
| 5. Orașul marcat, pe hartă, cu numărul 8 este capitala statului: | a. Austria | b. Cehia | c. Slovacia | d. Ungria | 2 puncte |

D. Precizați trei deosebiri între **relieful** statului marcat, pe hartă, cu litera **D** și **relieful** statului marcat cu litera **E**.

Nota 1: Deosebirile se pot referi la oricare dintre următoarele aspecte ale **reliefului**: forme predominante de relief, mod de formare, tipuri de roci, distribuția spațială a altitudinilor, gradul de fragmentare, orientarea culmilor și văilor principale, tipuri genetice de relief, alte aspecte specifice ale reliefului.

Nota 2: Punctajul complet va fi acordat numai dacă deosebirile vor fi prezentate comparativ și nu separat.

6 puncte

E. Prezentați două cauze care determină ca sistemului de transport european să i se acorde o importanță deosebită în politica financiară comunitară.

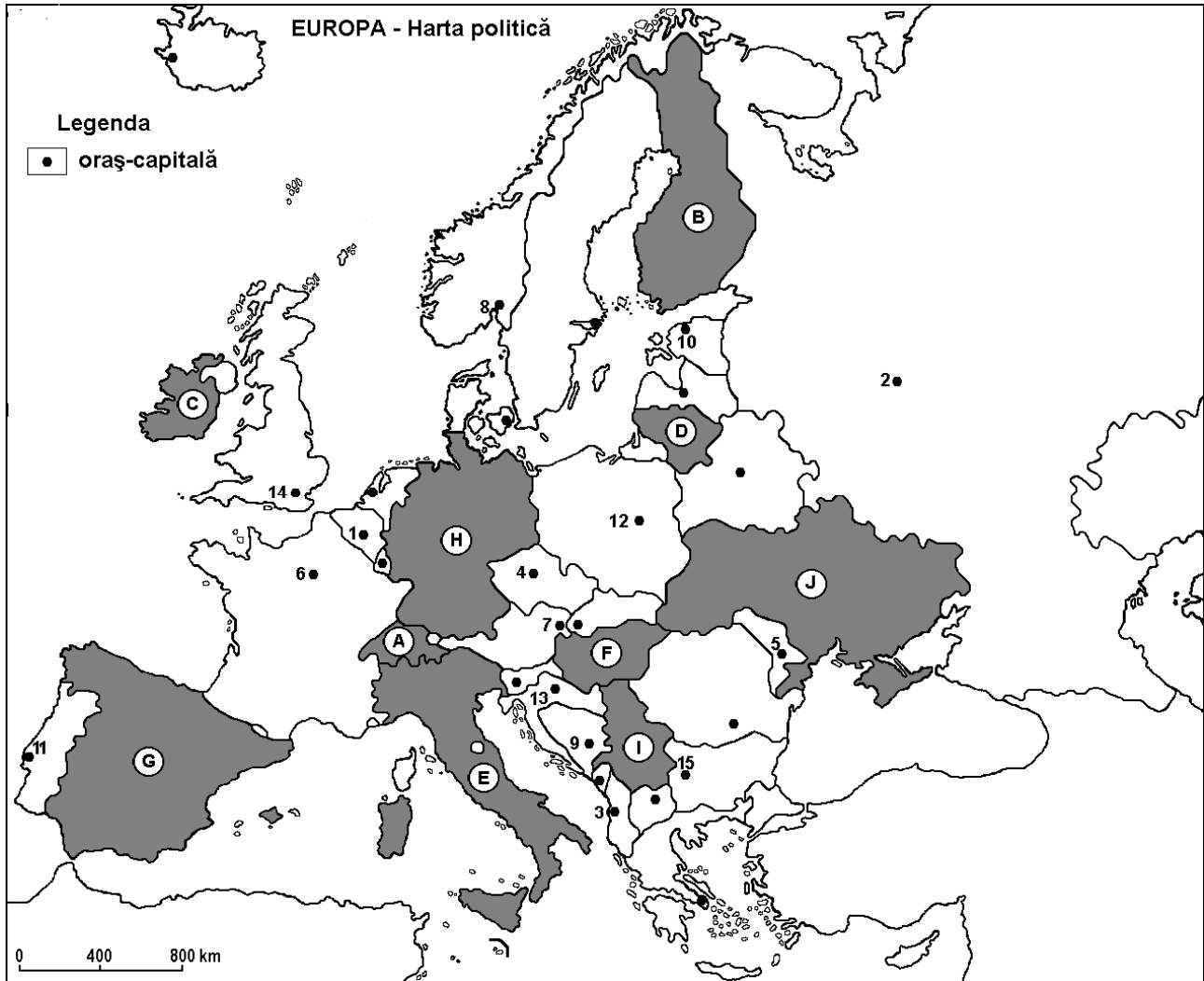
4 puncte

Examenul de bacalaureat 2008
Proba D, E, F
Proba scrisă la Geografie
Europa – România – Uniunea Europeană

- Toate subiectele sunt obligatorii. Se acordă 10 puncte din oficiu.
- Timpul efectiv de lucru este de 3 ore.

SUBIECTUL I

(30 puncte)



Harta de mai sus se referă la subiectul I A - D. Pe hartă sunt marcate state cu litere și orașe-capitală cu numere.

A. Precizați:

1. numele statelor marcate, pe hartă, cu literele **A** și **D**;
2. numele orașelor-capitală marcate, pe hartă, cu numerele **6** și **15**.

4 puncte

B. Scrieți, pe foaia de examen, răspunsurile corecte care completează propozițiile de mai jos:

1. Vulcanii Etna și Vezuviu sunt situați în statul marcat, pe hartă, cu litera ...
2. Este străbătut de râul Sena orașul marcat, pe hartă, cu numărul ...
3. Orașul marcat, pe hartă, cu numărul **10** este port la golful numit ...

6 puncte

C. Scrieți, pe foaia de examen, litera corespunzătoare răspunsului corect pentru fiecare dintre afirmațiile de mai jos:

1. Au făcut parte din același stat, orașele marcate, pe hartă, cu numerele:

a. 2 și 4	b. 2 și 5	c. 4 și 10	d. 5 și 6	2 puncte
-----------	-----------	------------	-----------	-----------------
2. Prezintă cel mai sudic ghețar din Europa, statul marcat, pe hartă, cu litera:

a. A	b. E	c. G	d. H	2 puncte
------	------	------	------	-----------------
3. Este port situat într-un fiord orașul marcat, pe hartă, cu numărul:

a. 3	b. 4	c. 7	d. 8	2 puncte
------	------	------	------	-----------------
4. Bazinele carbonifere Ruhr și Saar se găsesc în statul marcat, pe hartă, cu litera:

a. B	b. D	c. F	d. H	2 puncte
------	------	------	------	-----------------
5. În anul 2004 a fost integrat în Uniunea Europeană statul marcat, pe hartă, cu litera:

a. B	b. E	c. F	d. H	2 puncte
------	------	------	------	-----------------

D. Precizați trei deosebiri între **clima** statului marcat, pe hartă, cu litera **B** și **clima** statului marcat cu litera **C**.

Nota 1: Deosebirile se pot referi la oricare dintre următoarele elemente de **climă**: tip de climă, temperaturi medii anuale, precipitații medii anuale, vânturi, amplitudine termică.

Nota 2: Punctajul complet va fi acordat numai dacă deosebirile vor fi prezentate comparativ și nu separat.

6 puncte

E. Prezentați doi factori care determină regimul diferit de scurgere al fluviilor europene.

4 puncte